



1. Les élèves prêts pour un test se réunissent et s'assoient dans un endroit isolé sans pouvoir tricher.



2. Le prof choisit des numéros d'exercices à faire.



3. Avec le livret d'exercices sans les solutions, l'élève répond sur une feuille, dans un temps raisonnable.





4. A la fin, les élèves s'échangent leurs feuilles pour les corriger.

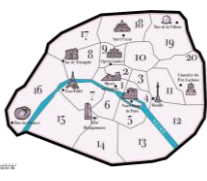



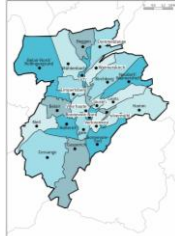

5. Les élèves corrigent en rouge la feuille d'un camarade en s'aidant de la version avec solutions.





6. Le prof vérifie d'un rapide coup d'œil. Plus de 80 %, le test est réussi. Sinon, il sera repassé après entraînement.

bloc	module I	page
A	 Bruxelles	niv.1 p.4 niv.2 p.6 niv.3 p.8
B	 Belgique	niv.1 p.11 niv.2 p.13 niv.3 p.15

bloc	module III	page
A	 Paris	niv.1 p.32 niv.2 p.34 niv.3 p.36
B	 France	niv.1 p.32 niv.2 p.41 niv.3 p.43

bloc	module II	page
A	 Luxembourg-Ville	niv.1 p.18 niv.2 p.20 niv.3 p.22
B	 Grand-Duché de Luxembourg	niv.1 p.25 niv.2 p.27 niv.3 p.29

bloc	module IV	page
A	 Europe	niv.1 p.46 niv.2 p.48 niv.3 p.50
B	 Monde	niv.1 p.53 niv.2 p.55 niv.3 p.57

Pour chaque bloc :

niv.1 : 4 directions cardinales *Uccle se situe à/au ☉ de Jette*

niv.2 : 8 directions cardinales *La ville de Echternach se situe à/au ☉ de Wiltz.*

niv.3 : 8 directions cardinales + distance / échelle *En suivant le Tropique du Capricorne, quelle est la distance entre Madagascar et l'Australie ?*



Carte des communes de Bruxelles-Capitale.



module I, bloc A

niv.1 : Réponds à la question sur les 4 directions cardinales



Questions

1	Quelle est la commune la plus au sud de Bruxelles ?	1
2	Saint-Gilles se situe à/au ☞ d'Uccle.	2
3	Anderlecht se situe à/au ☞ de Woluwe-Saint-Pierre.	3
4	Auderghem se situe à/au ☞ de Woluwe-Saint-Lambert.	4
5	Molenbeek-Saint-Jean se situe à/au ☞ de Schaerbeek.	5
6	Saint-Josse-Ten-Noode se situe à/au ☞ d'Ixelles.	6
7	Auderghem se situe à/au ☞ d'Anderlecht.	7
8	Ganshoren et Jette se situent à/au ☞ de Forest.	8
9	Quelle commune est coupée en 2 par la commune de Bruxelles ?	9
10	Quelle commune se trouve à l'ouest de Forest ?	10
11	Quelle est la commune qui se situe à l'est de Schaerbeek ?	11
12	Quelle est la commune la plus proche au nord d'Uccle sans toucher son territoire ?	12
13	Berchem-Sainte-Agathe se trouve à/au ☞ d'Anderlecht.	13
14	Watermael-Boitsfort est à/au ☞ d'Auderghem.	14
15	Quelle commune se situe à l'est de Jette ?	15
16	Etterbeek est à/au ☞ de Woluwe-Saint-Pierre.	16
17	Koekelberg est au nord de quelle commune ?	17
18	Uccle est à/au ☞ d'Ixelles.	18
19	Woluwe-Saint-Lambert est à/au ☞ d'Anderlecht.	19
20	Quelle commune limitrophe de Schaerbeek est la plus au sud ?	20
21	Quelle commune est la plus à l'ouest de Bruxelles-Capitale ?	21
22	Ganshoren se situe à/au ☞ de Bruxelles.	22



module I, bloc A

niv.1 : Réponds à la question sur les 4 directions cardinales



Questions

23	Quelle commune est au sud d'Ixelles ?	23
24	Molenbeek-Saint-Jean se situe à/au ☞ de Saint-Josse-Ten-Noode.	24
25	Uccle se situe à/au ☞ de Jette.	25
26	Evere est au nord de quelle commune ?	26
27	Quelle commune est la plus au nord ?	27
28	Quelle commune se situe au sud de Koekelberg ?	28
29	Bruxelles est à/au ☞ de Berchem-Sainte-Agathe.	29
30	Forest est à/au ☞ de Auderghem.	30
31	Quelles sont les 2 commune les plus proches au nord d'Anderlecht sans toucher son territoire ?	31
32	Parmi les communes limitrophes d'Ixelles, quelle est celle qui touche sa frontière le plus au sud ?	32
33	Quelle est la commune le plus au nord de la région de Bruxelles-Capitale ?	33
34	Quelle commune au sud de Jette commence par un "F" ?	34
35	Quelle est la commune la plus proche au nord d'Uccle sans toucher son territoire ?	35
36	Quelle est la commune le plus à l'ouest de la région de Bruxelles-Capitale ?	36
37	Quelle commune à l'ouest de Saint-Josse-ten-Noode commence par un "M" ?	37
38	Parmi les communes limitrophes de Saint-Gilles, quelles sont celles qui touchent sa frontière le plus au sud ?	38



module I, bloc A

niv.2 : Réponds à la question sur les 8 directions cardinales



Questions

1	Molenbeek-Saint-Jean est à/au ☞ d'Etterbeek.	1
2	Saint-Gilles est à/au ☞ de Watermael-Boitsfort.	2
3	Par rapport à Anderlecht, où se situe Evere ?	3
4	Uccle est à/au ☞ de Woluwe-Saint-Pierre.	4
5	Jette est à/au ☞ d'Etterbeek.	5
6	Forest est à/au ☞ d'Anderlecht.	6
7	Saint-Josse-ten-Noode est à/au ☞ de Saint-Gilles.	7
8	Quelle est la commune au sud la plus proche de Woluwe-Saint-Pierre ?	8
9	Par rapport à Forest, où se situe Berchem-Sainte-Agathe ?	9
10	Evere est à/au ☞ de Schaerbeek.	10
11	Je suis à Ganshoren et je vais vers le nord-est, j'arrive dans quelle commune ?	11
12	Berchem-Sainte-Agathe est à/au ☞ de Molenbeek-Saint-Jean.	12
13	Depuis Jette, je décide d'aller vers l'est, dans quelle commune vais-je arriver ?	13
14	Schaerbeek est au nord de quelle commune ?	14
15	Forest est à/au ☞ d'Evere.	15
16	Quelle commune de la région de Bruxelles-Capitale est la plus à l'ouest ?	16
17	Si je veux aller à Uccle depuis Anderlecht, quelle direction dois-je prendre ?	17
18	Uccle se trouve à/au ☞ de Bruxelles.	18
19	Quelle direction prend-on pour aller de Ixelles à Watermael-Boitsfort ?	19
20	Uccle est à/au ☞ de Woluwe-Saint-Lambert.	20



module I, bloc A

niv.2 : Réponds à la question sur les 8 directions cardinales



Questions

21	Forest est à/au ☞ de Molenbeek-Saint-Jean.	21
22	Watermael-Boitsfort est à/au ☞ de Saint-Gilles.	22
23	Saint-Josse-Ten-Noode est à/au ☞ d'Ixelles.	23
24	Je suis à Uccle et je désire aller à Watermael-Boitsfort, quelle direction vais-je prendre ?	24
25	Auderghem est à/au ☞ de Ganshoren.	25
26	Evere est à/au ☞ de Saint-Gilles.	26
27	Woluwe-Saint-Lambert est à/au ☞ d'Etterbeek.	27
28	Je vis à Ganshoren. Pour me rendre au travail, je roule vers l'est. Mon magasin se trouve dans la 4 ^e commune rencontrée. De quelle commune s'agit-il ?	28
29	Nous sommes à Molenbeek-Saint-Jean et nous devons aller vers le/l' ☞ pour rejoindre Jette.	29
30	Je suis à Saint-Gilles et je vais vers le nord-ouest, dans quelle commune vais-je arriver ?	30
31	Par rapport à Forest, où se situe Schaerbeek ?	31
32	Saint-Gilles est à/au ☞ d'Evere.	32
33	Woluwe-Saint-Lambert est à/au ☞ d'Auderghem.	33
34	Par rapport à Koekelberg, où se situe Etterbeek ?	34
35	Ganshoren est à/au ☞ de Saint-Josse-ten-Noode.	35
36	Uccle est à/au ☞ de Berchem-Sainte-Agathe.	36
37	Par rapport à Uccle, où se situe Woluwe-Saint-Pierre ?	37
38	Auderghem est à/au ☞ de Schaerbeek.	38
39	Ixelles est à/au ☞ de Ganshoren.	39



module I, bloc A

niv.3 : Réponds à la question sur les 8 directions cardinales et les directions/échelles.



Questions

1	Ixelles se trouve à 5 km au nord-est de quelle commune ?	1
2	Je vais à 2 km au nord-ouest de Saint-Gilles, dans quelle commune vais-je arriver ?	2
3	Tu es à Saint-Gilles, tu te déplaces de 3 km vers le sud-ouest, dans quelle commune es-tu ?	3
4	Je suis à Watermael-Boitsfort et je fais environ 6 km vers l'ouest. Dans quelle commune vais-je arriver ?	4
5	Je suis à Watermael-Boitsfort et je marche environ 3 km vers le nord. Où suis-je ?	5
6	Je vais à 6 km vers l'est en partant de Forest. Dans quelle commune vais-je arriver ?	6
7	Un oiseau vole 3 km vers le nord en démarrant d'Etterbeek. Où arrive-t-il ?	7
8	Je suis située à 3 km au nord-est de Berchem-St-Agathe. Je suis la commune de ?	8
9	Je démarre de Jette et je vais à 2 km vers l'est. Dans quelle commune vais-je arriver ?	9
10	Je suis à Uccle, je fais 7 km vers le nord-ouest. Dans quelle commune vais-je arriver ?	10
11	Je vais à 3 km vers le sud de Koekelberg, dans quelle commune vais-je arriver ?	11
12	Je suis à Evere, je marche 3 km vers le sud. Dans quelle commune vais-je arriver ?	12
13	Quelle commune est située à 3 km au nord-est de St-Josse ?	13
14	Combien de kilomètres séparent Woluwe-Saint-Lambert d'Etterbeek qui se trouve au sud-ouest ?	14
15	Ixelles se trouve à/au ? de Saint-Gilles.	15
16	J'ai oublié le nom de la commune qui se trouve à moins de 6 km au sud de Molenbeek-Saint-Jean. De quelle commune s'agit-il ?	16
17	Anderlecht se trouve à 3 km de Koekelberg. Dans quelle direction ?	17



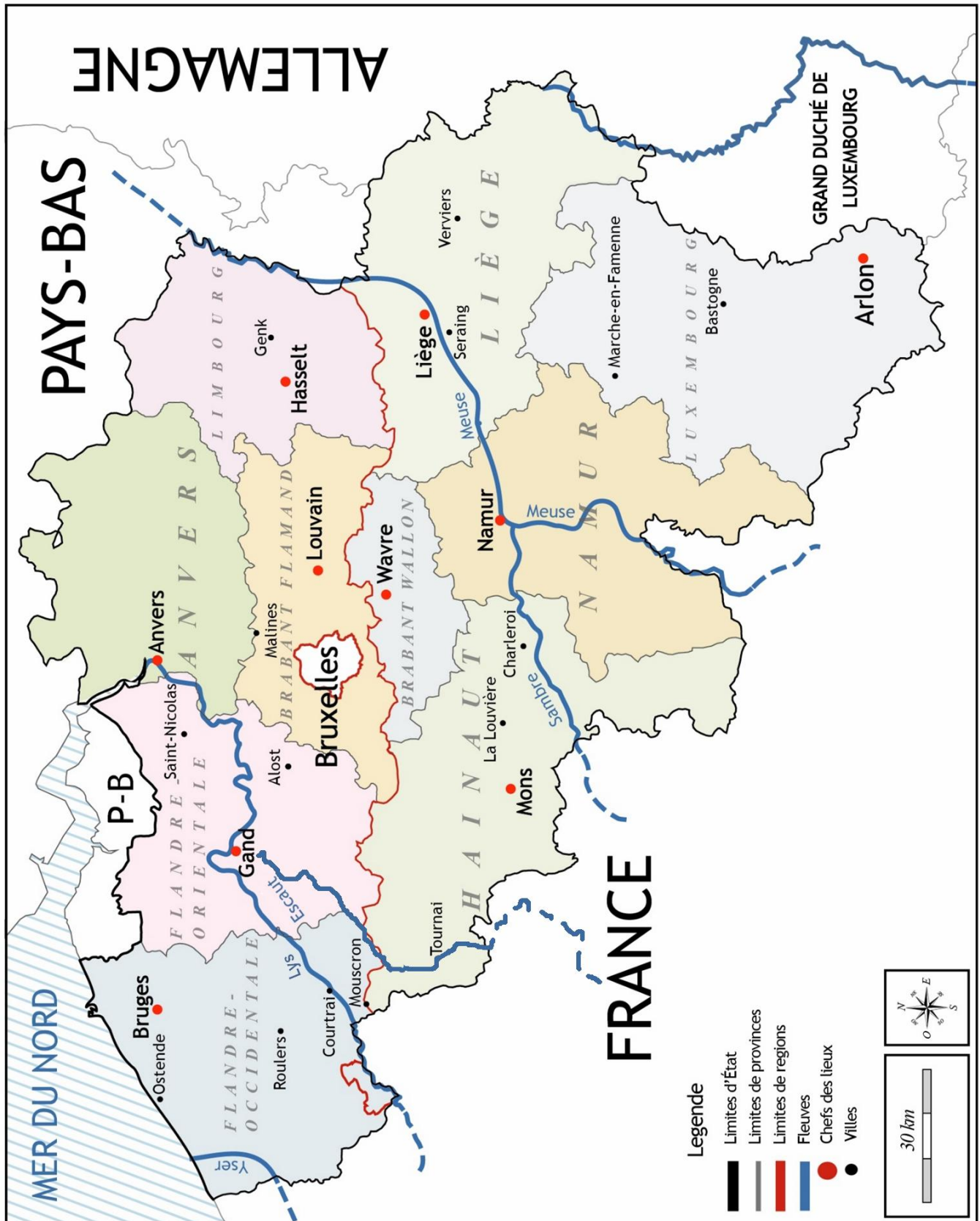
module I, bloc A

niv.3 : Réponds à la question sur les 8 directions cardinales et les directions/échelles.



Questions

18	Combien de km séparent Bruxelles-ville de Schaerbeek ?	18
19	Je suis à la frontière nord d'Ixelles et je marche vers le nord sur 3 km. Dans quelle commune vais-je arriver ?	19
20	Quelle est la distance entre Bruxelles-ville et Koekelberg ?	20
21	Quelle commune est située à 6 km au sud-est de Forest ?	21
22	Je pars de la pointe nord de Woluwe-Saint-Pierre et je marche 10 km droit vers l'ouest. Dans quelle commune vais-je arriver ?	22
23	Quelle est la distance entre le point le plus au nord et celui le plus au sud de la commune de Bruxelles-ville ?	23
24	Ganshoren est à/au ☹ Schaerbeek.	24
25	Quelle commune est située à 3 km au sud d'Evere ?	25
26	Je vais à 9 km au sud de St-Josse-Ten-Nood, dans quelle commune suis-je ?	26
27	Quelle distance sépare le point le plus au sud du point le plus au nord de Bruxelles-Capitale ?	27
28	Quelle est la distance entre les extrémités à l'ouest et à l'est de la commune d'Anderlecht ?	28
29	Je suis à Ixelles et je balade mon chien sur 6 km vers l'ouest. Dans quelle commune arrivons-nous ?	29
30	Evere se trouve à 9 km au ☹ de Forest.	30
31	Quelle commune se trouve à 4 km au nord de Auderghem ?	31
32	Je suis à Uccle, je marche 6 km vers l'est. J'arrive dans la commune de ☹.	32
33	Un oiseau vole de Etterbeek à Molenbeek-Saint-Jean, quelle distance parcourt-il ?	33
34	Jette se trouve à 12 km au nord de ☹.	34
35	Quelle est la distance minimale entre Evere et Schaerbeek ?	35



Carte des fleuves de la Belgique, de ses provinces et de leurs chefs-lieux.



niv.1 : Réponds à la question sur les 4 directions cardinales.



Questions

1	Quelle est la province à l'ouest de la province de Namur ?	1
2	La province du Luxembourg est à/au ☹ de Liège.	2
3	La ville de Mouscron est à/au ☹ de la ville de Courtrai.	3
4	Namur est la plus proche ville à/au ☹ de Seraing.	4
5	Quelle province au nord de Namur touche son territoire ?	5
6	Tournai est à/au ☹ de Gand.	6
7	Bruges se situe à/au ☹ d'Ostende.	7
8	Ostende est à/au ☹ de Bruges.	8
9	Roulers est/à ☹ d'Alost.	9
10	Mons est à/au ☹ de Charleroi.	10
11	Genk est à/au ☹ de Liège.	11
12	Tournai est à/au ☹ de Liège.	12
13	La province de Namur est à/au ☹ de la province du Brabant wallon.	13
14	Quelle province est la plus à l'est du pays ?	14
15	Saint-Nicolas est à/au ☹ de Alost.	15
16	Quelle ville sur la carte est la plus à l'est du pays ?	16
17	La province du Brabant flamand est à/au ☹ de la province du Brabant wallon.	17
18	L'Allemagne se situe à/au ☹ de la Belgique.	18
19	Les Pays-Bas sont tout à/au ☹ du pays.	19
20	Anvers est à/au ☹ des Pays-Bas.	20
21	La Louvière est à/au ☹ de Mons.	21



niv.1 : Réponds à la question sur les 4 directions cardinales.



Questions

22	La ville de Namur est à/au ☞ de Louvain.	22
23	La province d'Anvers est à/au ☞ du Brabant flamand.	23
24	La province de la Flandre-Occidentale est à/au ☞ de la Flandre-Orientale.	24
25	La ville de Seraing est à/au ☞ de Verviers.	25
26	Je suis à Anvers et je veux aller à Bruges, quelle direction dois-je prendre ?	26
27	La ville d'Hasselt est à/au ☞ de Louvain.	27
28	Quelle province est le plus à l'ouest de la Belgique ?	28
29	Je suis à Mons, où se situe la frontière avec l'Allemagne ?	29
30	Quelle province à l'est du Hainaut commence par un "L" ?	30
31	Les provinces du Limbourg, de ☞ et du Luxembourg se succèdent selon un axe nord-sud.	31
32	Quel est le chef-lieu au sud de Gand ?	32
33	L'Yser traverse l'/le ☞ de la Flandre-Occidentale.	33
34	Louvain se trouve à/au ☞ de Bruxelles et à/au ☞ d'Hasselt.	34
35	Quelle ville commençant par un "M" se trouve au nord de la Meuse ?	35
36	Partant de Courtrai, si je marche à l'est, quelle province vais-je rencontrer en premier ?	36
37	Partant de Wavre, je roule au nord. Par quel pays je sors de la Belgique ?	37
38	La ville de Charleroi est à/au ☞ de la ville d'Anvers.	38
39	Par rapport à Gand, où se situe Malines ?	39
40	La ville de La Louvière est à/au ☞ de la ville de Namur.	40



niv.2 : Réponds à la question sur les 8 directions.



Questions

1	La province du Luxembourg est à/au ☞ de la Belgique.	1
2	La Louvière est à/au ☞ de Mons.	2
3	Mons est à/au ☞ d'Alost.	3
4	Mouscron se trouve à/au ☞ de Gand.	4
5	Quelle est la province au nord-est de la province de Namur qui ne touche pas son territoire ?	5
6	Quelle est la province au sud-ouest de la province d'Anvers qui ne touche pas son territoire ?	6
7	La Mer du Nord se trouve à/au de la province de Liège.	7
8	Bruxelles se trouve à/au ☞ de Mons.	8
9	Avec mon ami, je veux aller d'Ostende à Gand, quelle direction prendre ?	9
10	La ville de Verviers se trouve à/au ☞ de Marche-en-Famenne.	10
11	L'Yser se trouve à/au ☞ de la ville d'Ostende.	11
12	Je suis à Seraing et je veux aller voir mes grands-parents à Louvain, quelle direction dois-je prendre ?	12
13	Courtrai est à/au ☞ d'Anvers.	13
14	Mouscron est à/au ☞ de La Louvière.	14
15	En balade à vélo à Saint-Nicolas, nous décidons d'aller vers le ☞ pour rejoindre Gand.	15
16	La Louvière est à/au ☞ d'Hasselt.	16
17	Verviers est à/au ☞ de la province d'Anvers.	17
18	La Meuse démarre en France. Après Namur, la Meuse va vers le/l' ☞ jusqu'aux Pays-Bas.	18
19	Je prends le train à Anvers pour rejoindre Genk, dans quelle direction vais-je ?	19
20	Hasselt se trouve à/au ☞ de Namur.	20



niv.2 : Réponds à la question sur les 8 directions.



Questions

21	Quelle ville est la plus proche au nord-est d’Hasselt ?	21
22	Quelle province se trouve au sud-est de la province d’Anvers ?	22
23	Le Grand-Duché de Luxembourg se trouve à/au ☞ de la Belgique.	23
24	Le Brabant flamand se trouve à/au ☞ de la province de Liège.	24
25	La province du Hainaut est à/au ☞ du Brabant Wallon.	25
26	Charleroi est à/au ☞ de Liège.	26
27	Pour aller à Ostende depuis Bruxelles, je vais prendre un train qui va vers le ☞.	27
28	La province d’Anvers est à/au ☞ de la province de Namur.	28
29	L’Escaut se trouve à/au ☞ de la ville de Bastogne.	29
30	Tournai est à/au ☞ de l’Yser.	30
31	Par rapport à Namur, où se situe Saint-Nicolas ?	31
32	Marche-en-Famenne se trouve à/au ☞ de Namur.	32
33	Où se situe Malines par rapport à Tournai ?	33
34	Courtrai est à/au ☞ de Bruxelles.	34
35	Où se situe Charleroi par rapport à Genk ?	35
36	Par rapport à Wavre, où se situe Gand ?	36
37	La Louvière est à/au ☞ de Bruges.	37
38	Par rapport à Hasselt, où se situe Wavre ?	38
39	Où se situe Louvain par rapport à Mons ?	39
40	Anvers se trouve à/au ☞ de Liège.	40
41	Par rapport à Tournai, où se situe Bruxelles ?	41



niv.3 : Réponds à la question sur les 8 directions cardinales et les distances/échelles.



Questions

1	Courtrai est située à environ ☹ km à vol d'oiseau à l'ouest de Bruxelles.	1
2	Wavre est située à environ ☹ km à vol d'oiseau au nord-est de Mons.	2
3	Mons est située à environ ☹ à l'ouest de Namur.	3
4	Quelle province est située à moins de 10 km de Bruxelles ?	4
5	Quelle ville se trouve à 25 km à vol d'oiseau à l'ouest de Verviers ?	5
6	Quelle ville se trouve à 80 km à vol d'oiseau à l'ouest d'Anvers ?	6
7	Marche-en-Famenne se situe à vol d'oiseau à ☹ au sud de Hasselt.	7
8	Mons se situe à 40 km à vol d'oiseau à/au ☹ de Tournai.	8
9	Je suis en France. Je veux traverser la Belgique en prenant le chemin le plus court pour aller aux Pays-Bas. Combien de km vais-je devoir parcourir ?	9
10	Alost se situe à/au ☹ de Namur.	10
11	Saint-Nicolas se trouve à 45 km au nord-ouest de ☹.	11
12	Namur se trouve à l'est de Mons mais à quelle distance ?	12
13	En comptant la distance la plus courte, le Hainaut se trouve à 30 km à l'Ouest de ☹.	13
14	Malines se trouve au nord de Charleroi, mais quelle distance sépare ces deux villes ?	14
15	Anvers se trouve à 90 km au nord-est de ☹.	15
16	☹ se trouve à 40 km au nord de Seraing.	16
17	Je suis au sud des Pays-Bas et je souhaite aller au Grand-Duché de Luxembourg, quelle direction suivre en passant par la province de Liège ?	17
18	Je pars de la Flandre-Occidentale et je vais vers la province du Luxembourg. Dans quelle direction vais-je ?	18
19	Au sud de la province d'Anvers se trouve la Province du ☹.	19



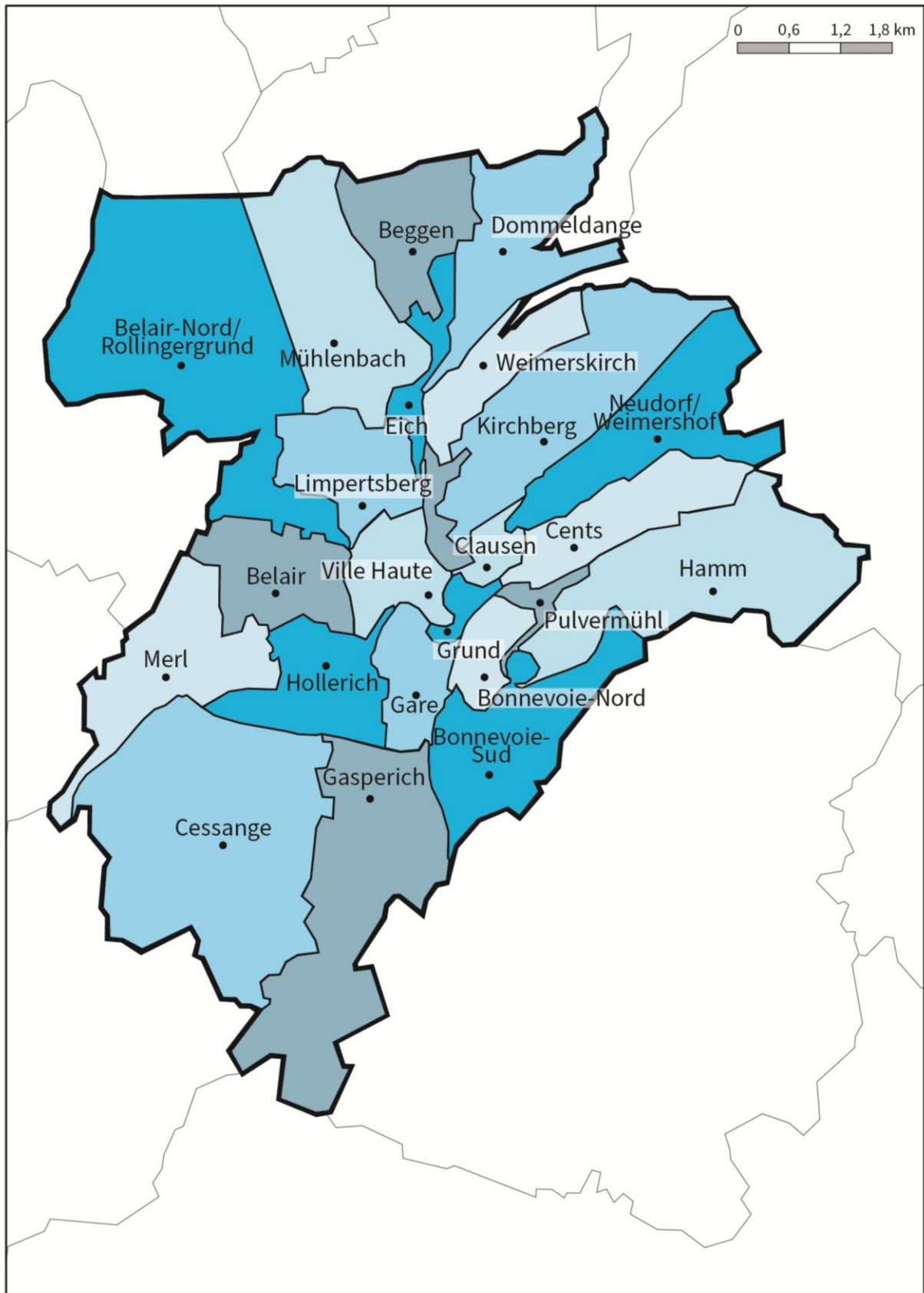
niv.3 : Réponds à la question sur les 8 directions cardinales et les distances/échelles.



Questions

20	Cite-moi la ville la plus au sud du pays représentée sur la carte.	20
21	Louvain se trouve à 85 km au nord-ouest de quelle ville ?	21
22	Quelle ville représentée sur la carte se trouve le plus à l'Ouest du pays ?	22
23	Donne-moi la ville la plus à l'est de la province de Liège.	23
24	<input type="text"/> se trouve à 65 km à l'est de Roulers.	24
25	La province de Namur se trouve à/au <input type="text"/> de la province d'Anvers.	25
26	Je souhaite aller en voiture de Bruges à Alost en passant par Courtrai combien de km vais-je devoir rouler ?	26
27	La Mer du Nord ne se trouve pas vraiment au nord par rapport à notre pays, où se trouve-elle exactement ?	27
28	Mon train va de Arlon à Ostende en passant par Bruxelles qui se trouve au nord-ouest, quelle sera la distance parcourue par mon train ?	28
29	Saint-Nicolas se trouve à 70 km à/au <input type="text"/> de La Louvière.	29
30	Quelle est la distance entre Marche-en-Famenne et Bastogne ?	30
31	La province du Luxembourg se situe à <input type="text"/> km au sud-est de la province du Brabant Wallon (en prenant la distance la plus courte).	31
32	Trouve le chef-lieu du Hainaut.	32
33	La Louvière se situe à/au <input type="text"/> par rapport à la Sambre.	33
34	Quelle est la distance la plus courte entre Genk et la Meuse.	34
35	Vrai ou faux : Hasselt se trouve en Wallonie.	35
36	Quelles sont les deux villes au sud de Marche-en-Famenne ?	36
37	Quelles villes se situe à 100 km de Verviers ?	37
38	Arlon se trouve à/au <input type="text"/> de la Belgique.	38
39	100 km à l'est d'Ostende on trouve <input type="text"/> .	39

Module II.A - Luxembourg-ville



Carte de la ville de Luxembourg et de ses quartiers.



niv.1 : Réponds à la question sur les 4 directions cardinales



Questions

1	Beggen se situe à/au ☞ de Gasperich.	1
2	Où se situe Gasperich par rapport à la Ville Haute ?	2
3	Belair se situe à/au ☞ de Hamm.	3
4	Quel quartier est au sud de Merl ?	4
5	Beggen se situe à/au ☞ de la ville de Luxembourg.	5
6	Cents se situe à/au ☞ de Belair.	6
7	Quel quartier est à l'ouest de Mühlenbach ?	7
8	Le quartier de la Gare se situe à/au ☞ d'Hollerich.	8
9	Cessange se situe à/au ☞ de Gasperich.	9
10	Où se situe Beggen par rapport à Bonnevoie-Sud ?	10
11	Partant de Clausen, dans quelle direction dois-je rouler pour aller à Merl ?	11
12	Hamm se situe à/au ☞ de Belair.	12
13	Quel quartier est directement au sud de Dommeldange ?	13
14	Eich se situe à/au ☞ de Belair-Nord/Rollingergrund.	14
15	Mühlenbach se situe à/au ☞ de la Gare.	15
16	Pulvermühl est à/au ☞ de Hamm.	16
17	Par rapport à Mühlenbach, où se situe Limpertsberg ?	17
18	Bonnevoie-Nord se situe à/au ☞ de Kirchberg.	18
19	Belair-Nord/Rollingergrund se situe à/au ☞ de Mühlenbach.	19
20	Par rapport à Beggen, où se situe le quartier de la Ville Haute ?	20
21	Où se situe Pulvermühl par rapport à Kirchberg ?	21
22	Le quartier de la Gare se situe à/au ☞ d'Eich.	22
23	Hamm se situe à/au ☞ de la ville de Luxembourg.	23



niv.1 : Réponds à la question sur les 4 directions cardinales



Questions

24	En partant de Bonnevoie-Sud, dans quelle direction dois-je rouler pour aller à Clausen ?	24
25	Où se situe Kirchberg par rapport à Bonnevoie-Sud ?	25
26	Neudorf/Weimershof se situe à/au ☞ de Eich.	26
27	Cessange se situe à/au ☞ de Belair-Nord.	27
28	Quel est le quartier le plus au sud de la ville de Luxembourg ?	28
29	Le quartier de la Gare est à/au ☞ de la Ville Haute.	29
30	Merl se situe à/au ☞ de Belair-Nord/Rollingergrund.	30
31	La Ville Haute se situe à/au ☞ de Gasperich.	31
32	Où se situe Bonnevoie-Nord par rapport au quartier de Hamm ?	32
33	Hollerich se situe à/au ☞ de Merl.	33
34	Weimerskirch se situe à/au ☞ de Bonnevoie-Sud.	34
35	En partant de Eich, dans quelle direction dois-je rouler pour aller à Neudorf/Weimershof ?	35
36	Par rapport à Clausen, où se situe Belair ?	36
37	Je pars de Bonnevoie-Nord vers Merl, quels quartiers vais-je traverser ?	37
38	Où se situe Bonnevoie-Sud par rapport à Cents ?	38
39	En partant de Kirchberg, dans quelle direction dois-je rouler pour aller à Eich ?	39
40	Dommeldange se situe à/au ☞ de Bonnevoie-Nord.	40
41	Quel est le quartier le plus à l'est de la ville de Luxembourg ?	41
42	En partant de Cents, dans quelle direction dois-je rouler pour aller à Limpertsberg ?	42
43	Où se situe Limpertsberg par rapport à Hollerich ?	43



niv.2 : Réponds à la question sur les 8 directions.



Questions

1	Le quartier de Belair se trouve à/au ☞ de celui de Limpertsberg.	1
2	Cessange se situe à/au ☞ du quartier de Grund.	2
3	Limpertsberg se situe à/au ☞ de Dommeldange.	3
4	Cents se situe à/au ☞ de Mühlenbach.	4
5	Limpertsberg se situe à/au ☞ de Grund.	5
6	Le quartier de Eich se situe à/au ☞ de Belair.	6
7	Mühlenbach se situe à/au ☞ de Gasperich.	7
8	Gasperich se situe à/au ☞ de Bonnevoie-Nord.	8
9	Cessange se situe à/au ☞ de Neudorf/Weimershof.	9
10	Pour rejoindre le canton de Hamm en partant de celui de Beggen, je dois aller à/au ☞.	10
11	Pulvermühl se situe à/au ☞ de Limpertsberg.	11
12	Le quartier de la gare se situe à/au ☞ d’Hamm.	12
13	Merl se situe à/au ☞ de Limpertsberg.	13
14	Cents se situe à/au ☞ de Rollingergrund/Belair-Nord.	14
15	Hollerich se situe à/au ☞ d’Eich.	15
16	Dommeldange se situe à/au ☞ de Merl.	16
17	Gasperich se situe à/au ☞ de Pulvermühl.	17
18	Grund se situe à/au ☞ de Mühlenbach.	18
19	Eich se situe à/au ☞ d’Hamm.	19
20	Weimerskirch se situe à/au ☞ d’Hollerich.	20
21	Belair se situe à/au ☞ de Dommeldange.	21



niv.2 : Réponds à la question sur les 8 directions.



Questions

22	Le quartier de Bonnevoie-Sud se situe à/au ☞ d'Hamm.	22
23	Le quartier de la gare se situe à/au ☞ de Clausen.	23
24	Ville Haute se situe à/au ☞ de Hollerich.	24
25	Le quartier de la gare se situe à/au ☞ de Limpertsberg.	25
26	Cents se situe à/au ☞ de Merl.	26
27	Le quartier de Kirchberg se situe à/au ☞ de celui de Cessange.	27
28	Le quartier de la gare se situe à/au ☞ de Neudorf/Weimershof.	28
29	Beggen se situe à/au ☞ de Bonnevoie-Sud.	29
30	Belair se situe à/au ☞ de Kirchberg.	30
31	Je suis à Grund, quelle direction dois-je prendre pour aller à Eich ?	31
32	Ville Haute se situe à/au ☞ de Merl.	32
33	Limpertsberg se situe à/au ☞ de Hollerich.	33
34	Mullenbach se situe à/au ☞ de Bonnevoie-Sud.	34
35	Merl se situe à/au ☞ de Cents.	35
36	Dommeldange se situe à/au ☞ de Neudorf/Weimershof.	36
37	La Ville Haute se situe à/au ☞ de Hamm.	37
38	Bonnevoie-Sud se situe à/au ☞ de Gasperich.	38
39	Belair se situe à/au ☞ de Kirchberg.	39
40	Gasperich se situe à/au ☞ de Belair.	40



niv.3 : Réponds à la question sur les 8 directions cardinales et les distances/échelles.



Questions

1	Quelle distance sépare Cessange de Gasperich ?	1
2	Je pars de Bonnevoie-Nord et je parcours 1 km environ vers le nord-est. Dans quel quartier vais-je arriver ?	2
3	Cite le quartier le plus au sud de la ville de Luxembourg ?	3
4	Si je suis à Belair et que je parcours 1,5 km environ vers le nord-est, dans quelle ville vais-je arriver ?	4
5	Je suis à Merle, je parcours 3 km vers l'est, dans quel quartier vais-je arriver ?	5
6	Combien de kilomètres dois-je parcourir pour aller de Mühlenbach à Bonnevoie-Sud ?	6
7	Je pars de Beggen, je parcours 2,5 km environ vers le sud-est. Dans quel quartier vais-je arriver ?	7
8	Combien de kilomètres dois-je parcourir pour aller de Merl à Gare ?	8
9	Combien de kilomètres séparent le point le plus au nord du point le plus au sud de la ville de Luxembourg ?	9
10	Si je suis à Hamm et que je parcours 4,2 km vers le nord-ouest. Dans quel quartier vais-je arriver ?	10
11	Quelle distance sépare Belair de Gasperich ?	11
12	Combien de kilomètres dois-je parcourir pour aller de Mühlenbach à Bonnevoie Sud ?	12
13	Cite le quartier au nord-ouest de Limpertsberg ?	13
14	Je suis à Bonnevoie-Sud et je parcours 1,2 km vers Belair-Nord / Rollingergrund. Quelle est ma destination ?	14
15	Je pars de Limpertsberg, je parcours 3,6 km vers le sud. Dans quel quartier vais-je arriver ?	15
16	Si je suis à Belair et que je parcours 1,8 km vers l'est, dans quel quartier vais-je arriver ?	16

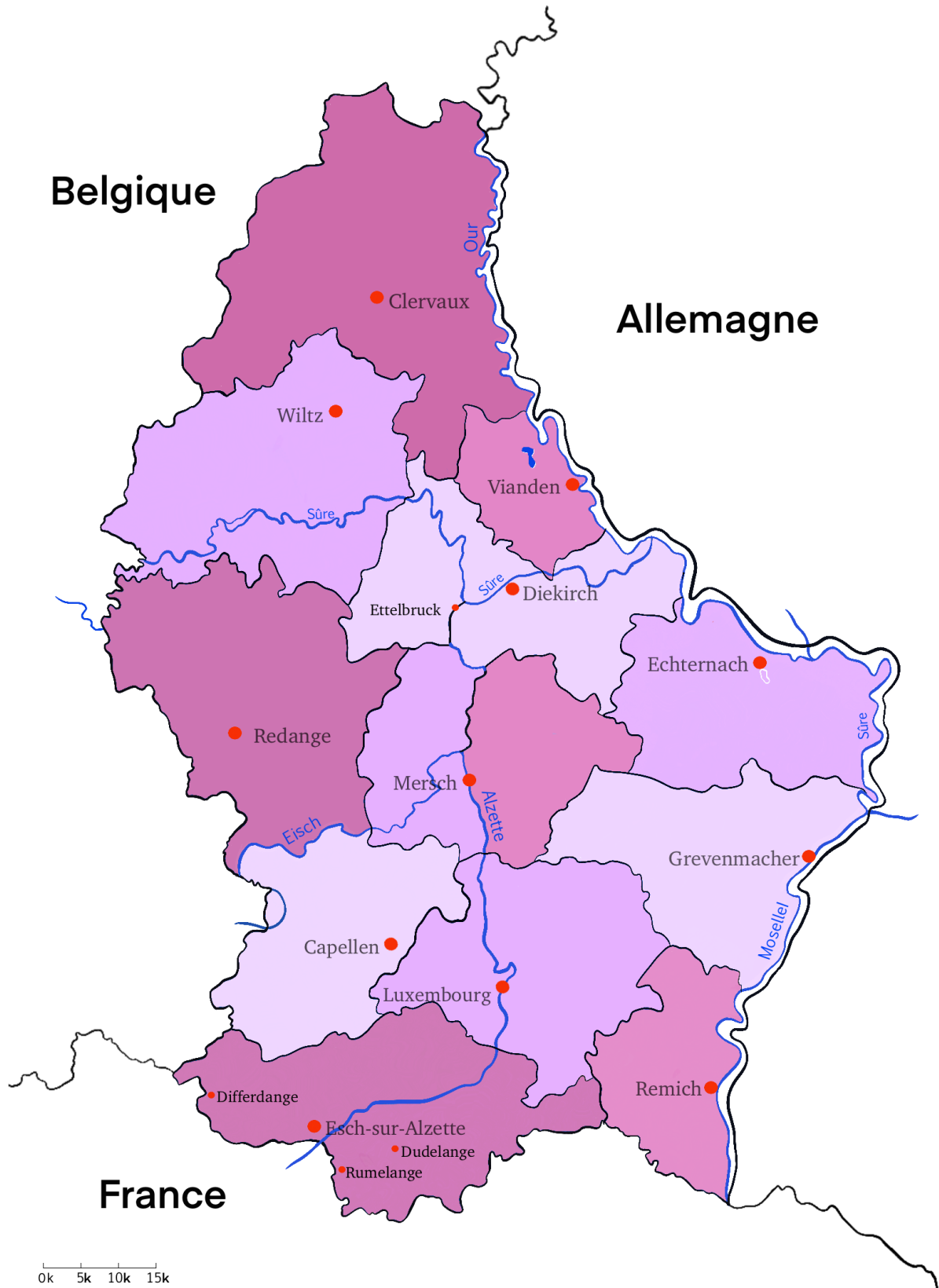


niv.3 : Réponds à la question sur les 8 directions cardinales et les distances/échelles.



Questions

17	Combien de kilomètres dois-je parcourir pour aller de Belair à Eich ?	16
17	Cite le plus grand quartier au sud-ouest de Luxembourg ville ?	17
18	Si je suis à Bonnevoie-Nord et que je parcours 3 km vers le nord-ouest, dans quel quartier vais-je arriver ?	18
19	Je suis à Neudorf / Weimershof, j'ai parcouru 600 m pour sortir de la ville de Luxembourg. Quelle direction ai-je prise ?	19
20	Si je suis à Clausen et que je parcours 2 km vers le nord, dans quel quartier vais-je arriver ?	20
21	Je pars de Mühlenbach, je marche 1 km vers le sud-ouest. Dans quel quartier vais-je arriver ?	21
22	Cite le quartier au nord-est de Merl ?	22
23	Si je suis à Clausen et que je parcours 1 km vers le sud-est, dans quel quartier vais-je arriver ?	23
24	Quelle distance sépare Gasperich et Hamm ?	24
25	Cite les quatre quartiers de la carte les plus au nord ?	25
26	Je démarre de Cessange, je vais à Gare puis je me rends à Limpertsberg vers le nord-ouest. Quelle distance ai-je parcourue ?	26
27	Je pars de Merl, je parcours 3 km vers le nord-est. Dans quel quartier vais-je arriver ?	27
28	Quelle distance sépare Bonnevoie-Nord et Pulvermühl ?	28
29	Je démarre de l'extrême sud de la ville, je me rends à Cents en passant d'abord par Merl. Quelle distance ai-je parcourue ?	29



Carte des cantons, des chefs-lieux, des villes principales et des rivières du Grand-Duché de Luxembourg.



niv.1 : Réponds à la question sur les 4 directions cardinales.



Questions

1	La ville d'Esch-sur-Alzette est située à/au ☞ du Grand-Duché de Luxembourg.	1
2	La ville d'Echternach est située à/au ☞ du Grand-Duché de Luxembourg.	2
3	La ville de Mersch est située à/au ☞ d'Echternach.	3
4	La ville de Remich est située à/au ☞ d'Esch-sur-Alzette.	4
5	Quel cours d'eau est situé à l'ouest de Grevenmacher ?	5
6	La ville de Capellen est située à/au ☞ de Luxembourg.	6
7	Vianden est situé à/au ☞ de la ville de Diekirch.	7
8	La ville de Clervaux est située à/au ☞ de la ville d'Ettelbruck.	8
9	La ville de Remich est située à/au ☞ de Grevenmacher.	9
10	Quelle est la ville située à l'ouest d'Esch-sur-Alzette ?	10
11	Quelle est la ville située au sud d'Echternach ?	11
12	La ville de Clervaux est la ville la plus à/au ☞ du Grand-Duché de Luxembourg.	12
13	Quelles villes sont situées dans le même canton que la ville d'Esch-sur-Alzette ?	13
14	Quel pays est au nord de Clervaux ?	14
15	Redange est à/au ☞ de la Belgique.	15
16	Quel pays est à l'est de Remich ?	16
17	La ville de Luxembourg est à/au ☞ de Vianden.	17
18	La ville d'Esch-sur-Alzette est à/au ☞ de Remich.	18
19	Quelle est la ville la plus au sud du Grand-Duché de Luxembourg ?	19
20	Le cours d'eau Our est situé à/au ☞ de la ville de Clervaux.	20



niv.1 : Réponds à la question sur les 4 directions cardinales.



Questions

21	Vianden se situe à/au ☞ de Wiltz.	21
22	Quelles villes se situent dans des cantons qui ne sont pas limitrophes au Grand-Duché de Luxembourg ?	22
23	La ville de Capellen se situe à/au ☞ de Wiltz.	23
24	Diekirch est à/au ☞ de la France.	24
25	La France se situe à/au ☞ de la ville d'Esch-sur-Alzette.	25
26	La ville de Wiltz est à/au ☞ d'Esch-sur-Alzette.	26
27	La ville de Clervaux se situe à/au ☞ d'Esch-sur-Alzette.	27
28	La ville de Mersch se situe à/au ☞ d'Echternach.	28
29	La ville d'Esch-sur-Alzette est à/au ☞ du Grand-Duché de Luxembourg.	29
30	Vianden est à/au ☞ de l'Allemagne.	30
31	La ville de Mersch se situe à/au ☞ de Redange.	31
32	Quel cours d'eau est situé au sud de Redange ?	32
33	La ville de Redange se situe à/au ☞ de Clervaux.	33
34	Quelle est la ville la plus à l'est du Grand-Duché de Luxembourg ?	34
35	La ville de Luxembourg se situe à/au ☞ de la ville de Mersch.	35
36	Où se situe la ville de Diekirch par rapport à la ville de Capellen ?	36
37	Le cours d'eau Alzette est situé à/au ☞ de la ville de Redange.	37
38	La ville d'Ettelbruck se situe à/au ☞ de la ville d'Echternach.	38
39	La ville de Mersch se situe à/au ☞ de la ville de Dudelange.	39
40	Où se situe la ville de Remich par rapport à la ville de Differdange ?	40
41	La ville de Differdange se situe à/au ☞ de la ville de Redange.	41



niv.2 : Réponds à la question sur les 8 directions cardinales.



Questions

1	Remich se situe à/au ☞ de Dudelange.	1
2	La ville de Echternach se situe à/au ☞ de Wiltz.	2
3	Redange se situe à/au ☞ de Grevenmacher.	3
4	Remich se situe à/au ☞ du canton de Wiltz.	4
5	La ville de Clervaux se situe à/au ☞ de Grevenmacher.	5
6	Rumelange se situe à/au ☞ de la ville d'Echternach.	6
7	La ville de Wiltz se situe à/au ☞ de la Sûre.	7
8	Remich se situe à/au ☞ de Clervaux.	8
9	Differdange se situe à/au ☞ du Grand-Duché de Luxembourg.	9
10	Mersch se situe à/au ☞ de Remich.	10
11	Esch-sur-Alzette se situe à/au ☞ de la Sûre.	11
12	La Moselle se situe à/au ☞ du Grand-Duché de Luxembourg.	12
13	Cappellen se situe à/au ☞ de la Sûre.	13
14	Je suis à Ettelbruck. Dans quelle direction dois-je me diriger pour aller vers Remich.	14
15	La ville de Clervaux se situe à/au ☞ du Grand-Duché de Luxembourg.	15
16	Rumelange se situe à/au ☞ de Esch-sur-Alzette.	16
17	Grevenmacher se situe à/au ☞ de Diekirch.	17
18	La Sûre se situe à/au ☞ d'Esch-sur-Alzette.	18
19	La ville de Luxembourg se situe à/au ☞ de la Sûre.	19
20	La ville de Remich se situe à/au ☞ de Wiltz.	20



niv.2 : Réponds à la question sur les 8 directions cardinales.



Questions

21	La France est à/au ☞ du Grand-Duché de Luxembourg.	21
22	Redange se situe à/au ☞ de Vianden.	22
23	Differdange se situe à/au ☞ de la ville de Luxembourg.	23
24	L'Our est à/au ☞ du Grand-Duché de Luxembourg.	24
25	Je suis à Clervaux et je veux rejoindre rapidement l'Our, quelle direction dois-je prendre ?	25
26	Capellen se situe à/au ☞ de Redange.	26
27	Dudelange est à/au ☞ d'Echternach.	27
28	La ville de Luxembourg se situe à/au ☞ de Redange.	28
29	Le canton dans lequel se trouve Remich se situe à/au ☞ du Grand-Duché de Luxembourg.	29
30	Echternach se situe à/au ☞ de Capellen.	30
31	Wiltz se situe à/au ☞ de la Moselle.	31
32	Clervaux se situe à/au ☞ de Grevenmacher.	32
33	Ettelbruck se situe à/au ☞ de Wiltz.	33
34	La Sûre se situe à/au ☞ de Dudelange.	34
35	Clervaux se situe à/au ☞ de Sûre.	35
36	Differdange se situe à/au ☞ de la Moselle.	36
37	L'Azette se situe à/au ☞ de Remich.	37
38	Le canton dans lequel se trouve la ville de Clervaux se situe à/au ☞ de Remich.	38
39	Remich à/au ☞ de l'Alzette.	39



niv.3 : Réponds à la question sur les 8 directions cardinales et les distances/échelles.



Questions

1	Quelle distance sépare Redange de Mersch ?	1
2	Je pars de Remich, je parcours 20 km vers le nord-est. Dans le canton de quelle ville vais-je arriver ?	2
3	Cite la ville au sud-est de Luxembourg la capitale ?	3
4	Si je suis à Redange et que je parcours 45 km vers le nord-est, dans quelle ville vais-je arriver ?	4
5	Je suis à Wiltz, je parcours 25 km vers l'est, dans quel pays vais-je arriver ?	5
6	Combien de kilomètres dois-je parcourir pour aller de Mersch à Capellen ?	6
7	Je pars de la ville de Luxembourg, je parcours 15 km vers le sud-est. Dans le canton de quelle ville vais-je arriver ?	7
8	Combien de kilomètres dois-je parcourir pour aller de Redange à la ville de Luxembourg ?	8
9	Combien de kilomètres séparent le point le plus au nord du point le plus au sud du Grand-Duché de Luxembourg ?	9
10	Si je suis à Luxembourg-Ville et que je parcours 45 km vers le nord-est. Dans quelle ville vais-je arriver ?	10
11	Quelle distance sépare Clervaux de Wiltz ?	11
12	Combien de kilomètres dois-je parcourir pour aller de Capellen à Grevenmacher ?	12
13	Cite la ville au nord-est de Wiltz ?	13
14	Je suis à Clervaux, je parcours 80 km vers le sud-est, quelle est ma destination ?	14
15	Je pars de Vianden, je parcours 20 km vers le sud-est. Dans le canton de quelle ville vais-je arriver ?	15
16	Si je suis à Differdange et que je parcours 66 km vers l'est, dans quelle ville vais-je arriver ?	16

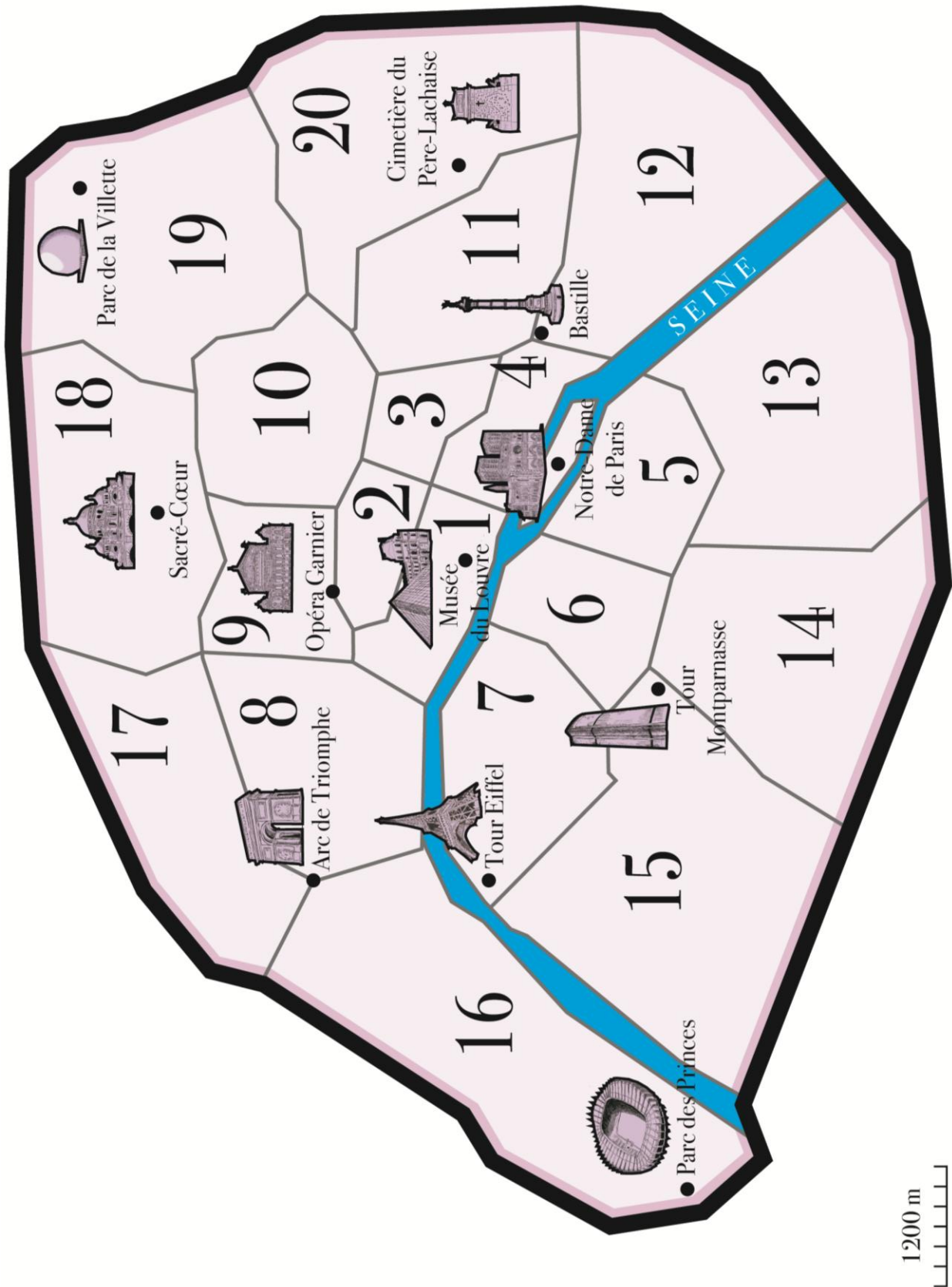


niv.3 : Réponds à la question sur les 8 directions cardinales et les distances/échelles.



Questions

17	Combien de kilomètres dois-je parcourir pour aller de Diekirch à Echternach ?	17
18	Cite la plus grande ville au sud-ouest de Capellen ?	18
19	Si je suis à Vianden et que je parcours 15 km vers le sud-ouest, dans quelle ville vais-je arriver ?	19
20	Je suis à Capellen, j'ai parcouru 20 km pour arriver dans un pays voisin. Quelle direction ai-je prise ?	20
21	Si je suis à Grevenmacher et que je parcours 27 km vers le nord, dans quelle ville vais-je arriver ?	21
22	Je pars de Vianden, je parcours 35 km vers le nord-ouest. Dans le canton de quelle ville vais-je arriver ?	22
23	Cite la ville au nord-est de Diekirch ?	23
24	Si je suis à Rumelange et que je parcours 5 km vers le nord-est, dans quelle ville vais-je arriver ?	24
25	Quelle distance sépare la ville de Luxembourg de Capellen ?	25
26	Cite les trois villes de la carte au nord de la Sûre ?	26
27	Je démarre de Redange, je vais visiter la ville de Luxembourg puis je me rends à Grevenmacher vers le nord-est. Quelle distance ai-je parcourue ?	27
28	Je pars de Mersch, je parcours 40 km vers le nord-est. Dans le canton de quelle ville vais-je arriver ?	28
29	Quelle distance sépare Differdange de Dudelange ?	29
30	Je démarre de Rumelange, je me dirige vers le nord pour atteindre Wiltz puis je me rends à Vianden vers le sud-est. Quelle distance ai-je parcourue ?	30



Carte des arrondissements et des lieux remarquables de Paris.



niv.1 : Réponds à la question sur les 4 directions cardinales.



	Questions	Solutions
1	Le Parc de la Villette se situe à/au ☹ du cimetière Père-Lachaise.	1
2	L'arrondissement dans lequel se trouve la Tour Eiffel est au/à ☹ de Notre-Dame de Paris.	2
3	Quel arrondissement se trouve au nord de l'Arc de Triomphe ?	3
4	Quel arrondissement se trouve le plus à l'ouest de Paris ?	4
5	Cite un lieu remarquable à l'est du Sacré-Cœur.	5
6	Quel arrondissement se trouve au sud de la Tour Eiffel ?	6
7	Quel est l'arrondissement le plus au centre de Paris ?	7
8	Si je suis à Notre-Dame et que je veux aller voir la Bastille, je dois me diriger vers ☹.	8
9	Quel arrondissement se situe au sud du 19 ^e ?	9
10	Quel arrondissement au nord du 12 ^e ne comprend pas de monument sur la carte ?	10
11	Si je suis au musée du Louvre et que je veux aller écouter un opéra, dans quelle direction dois-je aller ?	11
12	Quel est le lieu remarquable le plus à l'est de Paris ?	12
13	Cite un arrondissement au sud de la Seine.	13
14	Au nord de quel arrondissement se trouve le Sacré-Cœur ?	14
15	La Bastille se trouve à/au ☹ du 11 ^e arrondissement.	15
16	Quel arrondissement se situe à l'ouest de la Tour Eiffel ?	16
17	Le musée du Louvre se situe à/au ☹ du cimetière du Père-Lachaise.	17
18	La Bastille se situe à/au ☹ du Parc des Princes ?	18
19	Quel monument se trouve à l'ouest de la Tour Montparnasse ?	19
20	Si je suis à Tour Eiffel et que je veux aller à Notre-Dame, je me dirige vers ☹.	20



niv.1 : Réponds à la question sur les 4 directions cardinales.



	Questions	Solutions
21	Je me trouve à la Tour Montparnasse et je me dirige vers le Nord, quel arrondissement vais-je atteindre en premier ?	21
22	Le 5 ^e arrondissement se situe à/au ☹ du 18 ^e arrondissement.	22
23	Quels sont les trois arrondissements les plus au nord de Paris ?	23
24	Quel monument se situe à l'est du 16 ^e ?	24
25	Notre-Dame de Paris se situe à/au ☹ de la Bastille.	25
26	Cite un lieu remarquable au nord de l'opéra Garnier.	26
27	Quels sont les arrondissements, sans lieu remarquable, à l'est du 15 ^e ?	27
28	Quels sont les quatre arrondissements les plus à l'est de Paris ?	28
29	Quel monument se trouve au sud du 2 ^e arrondissement ?	29
30	Si je suis au Parc des Princes et que je veux aller à la Tour Montparnasse, je me dirige vers ☹ .	30
31	Je me trouve au Parc de la Villette et je veux aller dans le 17 ^e , dans quelle direction dois-je marcher ?	31
32	Je suis dans le 13 ^e arrondissement et je souhaite visiter le Sacré-Cœur. Quelle direction dois-je prendre ?	32
33	L'Arc de Triomphe se situe à/au ☹ du 10 ^e arrondissement.	33
34	Quels sont les quatre arrondissements les plus au sud de Paris ?	34
35	Le Musée du Louvre se situe à/au ☹ de l'Opéra Garnier.	35
36	Quel monument se situe au sud de l'Arc de Triomphe ?	36
37	Le 4 ^e arrondissement se situe à/au ☹ du 16 ^e arrondissement.	37
38	Si je suis dans le Parc de la Villette et que je souhaite visiter le Sacré-Cœur, je dois me diriger vers ☹ .	38
39	L'Arc de Triomphe se situe à/au ☹ du 15 ^e arrondissement.	39



niv.2 : Réponds à la question sur les 8 directions cardinales.



Questions

1	Le Sacré-Coeur se situe à/au ☞ du cimetière Père-Lachaise.	1
2	La Tour Eiffel est au/à ☞ du Parc des Princes.	2
3	Quel arrondissement se trouve au nord-est de l'Arc de Triomphe ?	3
4	Je suis au musée du Louvre et je veux assister à un match au Parc des Princes, dans quelle direction dois-je aller ?	4
5	Quel arrondissement se trouve le plus au sud-ouest de Paris ?	5
6	La Bastille se situe à/au ☞ du Sacré-Cœur.	6
7	Quel arrondissement se trouve au sud-ouest de la Bastille ?	7
8	Quel est l'arrondissement le plus au nord-ouest de Paris ?	8
9	Je suis à Notre-Dame et je souhaite visiter la Tour Montparnasse, je dois me diriger vers le/l' ☞ .	9
10	Quel arrondissement se situe au sud-ouest du 19 ^e ?	10
11	Par rapport au 13 ^e arrondissement, où se situe le 8 ^e ?	11
12	Où se situe le cimetière du Père-Lachaise par rapport au 10 ^e arrondissement ?	12
13	Quel est le lieu remarquable le plus au nord-est de Paris ?	13
14	Quels sont les arrondissements impairs situés au sud de la Seine ?	14
15	Au nord-est de quel arrondissement se trouve le Sacré-Cœur ?	15
16	Par rapport au 10 ^e arrondissement, où se situe le 15 ^e ?	16
17	Quel arrondissement se situe au nord-est de la Tour Eiffel ?	17
18	Le musée du Louvre se situe à/au ☞ de l'Arc de Triomphe.	18
19	Quel lieu remarquable se trouve au nord-est de l'Opéra Garnier ?	19
20	Je suis à Notre-Dame et je veux aller au musée du Louvre, je me dirige vers ☞ .	20



niv.2 : Réponds à la question sur les 8 directions cardinales.



Questions

21	Je pars de la Tour Eiffel et je marche vers le sud-ouest, vers quel monument vais-je ?	21
22	Je suis à Notre-Dame et je souhaite me promener dans le Parc de la Villette. Pour m'y rendre, je dois me diriger vers ☺ .	22
23	Quel est l'arrondissement le plus au nord-est de Paris ?	23
24	Quels sont les arrondissements au sud-est de Paris ?	24
25	Notre-Dame de Paris se situe à/au ☺ de la Tour Montparnasse.	25
26	Cite un lieu remarquable au nord-est de l'opéra Garnier.	26
27	Quel arrondissement sans monument est au sud-est de Paris ?	27
28	Cite les deux arrondissements les plus au sud-ouest de Paris ?	28
29	Quel lieu remarquable se trouve à l'est du 11 ^e arrondissement ?	29
30	Quel monument se situe au nord-est du 16 ^e ?	30
31	Par rapport au 8 ^e arrondissement, où se situe le 12 ^e ?	31
32	Partant de la Tour Eiffel, j'embarque à bord d'un bateau sur la Seine et navigue vers l'est. Quel est le premier monument que je vais rencontrer ?	32
33	Quels sont les deux arrondissements à l'est de celui de la Tour Montparnasse ?	33
34	Partant du 1 ^{er} arrondissement, quelles directions dois-je successivement prendre pour traverser le 2 ^e , puis le 3 ^e puis le 4 ^e ?	34
35	Partant du Sacré-Cœur, par quelle direction puis-je sortir au plus vite de Paris ?	35
36	Par rapport au 15 ^e arrondissement, où se situe le 19 ^e ?	36
37	Je suis tout au sud du 15 ^e arrondissement. Je marche droit vers l'est. Quels arrondissements vais-je traverser pour atteindre le sud de la Seine ?	37



niv.3 : Réponds à la question sur les 8 directions cardinales et les distances/échelles.



Questions

1	Quelle est la distance entre le Sacré-Cœur et le Parc de la Villette ?	1
2	Je suis à l'Opéra Garnier et je marche 4,6 km vers l'est, à quel lieu remarquable vais-je arriver ?	2
3	Je suis au Sacré-Cœur, je marche 3,5 km vers le sud. Dans quel arrondissement vais-je arriver ?	3
4	Je suis à la Tour Eiffel, je marche 3,2 km vers le nord-est, à quel monument vais-je arriver ?	4
5	Je suis à l'Opéra Garnier, si je marche 2,4 km vers le sud-est. Que vais-je aller visiter ?	5
6	Je suis au cimetière du Père-Lachaise, je veux aller au Parc de la Villette, quelle direction dois-je prendre ?	6
7	Je suis au cimetière du Père-Lachaise, je veux aller au Parc de la Villette, combien de kilomètres vais-je parcourir ?	7
8	Je suis au Sacré-Cœur, je parcours 6 km vers le sud, dans quel arrondissement vais-je arriver ?	8
9	Je suis au Parc des Princes, je parcours 3 km vers l'est, dans quel arrondissement vais-je arriver ?	9
10	Je suis au point le plus au sud de Paris, je veux aller au Sacré-Cœur, combien de kilomètres vais-je marcher ?	10
11	Combien de kilomètres séparent le point le plus à l'est de celui le plus à l'ouest de Paris ?	11
12	Quelle distance y a-t-il entre le point le plus au sud du 7 ^e arrondissement et la Tour Montparnasse ?	12
13	Je suis à la Tour Eiffel, je parcours 3,5 km vers le sud-ouest. Puis-je visiter un monument ?	13
14	Je suis au musée du Louvres, je parcours 1,3 km environ vers le nord, où vais-je arriver ?	14
15	Quelle distance sépare l'Arc de Triomphe du cimetière du Père-Lachaise ?	15
16	Quelle distance y a-t-il entre le point le plus à l'est du point le plus à l'ouest du 15 ^e arrondissement de Paris ?	16

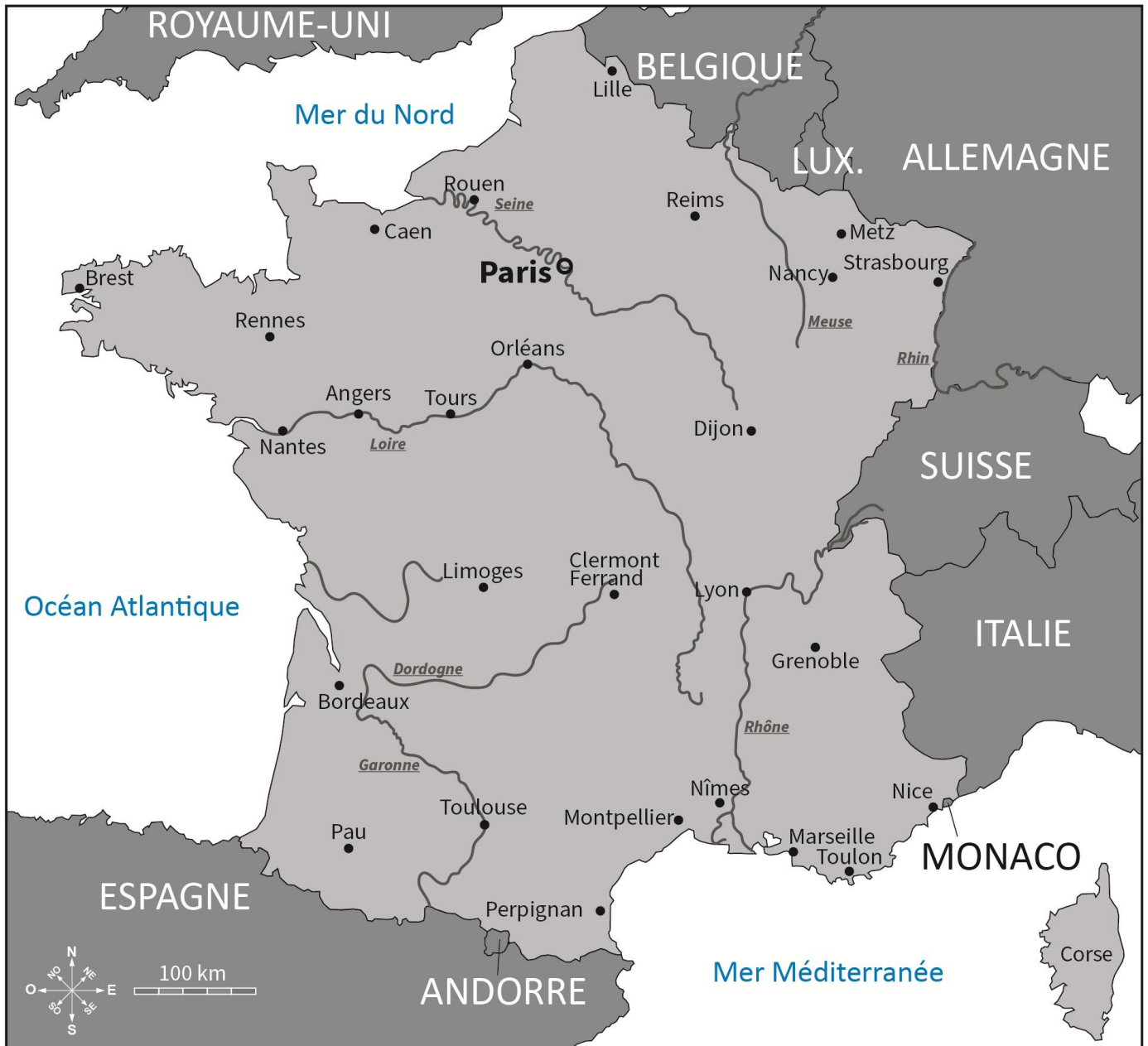


niv.3 : Réponds à la question sur les 8 directions cardinales et les distances/échelles.



Questions

17	Je pars de la Bastille, je marche 4,8 km vers le nord. Dans quel arrondissement vais-je arriver ?	17
18	Je pars de la Tour Montparnasse, je marche 6 km vers le sud-est. Dans quel arrondissement vais-je arriver ?	18
19	Je suis au cimetière du Père-Lachaise, je parcours 3 km vers le sud. Quel monument se trouve dans l'arrondissement où j'arrive ?	19
20	Quelle direction vais-je prendre pour aller de l'Opéra Garnier à la Tour Montparnasse ?	20
21	Je suis au cimetière à l'Arc de Triomphe, je parcours 4,1 km vers le nord-est. Quel monument puis-je visiter ?	21
22	Je suis au musée du Louvre, pour arriver vers l'Opéra Garnier, quelle direction ai-je emprunté ?	22
23	Je suis à l'Opéra Garnier, je parcours 3 km vers le nord. Quel monument se trouve dans l'arrondissement dans lequel j'arrive ?	23
24	Cite un monument au sud-ouest de la Tour Eiffel ?	24
25	Je suis à l'Arc de Triomphe, je parcours 5 km pour aller au Parc des Prince, quelle direction ai-je empruntée ?	25
26	Je pars de la Tour Eiffel, je marche 4,2 km vers le sud-est. À quel monument vais-je arriver ?	26
27	Quelle distance ai-je parcourue pour aller de l'Opéra Garnier à la Tour Montparnasse ?	27
28	Combien de kilomètres séparent le musée du Louvre et la Bastille ?	28
29	Je pars du Parc de la Villette, je marche 6 km vers l'ouest. Dans quel arrondissement vais-je arriver ?	29
30	Je démarre du Parc de la Villette, je me dirige vers l'ouest pour atteindre le Sacré-Cœur puis je me rends à Notre-Dame vers le sud. Quelle distance ai-je parcourue ?	30



Carte des villes et des fleuves principaux de France.



niv.1 : Réponds à la question sur les 4 directions cardinales.



Questions

1	Marseille se trouve à/au ☹ de Grenoble.	1
2	Lyon se situe à/au ☹ de Nîmes.	2
3	Où se situe Toulouse par rapport à Limoges ?	3
4	Pau se situe à/au ☹ de Toulouse.	4
5	Clermont-Ferrand est à l'est de ☹.	5
6	Dijon est à/au ☹ de la Suisse.	6
7	Reims se situe à/au ☹ de Dijon.	7
8	Nancy est à/au ☹ de Strasbourg.	8
9	Je pars de Brest, je marche vers l'est. Quelle est la 1ere ville que je vais rencontrer ?	9
10	Lyon est à/au ☹ de Clermont-Ferrand.	10
11	Perpignan est à/au ☹ de Clermont-Ferrand.	11
12	Quelle mer est au sud de la France ?	12
13	Dijon est à/au ☹ de Montpellier.	13
14	Grenoble est à/au ☹ de Bordeaux.	14
15	Nice est à/au ☹ de Nîmes.	15
16	Pau est à/au ☹ de Toulon.	16
17	Quel océan est à l'ouest de la France ?	17
18	Caen est à/au ☹ de Metz.	18
19	Nantes est à/au ☹ de Dijon.	19
20	Quelle mer se situe au nord de Caen ?	20
21	L'Italie est à/au ☹ de Grenoble.	21
22	Limoges est à/au ☹ de l'océan Atlantique.	22
23	Angers est à/au ☹ de Tours.	23



niv.1 : Réponds à la question sur les 4 directions cardinales.



Questions

24	Je suis à Limoges et je veux me rendre à Lyon. Dans quelle direction dois-je aller ?	24
25	Par rapport à Monaco, où se situe la Suisse ?	25
26	Caen est à/au ☹ de Bordeaux.	26
27	Toulouse est à/au ☹ de Paris.	27
28	Je pars de Paris vers le sud. Quelle sera la 1 ^{ère} ville que je vais rencontrer ?	28
29	Reims est à/au ☹ de la Belgique.	29
30	Sur la carte, quelle est la ville de France la plus à l'ouest ?	30
31	Par rapport à Pau, où se situe Bordeaux ?	31
32	Monaco est à/au ☹ de Toulouse.	32
33	Où se situe la Corse par rapport à l'Italie ?	33
34	Partant de Nîmes, dans quelle direction dois-je rouler pour me rendre à Reims ?	34
35	Montpellier est à/au ☹ de Nice.	35
36	Le Grand-Duché de Luxembourg est à/au ☹ de Nancy.	36
37	Partant de Clermont-Ferrand, je roule vers l'ouest. Quelle sera la 1 ^{ère} ville que je vais rencontrer ?	37
38	Où se situe Nantes par rapport à Rennes ?	38
39	Rennes est à/au ☹ de Strasbourg.	39
40	Où se situe la principauté d'Andorre par rapport à Paris ?	40
41	Rouen se situe à/au ☹ de Reims.	41
42	Où se trouve l'Allemagne par rapport à Lille ?	42
43	Tours se situe à/au ☹ de Rouen.	43
44	Où se trouve Perpignan par rapport à la Corse ?	44



niv.2 : Réponds à la question sur les 8 directions cardinales.



Questions

1	La Suisse est à/au ☞ de Paris.	1
2	Caen se situe à/au ☞ de Grenoble.	2
3	La mer Méditerranée est à/au ☞ de Rennes.	3
4	Nantes est à/au ☞ de la Corse.	4
5	La Seine prend son embouchure à/au ☞ de la France.	5
6	Brest se situe à/au ☞ de Toulon.	6
7	Monaco est à/au ☞ de Brest.	7
8	Pau se situe à/au ☞ de la Suisse.	8
9	Je suis à Strasbourg, dans quelle direction dois-je aller pour me rendre à Pau ?	9
10	Tours se situe à/au ☞ de Marseille.	10
11	Metz est à/au ☞ de l'embouchure de la Garonne.	11
12	Toulouse est à/au ☞ de la mer du Nord.	12
13	Lyon est à/au ☞ de Limoges.	13
14	La Loire prend son embouchure à/au ☞ de la France.	14
15	Grenoble se situe à/au ☞ de Pau.	15
16	Angers est à/au ☞ de Nice.	16
17	L'embouchure de la Garonne est à/au ☞ de Strasbourg.	17
18	L'Espagne est à/au ☞ de l'Allemagne.	18
19	Perpignan se situe à/au ☞ de Brest.	19
20	Metz se situe à/au ☞ Nantes.	20
21	Les embouchures du Rhône sont à/au ☞ de Strasbourg.	21
22	La source de la Loire se situe à/au ☞ de Perpignan.	22



niv.2 : Réponds à la question sur les 8 directions cardinales.



Questions

23	Dijon se situe à/au ☞ de Rennes.	23
22	La Corse se situe à/au ☞ de Paris.	22
23	Orléans se situe à/au ☞ de la Belgique.	23
24	Nice se situe à/au ☞ de la source de la Seine.	24
25	La Belgique se situe à/au ☞ de Toulouse.	25
26	Les embouchures du Rhône se situent à/au ☞ de Paris.	26
27	L'Italie se situe à/au ☞ de Nantes.	27
28	La Corse se situe à/au ☞ de l'Allemagne.	28
29	Les embouchures du Rhône sont à/au ☞ de Reims.	29
30	Montpellier est à/au ☞ de Rennes.	30
31	La source de la Seine est à/au ☞ de Brest.	31
32	Bordeaux se situe à/au ☞ de la Belgique.	32
33	Nantes se situe à/au ☞ de Perpignan.	33
34	L'embouchure de la Seine est à/au ☞ des embouchures du Rhône.	34
35	Angers se situe à/au ☞ de Nice.	35
36	Paris se situe à/au ☞ de la source de la Seine.	36
37	Montpellier est à/au ☞ de Strasbourg.	37
38	Nice est à/au ☞ de Caen.	38
39	Limoges est à/au ☞ de Nîmes.	39
40	Dijon est à/au ☞ de Nantes.	40
41	Pau est à/au ☞ de Grenoble.	41



niv. 3 : Réponds à la question sur les 8 directions cardinales et les distances échelles.



Questions

1	Paris se trouve à <input type="text"/> km à vol d'oiseau de Metz.	1
2	Quelles sont les villes situées à moins de 100 km de Nantes sur la carte ?	2
3	Dijon se trouve à <input type="text"/> km à vol d'oiseau de Clermont-Ferrand.	3
4	Rennes se trouve à <input type="text"/> km à vol d'oiseau de Bordeaux.	4
5	Dijon se trouve à <input type="text"/> km à vol d'oiseau de Lyon.	5
6	Limoges se trouve à <input type="text"/> km à vol d'oiseau de Pau.	6
7	Nice se trouve à <input type="text"/> km à vol d'oiseau de Lyon.	7
8	Metz se trouve à <input type="text"/> km à vol d'oiseau de Dijon.	8
9	Grenoble se trouve à <input type="text"/> km à vol d'oiseau de Clermont-Ferrand.	9
10	Angers se trouve à <input type="text"/> km à vol d'oiseau de Reims.	10
11	Tours se trouve à <input type="text"/> km à vol d'oiseau d'Orléans.	11
12	Rouen se trouve à <input type="text"/> km à vol d'oiseau de Caen.	12
13	Strasbourg se trouve à <input type="text"/> km à vol d'oiseau de Lille.	13
14	Lille se trouve à <input type="text"/> km à vol d'oiseau de Nice.	14
15	Pau se trouve à <input type="text"/> km à vol d'oiseau de Nantes.	15
16	Rennes se trouve à <input type="text"/> km à vol d'oiseau de Brest.	16
17	Metz se trouve à <input type="text"/> km à vol d'oiseau de Grenoble.	17
18	Perpignan se trouve à <input type="text"/> km à vol d'oiseau de Clermont-Ferrand.	18
19	Tours se trouve à <input type="text"/> km à vol d'oiseau de Dijon.	19
20	Orléans se trouve à <input type="text"/> km à vol d'oiseau de Caen.	20
21	Nancy se trouve à <input type="text"/> km à vol d'oiseau de Marseille.	21
22	Strasbourg se trouve à <input type="text"/> km à vol d'oiseau de Montpellier.	22

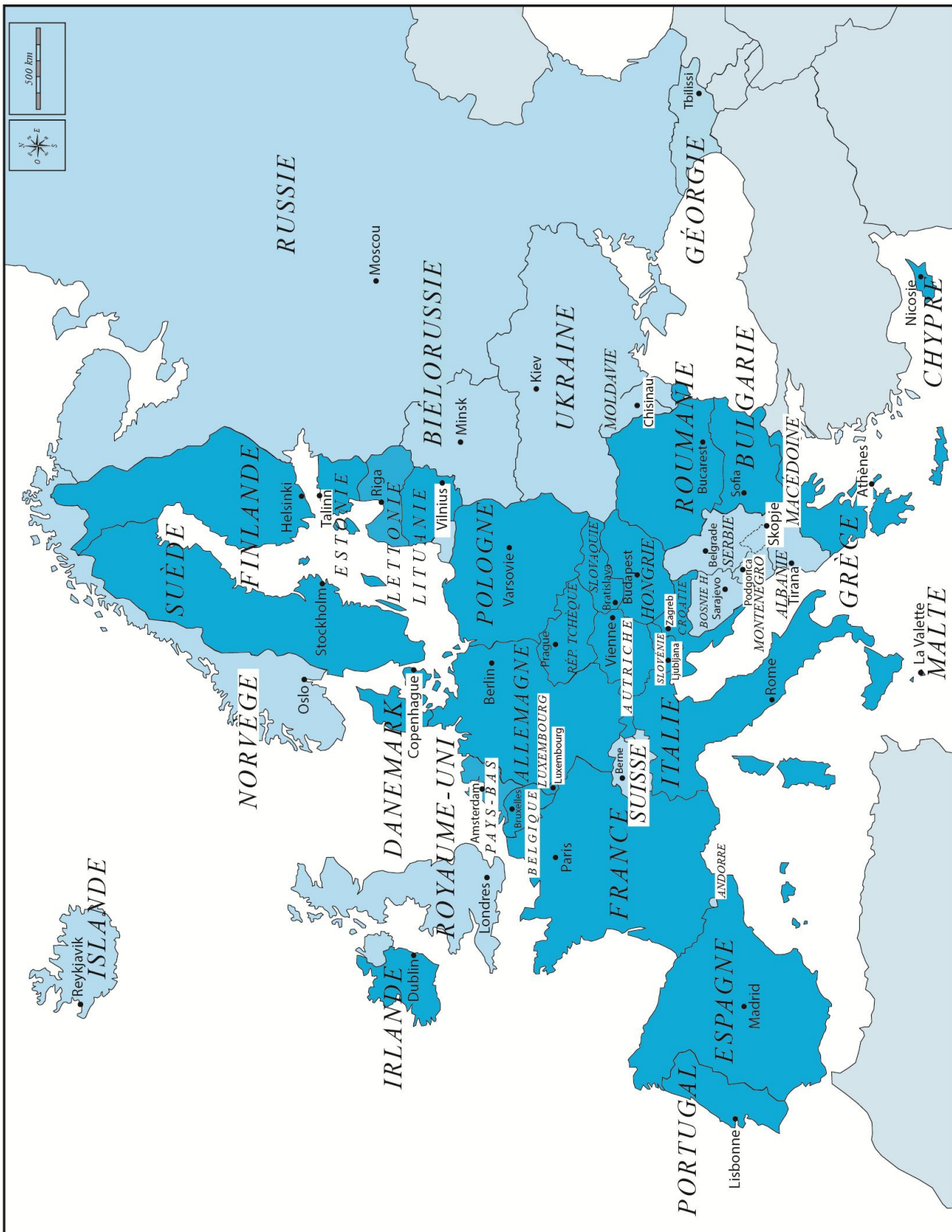


niv. 3 : Réponds à la question sur les 8 directions cardinales et les distances échelles.



Questions

23	Limoges se trouve à <input type="text"/> km à vol d'oiseau de Clermont-Ferrand.	23
24	Dijon se trouve à <input type="text"/> km à vol d'oiseau de Rouen.	24
25	Brest se trouve à <input type="text"/> km à vol d'oiseau de Nice.	25
26	Angers se trouve à <input type="text"/> km à vol d'oiseau de Marseille.	26
27	Toulouse se trouve à <input type="text"/> km à vol d'oiseau de Bordeaux.	27
28	Strasbourg se trouve à <input type="text"/> km à vol d'oiseau de Perpignan.	28
29	Nantes se trouve à <input type="text"/> km à vol d'oiseau de Lille.	29
30	Caen se trouve à <input type="text"/> km à vol d'oiseau de Lyon.	30
31	Bordeaux se trouve à <input type="text"/> km à vol d'oiseau de Paris.	31
32	Nice se trouve à <input type="text"/> km à vol d'oiseau de Toulouse.	32
33	Marseille se trouve à <input type="text"/> km à vol d'oiseau de Brest.	33
34	Grenoble se trouve à <input type="text"/> km à vol d'oiseau de Paris.	34
35	Rennes se trouve à <input type="text"/> km à vol d'oiseau de Marseille.	35
36	Strasbourg se trouve à <input type="text"/> km à vol d'oiseau de Nantes.	36
37	Toulon se trouve à <input type="text"/> km à vol d'oiseau de Montpellier.	37
38	Paris se trouve à <input type="text"/> km à vol d'oiseau de Toulouse.	38
39	Paris se trouve à <input type="text"/> km à vol d'oiseau de Brest.	39
40	Orléans se trouve à <input type="text"/> km à vol d'oiseau de Caen.	40



Carte des pays de l'Europe géographique et de leurs capitales



niv.1 : Réponds à la question sur les 4 directions cardinales.



Questions

1	La Belgique se situe à/au ☞ de la France.	1
2	L'Allemagne se situe à/au ☞ de la Belgique.	2
3	Quel pays limitrophe est situé à l'est du Portugal ?	3
4	Quel est le pays limitrophe situé au nord de la Belgique ?	4
5	Quel pays est situé à l'ouest de la Pologne ?	5
6	La Suisse se situe à/au ☞ de l'Italie.	6
7	La Pologne se situe à/au ☞ de la Finlande.	7
8	Quel est le nom du pays qui a la forme d'une botte ?	8
9	Quel est le pays limitrophe situé à l'est de la Norvège ?	9
10	Quel est le pays limitrophe situé au nord de l'Allemagne ?	10
11	Quel pays se situe au nord de l'Espagne et au sud de la France ?	11
12	L'Irlande se trouve à/au ☞ des Royaume-Unis.	12
13	La Suède est à/au ☞ de l'Autriche.	13
14	Je suis en Bulgarie, dans quelle direction dois-je aller pour aller en Grèce ?	14
15	La Suisse est à/au ☞ du Luxembourg.	15
16	Je suis en Grèce et je vais en Pologne, quelle direction vais-je prendre ?	16
17	Quel pays est le plus à l'ouest en Europe ?	17
18	La Lettonie se situe à/au ☞ de la Finlande.	18
19	Quel pays se situe au nord de la Slovénie ?	19
20	La Hongrie est à/au ☞ de la Slovaquie.	20
21	L'Allemagne est à/au ☞ de l'Italie.	21



niv.1 : Réponds à la question sur les 4 directions cardinales.



Questions

23	Je suis en France et je vais vers le nord à pied, dans quel pays vais-je arriver ?	23
22	Mon avion décolle depuis la Bulgarie et va en Lituanie, dans quelle direction va mon avion ?	22
23	Le pays limitrophe de l'Allemagne qui est le plus au nord est ☹.	23
24	La Norvège se situe à/au ☹ de la Finlande.	24
25	L'Espagne est à/au ☹ du Portugal.	25
26	Les Pays-Bas sont à/au ☹ de la Pologne.	26
27	Quel pays se situe au nord de l'Estonie ?	27
28	L'Autriche est à/au ☹ de l'Allemagne.	28
29	Quelle île est à l'ouest du Royaume-Uni ?	29
30	Partant de Vienne, je marche vers l'est. Dans quel pays j'arrive en premier ?	30
31	Partant de Moscou, je roule vers l'ouest. Quelle ville se trouve sur mon chemin ?	31
32	Quel pays est au sud de Berne ?	32
33	Partant de Sarajevo, je roule vers Sofia. Dans quelle direction dois-je aller ?	33
34	Partant du port de Tirana, je navigue vers l'ouest. Dans quel pays j'accoste ?	34
35	Dans quelle direction dois-je rouler en partant de Prague pour atteindre la frontière entre la Pologne et l'Allemagne ?	35
36	Quelle est la capitale au sud de la frontière belgo-allemande ?	36
37	Partant de Vienne, pour m'éloigner de Bratislava, je dois marcher dans quelle direction ?	37
38	L'Irlande est à/au ☹ de l'Islande.	38
39	La Hongrie est à/au ☹ de l'Autriche.	39



niv.2 : Réponds à la question sur les 8 directions cardinales.



Questions

1	Cite un pays au nord-ouest du Royaume-Uni.	1
2	Cite un pays au sud-ouest de la France.	2
3	Où se situe l'Ukraine par rapport à la Suède ?	3
4	Quel pays se situe directement au sud-est de la Hongrie.	4
5	Par rapport à l'Allemagne, où se trouve l'Estonie.	5
6	L'Allemagne se situe à/au ☹ de la Bulgarie.	6
7	La Lituanie se situe à/au ☹ de la Suède.	7
8	L'Islande se situe à/au ☹ de la Géorgie.	8
9	La Belgique se situe à/au ☹ du Danemark.	9
10	Dublin, la capitale de l'Irlande, se situe du côté ☹ de l'île.	10
11	Je prends mon petit bateau à Stockholm et je vais vers le nord-est, dans quel pays vais-je arriver ?	11
12	Cite le pays qui se trouve à l'ouest de l'Espagne.	12
13	Andorre est au/à ☹ de la France.	13
14	Mon avion part d'Oslo et va à Bucarest. Dans quelle direction va-t-il ?	14
15	Les Pays-Bas font partie de l'Europe de l'☹.	15
16	La Hongrie se trouve à/au ☹ de la Bulgarie.	16
17	Je vis à Paris et je passe mes vacances à Amsterdam, je vais vers le ☹.	17
18	Depuis Athènes, je dois aller vers le ☹ pour rejoindre Madrid.	18
19	Vienne se trouve à/au ☹ de la Belgique.	19
20	L'Ukraine se situe à/au ☹ de la Croatie.	20



niv.2 : Réponds à la question sur les 8 directions cardinales.



Questions

21	Quelle capitale est au sud-est de Berne, la capitale de la Suisse ?	21
22	La Biélorussie se trouve à/au ☹ de la Lettonie.	22
23	La Norvège fait partie de l'Europe du ☹ ?	23
22	Cite un pays frontalier au sud-ouest de la France.	22
23	Londres se trouve à/au ☹ de Dublin.	23
24	La Slovénie est à/au ☹ de la Serbie.	24
25	Cite le pays frontalier au nord-est de l'Italie.	25
26	Berlin se trouve à/au ☹ de l'Allemagne.	26
27	Cite le pays frontalier au nord-ouest de la Grèce.	27
28	Par rapport à l'Autriche, où se situe le Danemark ?	28
29	L'île de Chypre se situe à/au ☹ de l'Italie.	29
30	Mon avion part de Londres et va à Andorre. Dans quelle direction va-t-il ?	30
31	Quel pays se trouve au sud-ouest de la Grèce ?	31
32	L'Estonie se situe à/au ☹ de la Suisse.	32
33	Cite un pays au nord-ouest de la Norvège.	33
34	Je vis à Copenhague et je passe mes vacances à Lisbonne, je vais vers le ☹.	34
35	Par rapport à l'Espagne, où se situe la Pologne ?	35
36	Le Portugal se situe à/au ☹ de la France.	36
37	L'île de Malte se trouve à/au ☹ de l'île de Chypre.	37
38	Où se situe la Bulgarie par rapport à la Hongrie ?	38
39	Par rapport à la Russie, où se trouve la Pologne ?	39
40	Quelle direction mon avion prend-il pour aller de Paris à Helsinki ?	40



niv.3 : Réponds à la question sur les 8 directions cardinales et les distances/échelles.



Questions

1	La distance la plus courte entre la Belgique et la Suisse est ☹.	1
2	En partant de l'est du Portugal, je vole 1000 km vers l'est. Dans quel pays vais-je arriver ?	2
3	Andorre se trouve à ☹ km à l'ouest de la Croatie.	3
4	Quelle est la distance approximative à vol d'oiseau entre le Danemark et l'Autriche ?	4
5	L'Islande se trouve à/au ☹ de l'Europe.	5
6	Quel pays a sa frontière est à plus ou moins 300 km à l'ouest de l'Ukraine ?	6
7	Cite le pays qui se situe à l'ouest de la Pologne.	7
8	L'Allemagne se situe à/au ☹ de l'Espagne.	8
9	Bruxelles se trouve à 700 km au nord de ☹.	9
10	Combien de km séparent l'Estonie de la Lituanie ?	10
11	150 km au sud de la Finlande on trouve ☹.	11
12	La Moldavie se trouve à/au de ☹ l'Ukraine.	12
13	L'Albanie se situe à/au ☹ de la ville de Chisinau.	13
14	Je suis au Luxembourg et je fais 300 km vers le nord. Où vais-je arriver ?	14
15	La Bulgarie se trouve à/au ☹ de l'Europe.	15
16	Pour rejoindre le Portugal depuis Malte, je dois partir dans quelle direction en bateau ?	16
17	La France est à/au ☹ de la Belgique.	17
18	Entre l'Estonie et la Lituanie, il y a le/la ☹.	18
19	Andorre se trouve à 1400 km au sud de/du ☹.	19
20	Quel pays se trouve à 900 km, au plus court, au sud de l'Estonie ?	20
21	La Géorgie se trouve à 1300 km à/au ☹ de la Roumanie.	21

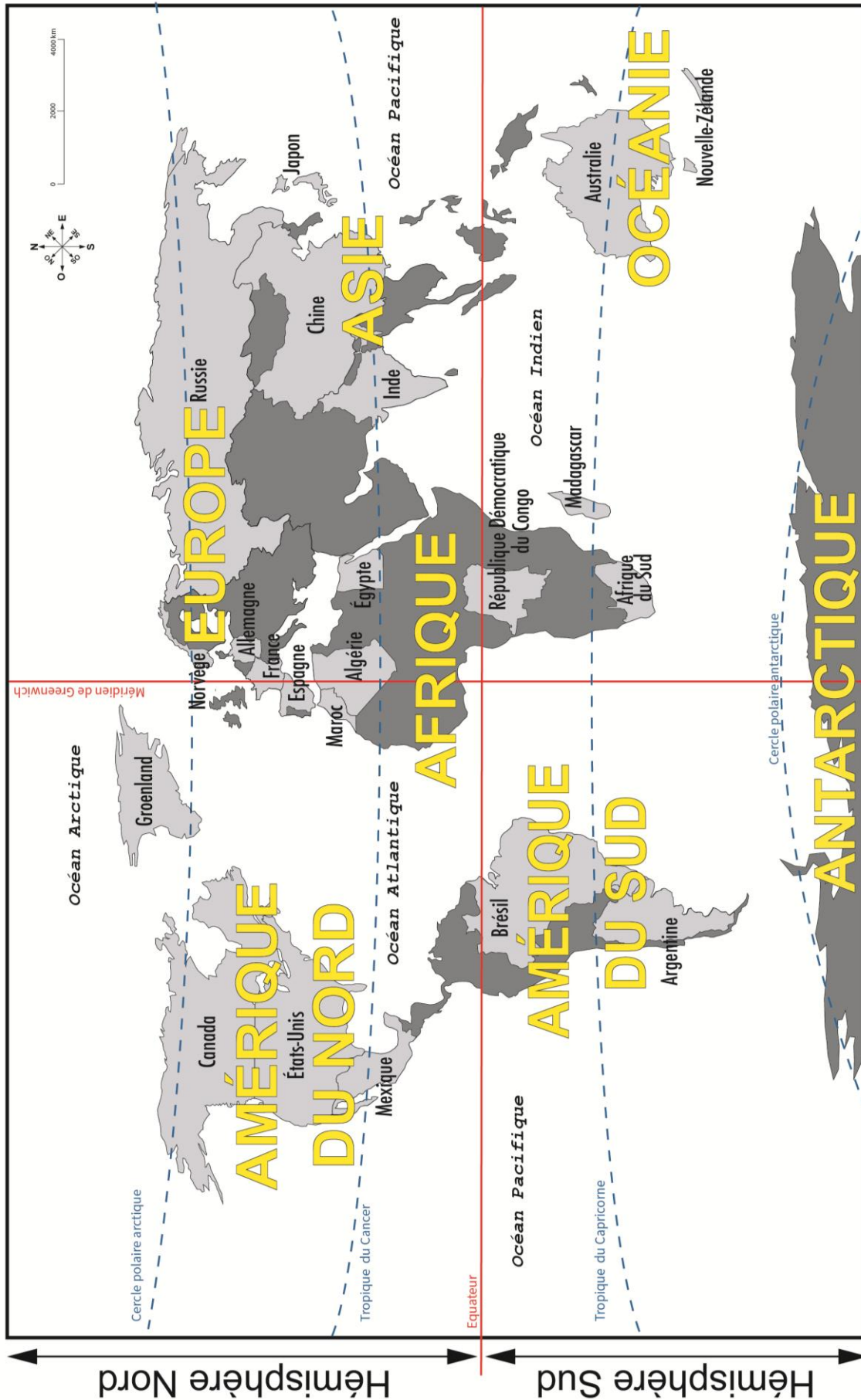


niv.3 : Réponds à la question sur les 8 directions cardinales et les distances/échelles.



Questions

22	Pour les vacances, j'aimerais aller à Madrid, dans le sud, depuis Belgique. Quelle est la distance à parcourir à vol d'oiseau ?	22
23	Quelle est la distance à vol d'oiseau entre Dublin et Copenhague ?	23
22	Le Luxembourg se trouve à <input type="text"/> km à l'ouest de la République Tchèque.	22
23	La Croatie se trouve à 350 km au sud de <input type="text"/> .	23
24	Quel pays se trouve à la fois au nord et à l'ouest de la Bosnie-Herzégovine ?	24
25	<input type="text"/> se trouve à 2000 km à l'est de l'Allemagne.	25
26	La Roumanie se situe à/au <input type="text"/> de la Moldavie.	26
27	Vienne se trouve à <input type="text"/> km au nord-ouest de Sofia.	27
28	Nous allons faire de la contrebande à Andorre, nous sommes partis de l'ouest de la Suisse, combien de km va-t-on faire ?	28
29	Quelle est la distance à vol d'oiseau entre Reykjavik et Londres ?	29
30	Chypre se trouve à/au <input type="text"/> de l'Europe.	30
31	Bucarest se trouve à <input type="text"/> km de Belgrade.	31
32	Berlin se situe à/au <input type="text"/> de la Paris.	32
33	Quelle ville la plus proche se trouve au nord-ouest de Londres ?	33
34	<input type="text"/> se trouve à 1800 km à l'est de Madrid.	34
35	Quel est le pays limitrophe au nord de la Géorgie ?	35
36	Oslo se trouve à <input type="text"/> km de Helsinki.	36
37	La Grèce se trouve à 2400 km au sud-est de la ville de <input type="text"/> .	37
38	Quel pays est au sud de Rome ?	38
39	Le Monténégro se trouve à/au <input type="text"/> de la Belgique.	39
40	<input type="text"/> est à l'ouest de l'Espagne.	40



Carte des océans, continents et quelques pays du Monde.



niv.1 : Réponds à la question sur les 4 directions cardinales.



Questions

1	Le ☞ est la direction du pôle Nord et de l'étoile polaire.	1
2	Le ☞ est la direction opposée du nord.	2
3	Dans quelle direction se couche toujours le soleil ?	3
4	L'☞ est la direction dans laquelle le soleil se lève.	4
5	Le Tropique du Cancer se situe au ☞ du Tropique du Capricorne.	5
6	Dans quel hémisphère se trouve le Tropique du Capricorne ?	6
7	Le continent africain se situe à/au ☞ du continent européen.	7
8	Le continent européen se situe à/au ☞ du continent américain.	8
9	Quel océan retrouve-t-on à l'est de la Chine ?	9
10	Quel est l'océan qui se trouve au sud de l'Inde ?	10
11	Le cercle polaire Arctique se situe-t-il au nord ou au sud ?	11
12	Les États-Unis sont à/au ☞ de l'Europe.	12
13	Par rapport à l'équateur, la Russie est à/au ☞.	13
14	L'Antarctique est le continent le plus à/au ☞.	14
15	Quel pays sur la carte se situe au nord de l'Inde ?	15
16	Le Brésil est à/au ☞ du méridien de Greenwich.	16
17	Quel pays est le plus au sud du continent africain ?	17
18	L'Océan Arctique se situe à/au ☞.	18
19	Quel pays est au nord des États-Unis ?	19
20	La Chine est à/au ☞ de la Russie.	20
21	Le Brésil est à/au ☞ de l'Argentine.	21
22	Quel océan est au sud du Japon ?	22



niv.1 : Réponds à la question sur les 4 directions cardinales.



Questions

23	L'Océan Atlantique est à/au ☹ de l'Europe.	23
22	Où se situe Madagascar par rapport à la République Démocratique du Congo ?	22
23	L'Australie est à/au ☹ de la Chine.	23
24	Par rapport au méridien de Greenwich, où se situe l'Egypte ?	24
25	Dans quelle direction mon avion vole-t-il pour aller d'Argentine au Mexique ?	25
26	Quel pays se situe le plus au nord et sur le continent européen ?	26
27	Le Maroc est à/au ☹ de l'Espagne.	27
28	L'Amérique du Sud est à/au ☹ de l'Afrique.	28
29	Quel continent est au sud de l'Asie ?	29
30	Le Japon est à/au ☹ de la Chine.	30
31	Madagascar est à/au ☹ de l'Australie.	31
32	Par rapport à l'équateur, la Russie est à/au ☹.	32
33	Je décolle du Brésil et je vais vers l'ouest, quel océan suis-je en train de survoler ?	33
34	Par rapport au Groenland, où se situe le Maroc ?	34
35	Partant de Madagascar, dans quelle direction dois-je naviguer pour atteindre l'Afrique ?	35
36	Où se situe l'océan Arctique par rapport à la Russie ?	36
37	Quel pays se situe le plus au sud sur le continent Sud-Américain sur la carte ?	37
38	Quel continent est à l'ouest de l'océan Atlantique ?	38
39	Dans quel hémisphère se trouve l'Allemagne ?	39
40	La République Démocratique du Congo se situe au ☹ du Tropique du Cancer.	40



niv.2 : Réponds à la question sur les 8 directions cardinales.



Questions

1	L'Australie se situe à/au ☹ du Maroc.	1
2	L'Allemagne est à/au ☹ de Madagascar.	2
3	Cite l'océan le plus proche au sud-est de l'Egypte.	3
4	Le Brésil est à/au ☹ de l'Argentine.	4
5	La République Démocratique du Congo est à/au ☹ de la Chine.	5
6	La Russie est à/au ☹ de la Chine.	6
7	Le Groenland est à/au ☹ du Canada.	7
8	L'océan Atlantique est à/au ☹ de l'Espagne.	8
9	L'Argentine est un pays frontalier avec un grand pays qui se trouve au nord-est. De quel pays s'agit-il ?	9
10	L'Inde est à/au ☹ de l'Australie.	10
11	Depuis le Groenland, si je prends l'avion vers le sud-ouest, quel continent vais-je rencontrer en premier ?	11
12	Le Mexique est à/au ☹ de la Norvège.	12
13	Le Canada se trouve à/au ☹ de Madagascar.	13
14	La Chine est à/au ☹ de l'Egypte.	14
15	Si je vais au nord-ouest de l'Océanie, je me trouve sur quel continent ?	15
16	Quel océan vais-je retrouver à l'ouest de l'Australie?	16
17	La Nouvelle-Zélande est à/au ☹ de l'Australie.	17
18	Quel pays se trouve au nord de l'Afrique du Sud ?	18
19	Le Japon se situe à/au ☹ de l'Asie.	19
20	Partant du Canada, dans quelle direction dois-je voler pour atteindre la Russie au plus vite ?	20
21	Cite un pays au sud du Brésil.	21



niv.2 : Réponds à la question sur les 8 directions cardinales.



Questions

22	Le Brésil se trouve à/au ☞ du Maroc.	22
23	Quels pays d'Afrique se trouvent au nord de la République Démocratique du Congo ?	23
22	Par rapport à la ligne de l'équateur, la France se trouve à/au ☞ .	22
23	Par rapport à la ligne de l'équateur, le Japon se trouve à/au ☞ .	23
24	L'Inde est à/au ☞ de la Chine.	24
25	L'Allemagne est à/au ☞ de l'Espagne.	25
26	Si je pars du Mexique et que je passe par les États-Unis et le Canada, dans quelle direction sera orienté mon trajet ?	26
27	Par rapport à la ligne de l'équateur, l'Argentine se trouve à/au ☞ .	27
28	Le Groenland est à/au ☞ de l'Australie.	28
29	Partant du Japon, je navigue plein nord. Quel pays vais-je atteindre ?	29
30	Partant de la Nouvelle-Zélande, je navigue plein sud. Quel continent vais-je atteindre ?	30
31	Si je vais au sud-est du Mexique, je me trouve sur quel continent ?	31
32	L'Océanie se situe à/au ☞ de l'Asie.	32
33	L'océan Pacifique se situe à/au ☞ de l'Amérique.	33
34	Je suis au sud du Brésil et je désire me rapprocher du Tropique du Capricorne. Dans quelle direction dois-je aller ?	34
35	Quelle direction prend mon avion pour voler du Brésil en Norvège ?	35
36	Quelle île se trouve à l'ouest de l'océan Indien ?	36
37	Quel pays est le plus à l'est de l'Asie ?	37
38	Quel pays se trouve le plus au sud-est de la carte ?	38



niv.3 : Réponds à la question sur les 8 directions cardinales et les distances/échelles.



Questions

1	Quel continent se trouve au sud-est de la Chine ?	1
2	Quel pays se trouve à 6 000 km à l'ouest de l'Espagne ?	2
3	Le Madagascar se situe à/au ☹ de la République démocratique du Congo.	3
4	L'Équateur se trouve à ☹ km de la frontière nord de l'Argentine.	4
5	Tu habites en France et tu vas visiter les pyramides d'Égypte, dans quelle direction t'envoies-tu ?	5
6	Un avion doit voler combien de km pour aller du Groenland à la France ?	6
7	Quel pays se trouve au nord de l'océan Indien ?	7
8	Quelle est la longueur du continent d'Afrique du nord au sud ?	8
9	Quelle est la distance que parcourt un samouraï volant japonais pour se rendre en Inde ?	9
10	L'Algérie se trouve à 1500 km au ☹ de l'Allemagne.	10
11	Le Mexique est à ☹ km au nord-ouest du Brésil.	11
12	A vol d'oiseau, je pars du nord du Brésil pour aller vers le Maroc. Dans quelle direction je pars et quelle distance je parcours ?	12
13	Partant de l'Afrique du Sud, un navigateur courageux se dirige plein sud. Dans combien de kilomètres atteindra-t-il l'Antarctique.	13
14	Un avion part de la côte est du Mexique. Combien de kilomètres doit-il parcourir en longeant le Tropique du Cancer pour atteindre l'Afrique ?	14
15	Un voilier part de la République Démocratique du Congo et file droit vers l'ouest. Après combien de kilomètres parvient-il à la côte Brésilienne ?	15
16	L'Inde se trouve à/au ☹ de la Norvège.	16
17	Par la mer, l'Afrique du Sud se situe combien de kilomètres de la République Démocratique du Congo.	17



niv.3 : Réponds à la question sur les 8 directions cardinales et les distances/échelles.



Questions

18	Quel pays d'Amérique se situe entre le Tropique du Capricorne et l'Equateur.	18
19	La Russie est à/au ☹ du Maroc.	19
20	Un capitaine de bateau part du sud de la France pour l'Egypte. Quelle distance parcourt-il ?	20
21	La Chine est à/au ☹ de l'Inde.	21
22	L'Inde est à/au ☹ de l'Afrique du Sud.	22
23	Le Groenland à/au ☹ de la France.	23
22	En suivant le Tropique du Capricorne, quelle est la distance entre Madagascar et l'Australie ?	22
23	Un avion part d'Egypte vers l'Allemagne. Dans quelle direction doit-il s'orienter ?	23
24	Un aviateur américain veut parcourir la plus longue distance en ligne droite pour traverser les Etats-Unis. Quelle est cette distance ?	24
25	De la pointe sud de l'Inde, à l'est de l'Algérie, il y a ☹ km.	25
26	Un cheval russe désire galoper vers l'Océan Indien. Dans quelle direction doit-il s'orienter ?	26
27	Si un oiseau doit voler du nord de l'Argentine, au sud du Mexique, quelle distance parcourt-il ?	27
28	La Nouvelle-Zélande est à ☹ kilomètres au sud-est de l'Australie.	28
29	Le Maroc est à/au ☹ du Méridien de Greenwich.	29
30	Le Japon est à ☹ kilomètres au nord de l'Australie.	30
31	L'Afrique est à/au ☹ de l'Amérique du Sud.	31
32	La frontière entre la Chine et la Russie est à ☹ kilomètres au nord du Tropique du Cancer.	32
33	L'Egypte est à ☹ kilomètres à l'est du Méridien de Greenwich.	33