



1. Prends ton niveau



2. Plie sur le trait pour cacher les solutions.



3. Ecris les réponses dans un cahier à côté, rien sur la feuille!





4. A la fin du temps accordé, compare tes réponses aux solutions.

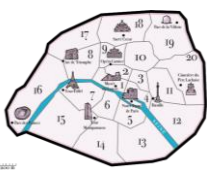



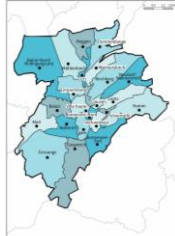

5. Corrige tes erreurs et analyse-les.





6. Prêt pour le niveau suivant ?
Demande à passer un test.

bloc	module I	page
A	 Bruxelles	niv.1 p.4 niv.2 p.6 niv.3 p.8
B	 Belgique	niv.1 p.11 niv.2 p.13 niv.3 p.15

bloc	module III	page
A	 Paris	niv.1 p.32 niv.2 p.34 niv.3 p.36
B	 France	niv.1 p.39 niv.2 p.41 niv.3 p.43

bloc	module II	page
A	 Luxembourg-Ville	niv.1 p.18 niv.2 p.20 niv.3 p.22
B	 Grand-Duché de Luxembourg	niv.1 p.25 niv.2 p.27 niv.3 p.29

bloc	module IV	page
A	 Europe	niv.1 p.46 niv.2 p.48 niv.3 p.50
B	 Monde	niv.1 p.53 niv.2 p.55 niv.3 p.57

Pour chaque bloc :

niv.1 : 4 directions cardinales

Uccle se situe à/au ☺ de Jette

niv.2 : 8 directions cardinales

La ville de Echternach se situe à/au ☺ de Wiltz.

niv.3 : 8 directions cardinales +
distance / échelle

En suivant le Tropique du Capricorne, quelle est la distance entre Madagascar et l'Australie ?



Carte des communes de Bruxelles-Capitale.



module I, bloc A

niv.1 : Réponds à la question sur les 4 directions cardinales



Questions		Solutions	
1	Quelle est la commune la plus au sud de Bruxelles ?	Uccle	1
2	Saint-Gilles se situe à/au ☞ d'Uccle.	nord	2
3	Anderlecht se situe à/au ☞ de Woluwe-Saint-Pierre.	l'ouest	3
4	Auderghem se situe à/au ☞ de Woluwe-Saint-Lambert.	sud	4
5	Molenbeek-Saint-Jean se situe à/au ☞ de Schaerbeek.	l'ouest	5
6	Saint-Josse-Ten-Noode se situe à/au ☞ d'Ixelles.	nord	6
7	Auderghem se situe à/au ☞ d'Anderlecht.	l'est	7
8	Ganshoren et Jette se situent à/au ☞ de Forest.	nord	8
9	Quelle commune est coupée en 2 par la commune de Bruxelles ?	Ixelles	9
10	Quelle commune se trouve à l'ouest de Forest ?	Anderlecht	10
11	Quelle est la commune qui se situe à l'est de Schaerbeek ?	Evere ou Woluwe-Saint-Pierre	11
12	Quelle est la commune la plus proche au nord d'Uccle sans toucher son territoire ?	Saint-Gilles	12
13	Berchem-Sainte-Agathe se trouve à/au ☞ d'Anderlecht.	nord	13
14	Watermael-Boitsfort est à/au ☞ d'Auderghem.	sud	14
15	Quelle commune se situe à l'est de Jette ?	Bruxelles	15
16	Etterbeek est à/au ☞ de Woluwe-Saint-Pierre.	l'ouest	16
17	Koekelberg est au nord de quelle commune ?	Molenbeek-Saint-Jean	17
18	Uccle est à/au ☞ d'Ixelles.	nord	18
19	Woluwe-Saint-Lambert est à/au ☞ d'Anderlecht.	l'est	19
20	Quelle commune limitrophe de Schaerbeek est la plus au sud ?	Etterbeek	20
21	Quelle commune est la plus à l'ouest de Bruxelles-Capitale ?	Anderlecht	21
22	Ganshoren se situe à/au ☞ de Bruxelles.	l'ouest	22



module I, bloc A

niv.1 : Réponds à la question sur les 4 directions cardinales



Questions		Solutions	
23	Quelle commune est au sud d'Ixelles ?	Watermael-Boitsfort ou Uccle	23
24	Molenbeek-Saint-Jean se situe à/au ☁ de Saint-Josse-Ten-Noode.	l'ouest	24
25	Uccle se situe à/au ☁ de Jette.	sud	25
26	Evere est au nord de quelle commune ?	Woluwe-Saint-Lambert	26
27	Quelle commune est la plus au nord ?	Bruxelles	27
28	Quelle commune se situe au sud de Koekelberg ?	Molenbeek-Saint-Jean	28
29	Bruxelles est à/au ☁ de Berchem-Sainte-Agathe.	l'ouest	29
30	Forest est à/au ☁ de Auderghem.	l'ouest	30
31	Quelles sont les 2 commune les plus proches au nord d'Anderlecht sans toucher son territoire ?	Berchem-Sainte-Agathe et Koekelberg	31
32	Parmi les communes limitrophes d'Ixelles, quelle est celle qui touche sa frontière le plus au sud ?	Bruxelles	32
33	Quelle est la commune le plus au nord de la région de Bruxelles-Capitale ?	Bruxelles-Ville	33
34	Quelle commune au sud de Jette commence par un "F" ?	Forest	34
35	Quelle est la commune la plus proche au nord d'Uccle sans toucher son territoire ?	Saint-Gilles	35
36	Quelle est la commune le plus à l'ouest de la région de Bruxelles-Capitale ?	Anderlecht	36
37	Quelle commune à l'ouest de Saint-Josse-ten-Noode commence par un "M" ?	Molenbeek-Saint-Jean	37
38	Parmi les communes limitrophes de Saint-Gilles, quelles sont celles qui touchent sa frontière le plus au sud ?	Ixelles et Forest.	38



module I, bloc A

niv.2 : Réponds à la question sur les 8 directions cardinales



	Questions	Solutions	
1	Molenbeek-Saint-Jean est à/au ☞ d'Etterbeek.	nord-ouest	1
2	Saint-Gilles est à/au ☞ de Watermael-Boitsfort.	nord-ouest	2
3	Par rapport à Anderlecht, où se situe Evere ?	au nord-est	3
4	Uccle est à/au ☞ de Woluwe-Saint-Pierre.	sud-ouest	4
5	Jette est à/au ☞ d'Etterbeek.	nord-ouest	5
6	Forest est à/au ☞ d'Anderlecht.	sud-est	6
7	Saint-Josse-ten-Noode est à/au ☞ de Saint-Gilles.	nord-est	7
8	Quelle est la commune au sud la plus proche de Woluwe-Saint-Pierre ?	Auderghem	8
9	Par rapport à Forest, où se situe Berchem-Sainte-Agathe ?	au nord-ouest	9
10	Evere est à/au ☞ de Schaerbeek.	l'est ou nord-est	10
11	Je suis à Ganshoren et je vais vers le nord-est, j'arrive dans quelle commune ?	Jette	11
12	Berchem-Sainte-Agathe est à/au ☞ de Molenbeek-Saint-Jean.	nord-ouest	12
13	Depuis Jette, je décide d'aller vers l'est, dans quelle commune vais-je arriver ?	Bruxelles-Ville	13
14	Schaerbeek est au nord de quelle commune ?	Etterbeek	14
15	Forest est à/au ☞ d'Evere.	sud-ouest	15
16	Quelle commune de la région de Bruxelles-Capitale est la plus à l'ouest ?	Anderlecht	16
17	Si je veux aller à Uccle depuis Anderlecht, quelle direction dois-je prendre ?	sud-est	17
18	Uccle se trouve à/au ☞ de Bruxelles.	Sud	18
19	Quelle direction prend-on pour aller de Ixelles à Watermael-Boitsfort ?	sud-est	19
20	Uccle est à/au ☞ de Woluwe-Saint-Lambert.	sud-ouest	20



module I, bloc A

niv.2 : Réponds à la question sur les 8 directions cardinales



	Questions	Solutions	
21	Forest est à/au ☞ de Molenbeek-Saint-Jean.	sud-est	21
22	Watermael-Boitsfort est à/au ☞ de Saint-Gilles.	sud-est	22
23	Saint-Josse-Ten-Noode est à/au ☞ d'Ixelles.	nord	23
24	Je suis à Uccle et je désire aller à Watermael-Boitsfort, quelle direction vais-je prendre ?	est	24
25	Auderghem est à/au ☞ de Ganshoren.	sud-est	25
26	Evere est à/au ☞ de Saint-Gilles.	nord-est	26
27	Woluwe-Saint-Lambert est à/au ☞ d'Etterbeek.	nord-est	27
28	Je vis à Ganshoren. Pour me rendre au travail, je roule vers l'est. Mon magasin se trouve dans la 4 ^e commune rencontrée. De quelle commune s'agit-il ?	Evere	28
29	Nous sommes à Molenbeek-Saint-Jean et nous devons aller vers le/l' ☞ pour rejoindre Jette.	nord	29
30	Je suis à Saint-Gilles et je vais vers le nord-ouest, dans quelle commune vais-je arriver ?	Anderlecht	30
31	Par rapport à Forest, où se situe Schaerbeek ?	au nord-est	31
32	Saint-Gilles est à/au ☞ d'Evere.	sud-ouest	32
33	Woluwe-Saint-Lambert est à/au ☞ d'Auderghem.	nord	33
34	Par rapport à Koekelberg, où se situe Etterbeek ?	au sud-est	34
35	Ganshoren est à/au ☞ de Saint-Josse-ten-Noode.	nord-ouest	35
36	Uccle est à/au ☞ de Berchem-Sainte-Agathe.	sud-est	36
37	Par rapport à Uccle, où se situe Woluwe-Saint-Pierre ?	au nord-est	37
38	Auderghem est à/au ☞ de Schaerbeek.	sud-est	38
39	Ixelles est à/au ☞ de Ganshoren.	sud-est	39



module I, bloc A

niv.3 : Réponds à la question sur les 8 directions cardinales et les directions/échelles.



	Questions	Solutions	
1	Ixelles se trouve à 5 km au nord-est de quelle commune ?	Uccle	1
2	Je vais à 2 km au nord-ouest de Saint-Gilles, dans quelle commune vais-je arriver ?	Anderlecht	2
3	Tu es à Saint-Gilles, tu te déplaces de 3 km vers le sud-ouest, dans quelle commune es-tu ?	Forest	3
4	Je suis à Watermael-Boitsfort et je fais environ 6 km vers l'ouest. Dans quelle commune vais-je arriver ?	Uccle	4
5	Je suis à Watermael-Boitsfort et je marche environ 3 km vers le nord. Où suis-je ?	Auderghem	5
6	Je vais à 6 km vers l'est en partant de Forest. Dans quelle commune vais-je arriver ?	Auderghem	6
7	Un oiseau vole 3 km vers le nord en démarrant d'Etterbeek. Où arrive-t-il ?	Schaerbeek	7
8	Je suis située à 3 km au nord-est de Berchem-St-Agathe. Je suis la commune de ?	Jette	8
9	Je démarre de Jette et je vais à 2 km vers l'est. Dans quelle commune vais-je arriver ?	Bruxelles-ville	9
10	Je suis à Uccle, je fais 7 km vers le nord-ouest. Dans quelle commune vais-je arriver ?	Anderlecht	10
11	Je vais à 3 km vers le sud de Koekelberg, dans quelle commune vais-je arriver ?	Anderlecht	11
12	Je suis à Evere, je marche 3 km vers le sud. Dans quelle commune vais-je arriver ?	Woluwe-St-Lambert	12
13	Quelle commune est située à 3 km au nord-est de St-Josse ?	Evere	13
14	Combien de kilomètres séparent Woluwe-Saint-Lambert d'Etterbeek qui se trouve au sud-ouest ?	± 3 km	14
15	Ixelles se trouve à/au ? de Saint-Gilles.	l'est	15
16	J'ai oublié le nom de la commune qui se trouve à moins de 6 km au sud de Molenbeek-Saint-Jean. De quelle commune s'agit-il ?	Forest	16
17	Anderlecht se trouve à 3 km de Koekelberg. Dans quelle direction ?	sud-ouest	17

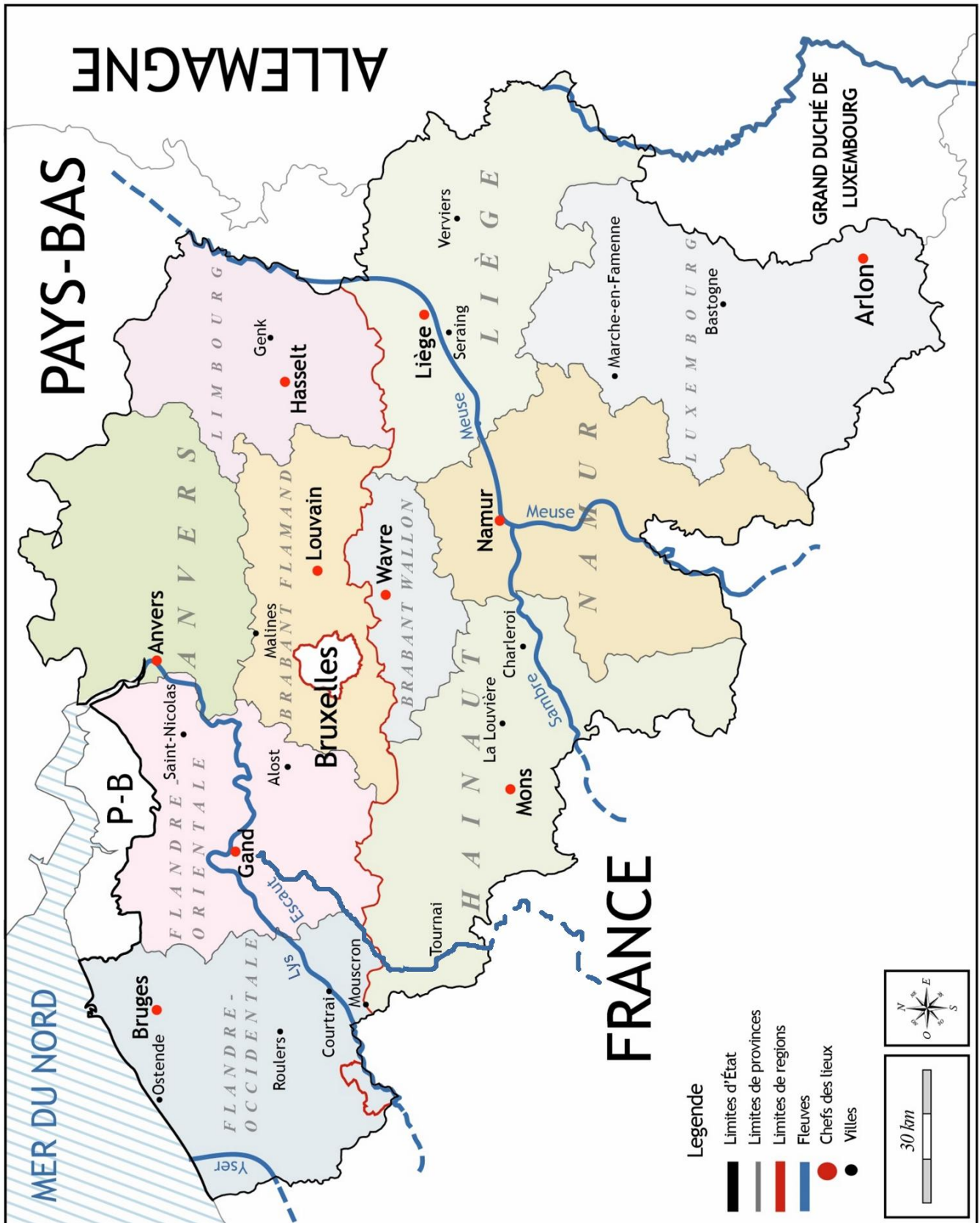


module I, bloc A

niv.3 : Réponds à la question sur les 8 directions cardinales et les directions/échelles.



	Questions	Solutions	
18	Combien de km séparent Bruxelles-ville de Schaerbeek ?	3 km	18
19	Je suis à la frontière nord d'Ixelles et je marche vers le nord sur 3 km. Dans quelle commune vais-je arriver ?	Schaerbeek	19
20	Quelle est la distance entre Bruxelles-ville et Koekelberg ?	3 km	20
21	Quelle commune est située à 6 km au sud-est de Forest ?	Watermael-Boitsfort	21
22	Je pars de la pointe nord de Woluwe-Saint-Pierre et je marche 10 km droit vers l'ouest. Dans quelle commune vais-je arriver ?	Molenbeek-Saint-Jean	22
23	Quelle est la distance entre le point le plus au nord et celui le plus au sud de la commune de Bruxelles-ville ?	entre 13 et 14 km	23
24	Ganshoren est à/au ☹ Schaerbeek.	l'ouest	24
25	Quelle commune est située à 3 km au sud d'Evere ?	Woluwe-St-Lambert	25
26	Je vais à 9 km au sud de St-Josse-Ten-Nood, dans quelle commune suis-je ?	Uccle	26
27	Quelle distance sépare le point le plus au sud du point le plus au nord de Bruxelles-Capitale ?	18 km	27
28	Quelle est la distance entre les extrémités à l'ouest et à l'est de la commune d'Anderlecht ?	entre 7 et 8 km	28
29	Je suis à Ixelles et je balade mon chien sur 6 km vers l'ouest. Dans quelle commune arrivons-nous ?	Anderlecht	29
30	Evere se trouve à 9 km au ☹ de Forest.	nord-est	30
31	Quelle commune se trouve à 4 km au nord de Auderghem ?	Woluwe-Saint-Lambert	31
32	Je suis à Uccle, je marche 6 km vers l'est. J'arrive dans la commune de ☹.	Watermael-Boitsfort	32
33	Un oiseau vole de Etterbeek à Molenbeek-Saint-Jean, quelle distance parcourt-il ?	entre 6 et 7 km	33
34	Jette se trouve à 12 km au nord de ☹.	Uccle	34
35	Quelle est la distance minimale entre Evere et Schaerbeek ?	3 km	35



Carte des fleuves de la Belgique, de ses provinces et de leurs chefs-lieux.



niv.1 : Réponds à la question sur les 4 directions cardinales.



Questions		Solutions	
1	Quelle est la province à l'ouest de la province de Namur ?	Hainaut	1
2	La province du Luxembourg est à/au ☹ de Liège.	sud	2
3	La ville de Mouscron est à/au ☹ de la ville de Courtrai.	sud	3
4	Namur est la plus proche ville à/au ☹ de Seraing.	l'ouest	4
5	Quelle province au nord de Namur touche son territoire ?	Brabant wallon	5
6	Tournai est à/au ☹ de Gand.	sud	6
7	Bruges se situe à/au ☹ d'Ostende.	l'est	7
8	Ostende est à/au ☹ de Bruges.	l'ouest	8
9	Roulers est/à ☹ d'Alost.	l'ouest	9
10	Mons est à/au ☹ de Charleroi.	l'ouest	10
11	Genk est à/au ☹ de Liège.	nord	11
12	Tournai est à/au ☹ de Liège.	l'ouest	12
13	La province de Namur est à/au ☹ de la province du Brabant wallon.	sud	13
14	Quelle province est la plus à l'est du pays ?	Liège	14
15	Saint-Nicolas est à/au ☹ de Alost.	nord	15
16	Quelle ville sur la carte est la plus à l'est du pays ?	Verviers	16
17	La province du Brabant flamand est à/au ☹ de la province du Brabant wallon.	nord	17
18	L'Allemagne se situe à/au ☹ de la Belgique.	l'est	18
19	Les Pays-Bas sont tout à/au ☹ du pays.	nord	19
20	Anvers est à/au ☹ des Pays-Bas.	sud	20
21	La Louvière est à/au ☹ de Mons.	l'est	21



niv.1 : Réponds à la question sur les 4 directions cardinales.



Questions		Solutions	
22	La ville de Namur est à/au ☞ de Louvain.	sud	22
23	La province d'Anvers est à/au ☞ du Brabant flamand.	nord	23
24	La province de la Flandre-Occidentale est à/au ☞ de la Flandre-Orientale.	l'ouest	24
25	La ville de Seraing est à/au ☞ de Verviers.	l'ouest	25
26	Je suis à Anvers et je veux aller à Bruges, quelle direction dois-je prendre ?	l'ouest	26
27	La ville d'Hasselt est à/au ☞ de Louvain.	l'est	27
28	Quelle province est le plus à l'ouest de la Belgique ?	Flandre Occidentale	28
29	Je suis à Mons, où se situe la frontière avec l'Allemagne ?	l'est	29
30	Quelle province à l'est du Hainaut commence par un "L" ?	Liège	30
31	Les provinces du Limbourg, de ☞ et du Luxembourg se succèdent selon un axe nord-sud.	Liège	31
32	Quel est le chef-lieu au sud de Gand ?	Mons	32
33	L'Yser traverse l'/le ☞ de la Flandre-Occidentale.	ouest	33
34	Louvain se trouve à/au ☞ de Bruxelles et à/au ☞ d'Hasselt.	l'est, l'ouest	34
35	Quelle ville commençant par un "M" se trouve au nord de la Meuse ?	Malines. (Mons est au nord de la Sambre).	35
36	Partant de Courtrai, si je marche à l'est, quelle province vais-je rencontrer en premier ?	Flandre Orientale	36
37	Partant de Wavre, je roule au nord. Par quel pays je sors de la Belgique ?	Les Pays-Bas	37
38	La ville de Charleroi est à/au ☞ de la ville d'Anvers.	sud	38
39	Par rapport à Gand, où se situe Malines ?	à l'est	39
40	La ville de La Louvière est à/au ☞ de la ville de Namur.	l'ouest	40



niv.2 : Réponds à la question sur les 8 directions.



Questions		Solutions	
1	La province du Luxembourg est à/au ☞ de la Belgique.	sud/sud-est	1
2	La Louvière est à/au ☞ de Mons.	l'est	2
3	Mons est à/au ☞ d'Alost.	sud	3
4	Mouscron se trouve à/au ☞ de Gand.	sud-ouest	4
5	Quelle est la province au nord-est de la province de Namur qui ne touche pas son territoire ?	Limbourg	5
6	Quelle est la province au sud-ouest de la province d'Anvers qui ne touche pas son territoire ?	Hainaut	6
7	La Mer du Nord se trouve à/au de la province de Liège.	nord-ouest	7
8	Bruxelles se trouve à/au ☞ de Mons.	nord-est	8
9	Avec mon ami, je veux aller d'Ostende à Gand, quelle direction prendre ?	sud-est	9
10	La ville de Verviers se trouve à/au ☞ de Marche-en-Famenne.	nord-est	10
11	L'Yser se trouve à/au ☞ de la ville d'Ostende.	sud-ouest	11
12	Je suis à Seraing et je veux aller voir mes grands-parents à Louvain, quelle direction dois-je prendre ?	nord-ouest	12
13	Courtrai est à/au ☞ d'Anvers.	sud-ouest	13
14	Mouscron est à/au ☞ de La Louvière.	nord-ouest	14
15	En balade à vélo à Saint-Nicolas, nous décidons d'aller vers le ☞ pour rejoindre Gand.	sud-ouest	15
16	La Louvière est à/au ☞ d'Hasselt.	sud-ouest	16
17	Verviers est à/au ☞ de la province d'Anvers.	sud-est	17
18	La Meuse démarre en France. Après Namur, la Meuse va vers le/l' ☞ jusqu'aux Pays-Bas.	nord-est	18
19	Je prends le train à Anvers pour rejoindre Genk, dans quelle direction vais-je ?	sud-est	19
20	Hasselt se trouve à/au ☞ de Namur.	nord-est	20



niv.2 : Réponds à la question sur les 8 directions.



Questions		Solutions	
21	Quelle ville est la plus proche au nord-est d'Hasselt ?	Genk	21
22	Quelle province se trouve au sud-est de la province d'Anvers ?	Limbourg	22
23	Le Grand-Duché de Luxembourg se trouve à/au ☹ de la Belgique.	sud-est	23
24	Le Brabant flamand se trouve à/au ☹ de la province de Liège.	nord-ouest	24
25	La province du Hainaut est à/au ☹ du Brabant Wallon.	sud-ouest	25
26	Charleroi est à/au ☹ de Liège.	sud-ouest	26
27	Pour aller à Ostende depuis Bruxelles, je vais prendre un train qui va vers le ☹.	nord-ouest	27
28	La province d'Anvers est à/au ☹ de la province de Namur.	nord	28
29	L'Escaut se trouve à/au ☹ de la ville de Bastogne.	nord-ouest	29
30	Tournai est à/au ☹ de l'Yser.	sud-est	30
31	Par rapport à Namur, où se situe Saint-Nicolas ?	au nord-ouest	31
32	Marche-en-Famenne se trouve à/au ☹ de Namur.	sud-est	32
33	Où se situe Malines par rapport à Tournai ?	au nord-est	33
34	Courtrai est à/au ☹ de Bruxelles.	l'ouest	34
35	Où se situe Charleroi par rapport à Genk ?	au sud-ouest	35
36	Par rapport à Wavre, où se situe Gand ?	au nord-ouest	36
37	La Louvière est à/au ☹ de Bruges.	sud-est	37
38	Par rapport à Hasselt, où se situe Wavre ?	sud-ouest	38
39	Où se situe Louvain par rapport à Mons ?	au nord-est	39
40	Anvers se trouve à/au ☹ de Liège.	nord-ouest	40
41	Par rapport à Tournai, où se situe Bruxelles ?	au nord-est	41



niv.3 : Réponds à la question sur les 8 directions cardinales et les distances/échelles.



Questions		Solutions	
1	Courtrai est située à environ ☹ km à vol d'oiseau à l'ouest de Bruxelles.	70 km	1
2	Wavre est située à environ ☹ km à vol d'oiseau au nord-est de Mons.	50 km	2
3	Mons est située à environ ☹ à l'ouest de Namur.	60 km	3
4	Quelle province est située à moins de 10 km de Bruxelles ?	Brabant Wallon	4
5	Quelle ville se trouve à 25 km à vol d'oiseau à l'ouest de Verviers ?	Seraing	5
6	Quelle ville se trouve à 80 km à vol d'oiseau à l'ouest d'Anvers ?	Bruges	6
7	Marche-en-Famenne se situe à vol d'oiseau à ☹ au sud de Hasselt.	75 km	7
8	Mons se situe à 40 km à vol d'oiseau à/au ☹ de Tournai.	sud-est	8
9	Je suis en France. Je veux traverser la Belgique en prenant le chemin le plus court pour aller aux Pays-Bas. Combien de km vais-je devoir parcourir ?	65 km (le long de la côte)	9
10	Alost se situe à/au ☹ de Namur.	nord-ouest	10
11	Saint-Nicolas se trouve à 45 km au nord-ouest de ☹.	Louvain	11
12	Namur se trouve à l'est de Mons mais à quelle distance ?	60 km	12
13	En comptant la distance la plus courte, le Hainaut se trouve à 30 km à l'Ouest de ☹.	Liège	13
14	Malines se trouve au nord de Charleroi, mais quelle distance sépare ces deux villes ?	60 km	14
15	Anvers se trouve à 90 km au nord-est de ☹.	Mouscron	15
16	☹ se trouve à 40 km au nord de Seraing.	Genk	16
17	Je suis au sud des Pays-Bas et je souhaite aller au Grand-Duché de Luxembourg, quelle direction suivre en passant par la province de Liège ?	sud	17
18	Je pars de la Flandre-Occidentale et je vais vers la province du Luxembourg. Dans quelle direction vais-je ?	sud-est	18
19	Au sud de la province d'Anvers se trouve la Province du ☹.	Brabant Flamand	19

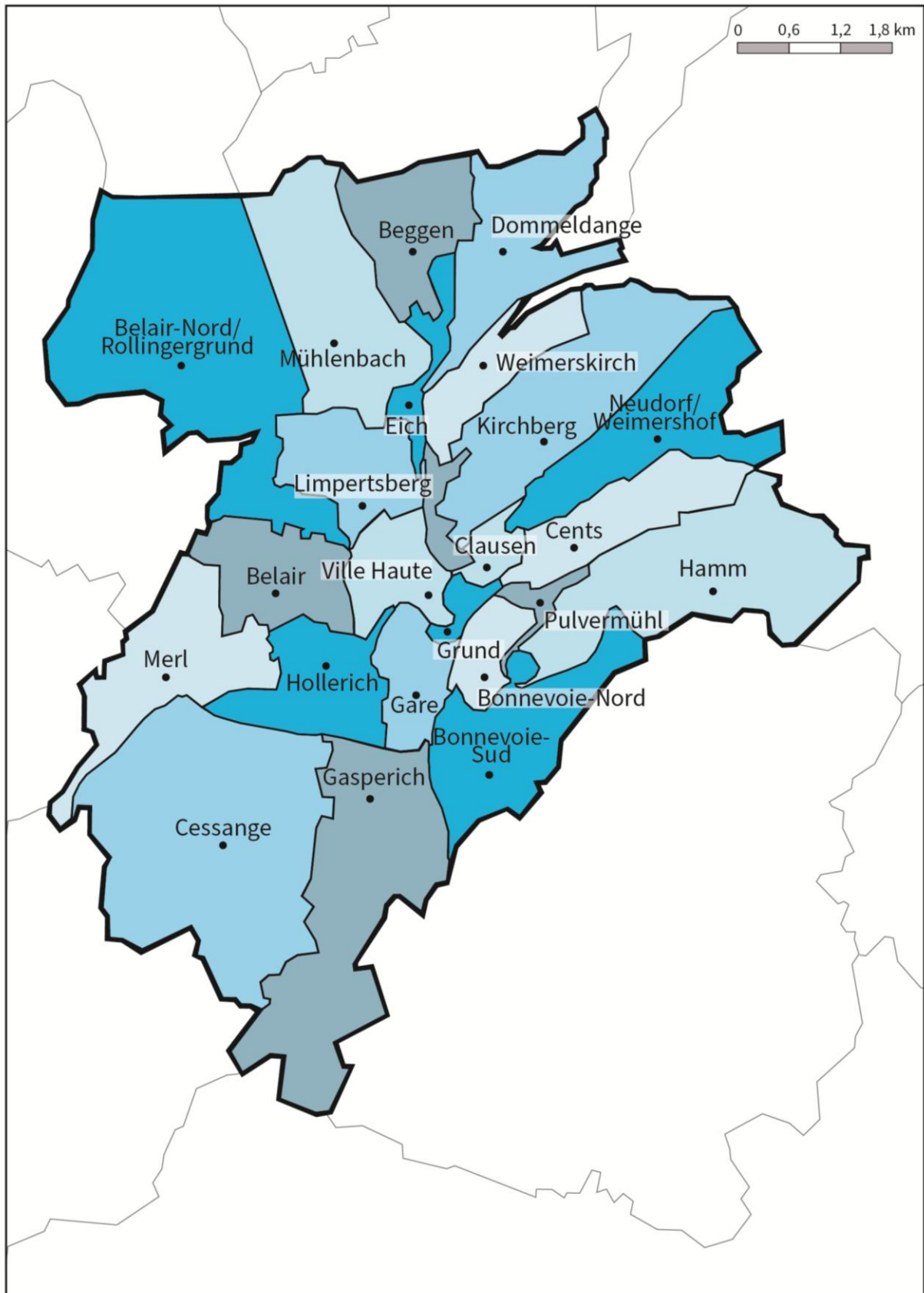


niv.3 : Réponds à la question sur les 8 directions cardinales et les distances/échelles.



	Questions	Solutions	
20	Cite-moi la ville la plus au sud du pays représentée sur la carte.	Arlon	20
21	Louvain se trouve à 85 km au nord-ouest de quelle ville ?	Marche-en-Famenne	21
22	Quelle ville représentée sur la carte se trouve le plus à l'Ouest du pays ?	Ostende	22
23	Donne-moi la ville la plus à l'est de la province de Liège.	Verviers	23
24	se trouve à 65 km à l'est de Roulers.	Alost	24
25	La province de Namur se trouve à/au de la province d'Anvers.	sud	25
26	Je souhaite aller en voiture de Bruges à Alost en passant par Courtrai combien de km vais-je devoir rouler ?	90 km	26
27	La Mer du Nord ne se trouve pas vraiment au nord par rapport à notre pays, où se trouve-elle exactement ?	nord-ouest	27
28	Mon train va de Arlon à Ostende en passant par Bruxelles qui se trouve au nord-ouest, quelle sera la distance parcourue par mon train ?	250 km	28
29	Saint-Nicolas se trouve à 70 km à/au de La Louvière.	nord	29
30	Quelle est la distance entre Marche-en-Famenne et Bastogne ?	30 km	30
31	La province du Luxembourg se situe à km au sud-est de la province du Brabant Wallon (en prenant la distance la plus courte).	40 km	31
32	Trouve le chef-lieu du Hainaut.	Mons	32
33	La Louvière se situe à/au par rapport à la Sambre.	nord ou nord-ouest	33
34	Quelle est la distance la plus courte entre Genk et la Meuse.	15 km	34
35	Vrai ou faux : Hasselt se trouve en Wallonie.	Faux	35
36	Quelles sont les deux villes au sud de Marche-en-Famenne ?	Bastogne et Arlon	36
37	Quelles villes se situe à 100 km de Verviers ?	Charleroi et Bruxelles	37
38	Arlon se trouve à/au de la Belgique.	sud-est	38
39	100 km à l'est d'Ostende on trouve .	Anvers	39

Module II.A - Luxembourg-ville



Carte de la ville de Luxembourg et de ses quartiers.



niv.1 : Réponds à la question sur les 4 directions cardinales



	Questions	Solutions	
1	Beggen se situe à/au ☞ de Gasperich.	nord	1
2	Où se situe Gasperich par rapport à la Ville Haute ?	au sud	2
3	Belair se situe à/au ☞ de Hamm.	l'ouest	3
4	Quel quartier est au sud de Merl ?	Cessange	4
5	Beggen se situe à/au ☞ de la ville de Luxembourg.	nord	5
6	Cents se situe à/au ☞ de Belair.	l'est	6
7	Quel quartier est à l'ouest de Mühlenbach ?	Belair-Nord/ Rollingergrund	7
8	Le quartier de la Gare se situe à/au ☞ d'Hollerich.	l'est	8
9	Cessange se situe à/au ☞ de Gasperich.	l'ouest	9
10	Où se situe Beggen par rapport à Bonnevoie-Sud ?	au nord	10
11	Partant de Clausen, dans quelle direction dois-je rouler pour aller à Merl ?	ouest	11
12	Hamm se situe à/au ☞ de Belair.	l'est	12
13	Quel quartier est directement au sud de Dommeldange ?	Weimerskirch	13
14	Eich se situe à/au ☞ de Belair-Nord/Rollingergrund.	l'est	14
15	Mühlenbach se situe à/au ☞ de la Gare.	nord	15
16	Pulvermühl est à/au ☞ de Hamm.	l'ouest	16
17	Par rapport à Mühlenbach, où se situe Limpertsberg ?	au sud	17
18	Bonnevoie-Nord se situe à/au ☞ de Kirchberg.	sud	18
19	Belair-Nord/Rollingergrund se situe à/au ☞ de Mühlenbach.	l'ouest	19
20	Par rapport à Beggen, où se situe le quartier de la Ville Haute ?	au sud	20
21	Où se situe Pulvermühl par rapport à Kirchberg ?	au sud	21
22	Le quartier de la Gare se situe à/au ☞ d'Eich.	sud	22



niv.1 : Réponds à la question sur les 4 directions cardinales



	Questions	Solutions	
23	Hamm se situe à/au ☞ de la ville de Luxembourg.	l'est	23
24	En partant de Bonnevoie-Sud, dans quelle direction dois-je rouler pour aller à Clausen ?	nord	24
25	Où se situe Kirchberg par rapport à Bonnevoie-Sud ?	au nord	25
26	Neudorf/Weimershof se situe à/au ☞ de Eich.	l'est	26
27	Cessange se situe à/au ☞ de Belair-Nord.	sud	27
28	Quel est le quartier le plus au sud de la ville de Luxembourg ?	Gasperich	28
29	Le quartier de la Gare est à/au ☞ de la Ville Haute.	sud	29
30	Merl se situe à/au ☞ de Belair-Nord/Rollingergrund.	sud	30
31	La Ville Haute se situe à/au ☞ de Gasperich.	nord	31
32	Où se situe Bonnevoie-Nord par rapport au quartier de Hamm ?	à l'ouest	32
33	Hollerich se situe à/au ☞ de Merl.	l'est	33
34	Weimerskirch se situe à/au ☞ de Bonnevoie-Sud.	nord	34
35	En partant de Eich, dans quelle direction dois-je rouler pour aller à Neudorf/Weimershof ?	est	35
36	Par rapport à Clausen, où se situe Belair ?	à l'ouest	36
37	Je pars de Bonnevoie-Nord vers Merl, quels quartiers vais-je traverser ?	Gare et Hollerich	37
38	Où se situe Bonnevoie-Sud par rapport à Cents ?	au sud	38
39	En partant de Kirchberg, dans quelle direction dois-je rouler pour aller à Eich ?	ouest	39
40	Dommeldange se situe à/au ☞ de Bonnevoie-Nord.	nord	40
41	Quel est le quartier le plus à l'est de la ville de Luxembourg ?	Hamm	41
42	En partant de Cents, dans quelle direction dois-je rouler pour aller à Limpertsberg ?	ouest	42
43	Où se situe Limpertsberg par rapport à Hollerich ?	nord	43



niv.2 : Réponds à la question sur les 8 directions.



Questions		Solutions	
1	Le quartier de Belair se trouve à/au ☞ de celui de Limpertsberg.	sud-ouest	1
2	Cessange se situe à/au ☞ du quartier de Grund.	sud-ouest	2
3	Limpertsberg se situe à/au ☞ de Dommeldange.	sud-ouest	3
4	Cents se situe à/au ☞ de Mühlenbach.	sud-est	4
5	Limpertsberg se situe à/au ☞ de Grund.	nord-ouest	5
6	Le quartier de Eich se situe à/au ☞ de Belair.	nord-est	6
7	Mühlenbach se situe à/au ☞ de Gasperich.	nord	7
8	Gasperich se situe à/au ☞ de Bonnevoie-Nord.	sud-ouest	8
9	Cessange se situe à/au ☞ de Neudorf/Weimershof.	sud-ouest	9
10	Pour rejoindre le canton de Hamm en partant de celui de Beggen, je dois aller à/au ☞.	sud-est	10
11	Pulvermühl se situe à/au ☞ de Limpertsberg.	sud-est	11
12	Le quartier de la gare se situe à/au ☞ d’Hamm.	(sud-)ouest	12
13	Merl se situe à/au ☞ de Limpertsberg.	sud-ouest	13
14	Cents se situe à/au ☞ de Rollingergrund/Belair-Nord.	sud-est	14
15	Hollerich se situe à/au ☞ d’Eich.	sud(-ouest)	15
16	Dommeldange se situe à/au ☞ de Merl.	nord-est	16
17	Gasperich se situe à/au ☞ de Pulvermühl.	sud-ouest	17
18	Grund se situe à/au ☞ de Muhlenbach.	sud(-est)	18
19	Eich se situe à/au ☞ d’Hamm.	nord-ouest	19
20	Weimerskirch se situe à/au ☞ d’Hollerich.	nord-est	20
21	Belair se situe à/au ☞ de Dommeldange.	sud-ouest	21



niv.2 : Réponds à la question sur les 8 directions.



Questions		Solutions	
22	Le quartier de Bonnevoie-Sud se situe à/au ☞ d'Hamm.	sud-ouest	22
23	Le quartier de la gare se situe à/au ☞ de Clausen.	sud-ouest	23
24	Ville Haute se situe à/au ☞ de Hollerich.	nord-est	24
25	Le quartier de la gare se situe à/au ☞ de Limpertsberg.	sud	25
26	Cents se situe à/au ☞ de Merl.	(nord-)est	26
27	Le quartier de Kirchberg se situe à/au ☞ de celui de Cessange.	nord-est	27
28	Le quartier de la gare se situe à/au ☞ de Neudorf/Weimershof.	sud-ouest	28
29	Beggen se situe à/au ☞ de Bonnevoie-Sud.	nord	29
30	Belair se situe à/au ☞ de Kirchberg.	sud-ouest	30
31	Je suis à Grund, quelle direction dois-je prendre pour aller à Eich ?	nord(-ouest)	31
32	Ville Haute se situe à/au ☞ de Merl.	(nord-)ouest	32
33	Limpertsberg se situe à/au ☞ de Hollerich.	nord	33
34	Mullenbach se situe à/au ☞ de Bonnevoie-Sud.	nord-ouest	34
35	Merl se situe à/au ☞ de Cents.	(sud-)ouest	35
36	Dommeldange se situe à/au ☞ de Neudorf/Weimershof.	nord-ouest	36
37	La Ville Haute se situe à/au ☞ de Hamm.	l'ouest	37
38	Bonnevoie-Sud se situe à/au ☞ de Gasperich.	nord-est	38
39	Belair se situe à/au ☞ de Kirchberg.	sud-ouest	39
40	Gasperich se situe à/au ☞ de Belair.	sud(-est)	40



niv.3 : Réponds à la question sur les 8 directions cardinales et les distances/échelles.



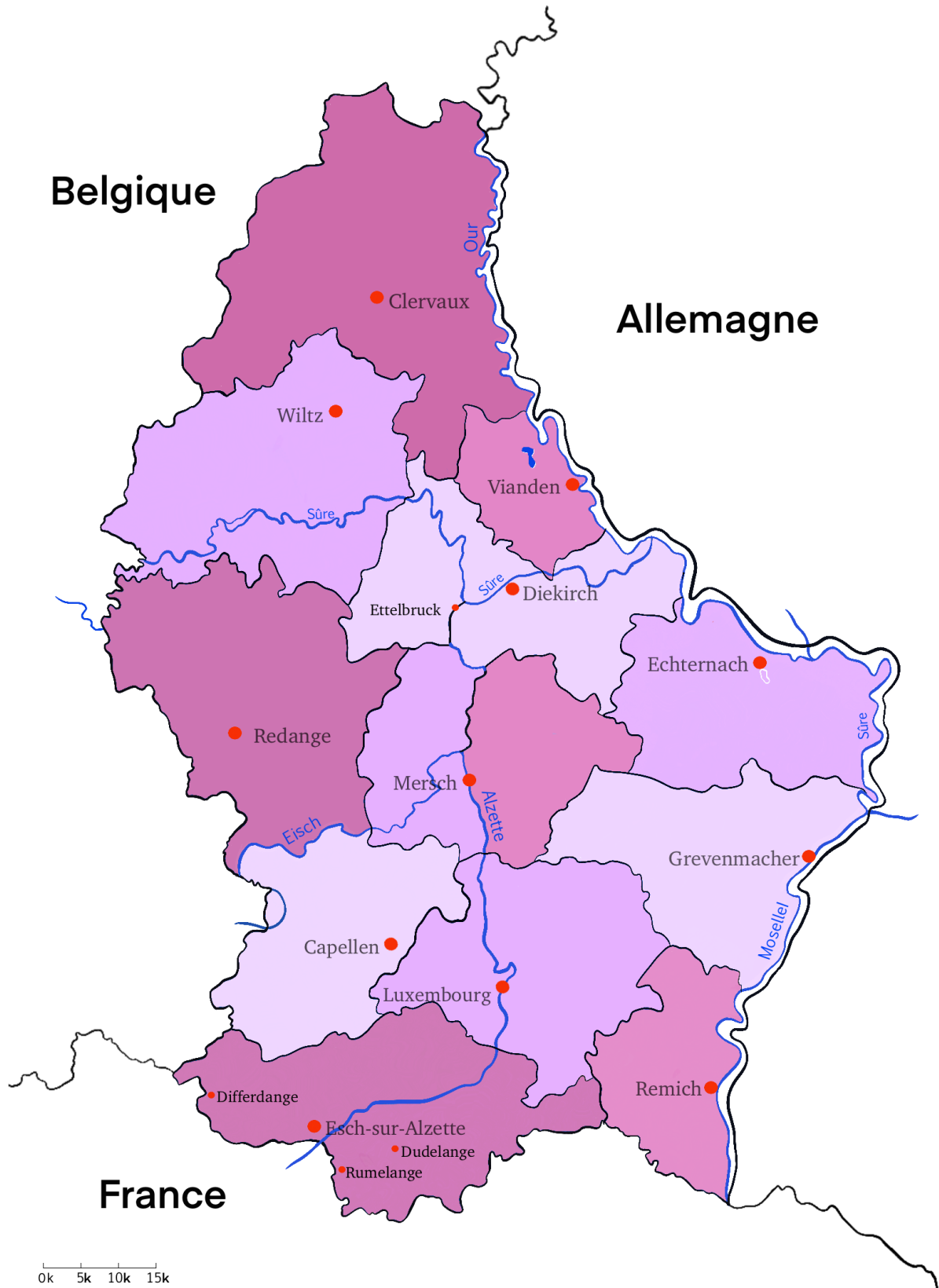
Questions		Solutions	
1	Quelle distance sépare Cessange de Gasperich ?	1,8 km environ	1
2	Je pars de Bonnevoie-Nord et je parcours 1 km environ vers le nord-est. Dans quel quartier vais-je arriver ?	Pulvermühl	2
3	Cite le quartier le plus au sud de la ville de Luxembourg ?	Gasperich	3
4	Si je suis à Belair et que je parcours 1,5 km environ vers le nord-est, dans quelle ville vais-je arriver ?	Limpertsberg	4
5	Je suis à Merle, je parcours 3 km vers l'est, dans quel quartier vais-je arriver ?	Gare	5
6	Combien de kilomètres dois-je parcourir pour aller de Mühlenbach à Bonnevoie-Sud ?	5,4 km environ	6
7	Je pars de Beggen, je parcours 2,5 km environ vers le sud-est. Dans quel quartier vais-je arriver ?	Kirchberg	7
8	Combien de kilomètres dois-je parcourir pour aller de Merl à Gare ?	3 km environ	8
9	Combien de kilomètres séparent le point le plus au nord du point le plus au sud de la ville de Luxembourg ?	12,4 km environ	9
10	Si je suis à Hamm et que je parcours 4,2 km vers le nord-ouest. Dans quel quartier vais-je arriver ?	Dommeldange	10
11	Quelle distance sépare Belair de Gasperich ?	2,5 km environ	11
12	Combien de kilomètres dois-je parcourir pour aller de Mühlenbach à Bonnevoie Sud ?	5,4 km environ	12
13	Cite le quartier au nord-ouest de Limpertsberg ?	Belair-Nord / Rollingergrund	13
14	Je suis à Bonnevoie-Sud et je parcours 1,2 km vers Belair-Nord / Rollingergrund. Quelle est ma destination ?	Gare	14
15	Je pars de Limpertsberg, je parcours 3,6 km vers le sud. Dans quel quartier vais-je arriver ?	Gasperich	15
16	Si je suis à Belair et que je parcours 1,8 km vers l'est, dans quel quartier vais-je arriver ?	Ville Haute	16



niv.3 : Réponds à la question sur les 8 directions cardinales et les distances/échelles.



	Questions	Solutions	
17	Combien de kilomètres dois-je parcourir pour aller de Belair à Eich ?	2,5 km environ	16
17	Cite le plus grand quartier au sud-ouest de Luxembourg ville ?	Cessange	17
18	Si je suis à Bonnevoie-Nord et que je parcours 3 km vers le nord-ouest, dans quel quartier vais-je arriver ?	Limpertsberg	18
19	Je suis à Neudorf / Weimershof, j'ai parcouru 600 m pour sortir de la ville de Luxembourg. Quelle direction ai-je prise ?	l'est	19
20	Si je suis à Clausen et que je parcours 2 km vers le nord, dans quel quartier vais-je arriver ?	Weimerskirch	20
21	Je pars de Mühlenbach, je marche 1 km vers le sud-uest. Dans quel quartier vais-je arriver ?	Eich	21
22	Cite le quartier au nord-est de Merl ?	Belair	22
23	Si je suis à Clausen et que je parcours 1 km vers le sud-est, dans quel quartier vais-je arriver ?	Hamm	23
24	Quelle distance sépare Gasperich et Hamm ?	4,6 km environ	24
25	Cite les quatre quartiers de la carte les plus au nord ?	Belair-Nord, Mühlenbach, Beggen et Dommeldange	25
26	Je démarre de Cessange, je vais à Gare puis je me rends à Limpertsberg vers le nord-ouest. Quelle distance ai-je parcourue ?	5 km environ	26
27	Je pars de Merl, je parcours 3 km vers le nord-est. Dans quel quartier vais-je arriver ?	Limpertsberg	27
28	Quelle distance sépare Bonnevoie-Nord et Pulvermühl ?	1 km environ	28
29	Je démarre de l'extrême sud de la ville, je me rends à Cents en passant d'abord par Merl. Quelle distance ai-je parcourue ?	10,2 km environ	29



Carte des cantons, des chefs-lieux, des villes principales et des rivières du Grand-Duché de Luxembourg.



niv.1 : Réponds à la question sur les 4 directions cardinales.



	Questions	Solutions	
1	La ville d'Esch-sur-Alzette est située à/au ☹ du Grand-Duché de Luxembourg.	sud	1
2	La ville d'Echternach est située à/au ☹ du Grand-Duché de Luxembourg.	l'est	2
3	La ville de Mersch est située à/au ☹ d'Echternach.	l'ouest	3
4	La ville de Remich est située à/au ☹ d'Esch-sur-Alzette.	l'est	4
5	Quel cours d'eau est situé à l'ouest de Grevenmacher ?	l'Alzette	5
6	La ville de Capellen est située à/au ☹ de Luxembourg.	l'ouest	6
7	Vianden est situé à/au ☹ de la ville de Diekirch.	nord	7
8	La ville de Clervaux est située à/au ☹ de la ville d'Ettelbruck.	nord	8
9	La ville de Remich est située à/au ☹ de Grevenmacher.	sud	9
10	Quelle est la ville située à l'ouest d'Esch-sur-Alzette ?	Differdange	10
11	Quelle est la ville située au sud d'Echternach ?	Grevenmacher	11
12	La ville de Clervaux est la ville la plus à/au ☹ du Grand-Duché de Luxembourg.	nord	12
13	Quelles villes sont situées dans le même canton que la ville d'Esch-sur-Alzette ?	Differdange, Rumelange, Dudelange	13
14	Quel pays est au nord de Clervaux ?	la Belgique	14
15	Redange est à/au ☹ de la Belgique.	l'est	15
16	Quel pays est à l'est de Remich ?	l'Allemagne	16
17	La ville de Luxembourg est à/au ☹ de Vianden.	sud	17
18	La ville d'Esch-sur-Alzette est à/au ☹ de Remich.	l'ouest	18
19	Quelle est la ville la plus au sud du Grand-Duché de Luxembourg ?	Rumelange	19
20	Le cours d'eau Our est situé à/au ☹ de la ville de Clervaux.	l'est	20



niv.1 : Réponds à la question sur les 4 directions cardinales.



	Questions	Solutions	
21	Vianden se situe à/au ☞ de Wiltz.	l'est	21
22	Quelles villes se situent dans des cantons qui ne sont pas limitrophes au Grand-Duché de Luxembourg ?	Mersch et Luxembourg	22
23	La ville de Capellen se situe à/au ☞ de Wiltz.	sud	23
24	Diekirch est à/au ☞ de la France.	nord	24
25	La France se situe à/au ☞ de la ville d'Esch-sur-Alzette.	sud	25
26	La ville de Wiltz est à/au ☞ d'Esch-sur-Alzette.	nord	26
27	La ville de Clervaux se situe à/au ☞ d'Esch-sur-Alzette.	nord	27
28	La ville de Mersch se situe à/au ☞ d'Echternach.	l'ouest	28
29	La ville d'Esch-sur-Alzette est à/au ☞ du Grand-Duché de Luxembourg.	sud	29
30	Vianden est à/au ☞ de l'Allemagne.	l'ouest	30
31	La ville de Mersch se situe à/au ☞ de Redange.	l'est	31
32	Quel cours d'eau est situé au sud de Redange ?	l'Eisch	32
33	La ville de Redange se situe à/au ☞ de Clervaux.	sud	33
34	Quelle est la ville la plus à l'est du Grand-Duché de Luxembourg ?	Grevenmacher	34
35	La ville de Luxembourg se situe à/au ☞ de la ville de Mersch.	sud	35
36	Où se situe la ville de Diekirch par rapport à la ville de Capellen ?	au nord	36
37	Le cours d'eau Alzette est situé à/au ☞ de la ville de Redange.	l'est	37
38	La ville d'Ettelbruck se situe à/au ☞ de la ville d'Echternach.	l'ouest	38
39	La ville de Mersch se situe à/au ☞ de la ville de Dudelange.	nord	39
40	Où se situe la ville de Remich par rapport à la ville de Differdange ?	à l'est	40
41	La ville de Differdange se situe à/au ☞ de la ville de Redange.	sud	41



niv.2 : Réponds à la question sur les 8 directions cardinales.



Questions		Solutions	
1	Remich se situe à/au ☞ de Dudelange.	l'est	1
2	La ville de Echternach se situe à/au ☞ de Wiltz.	sud-est	2
3	Redange se situe à/au ☞ de Grevenmacher.	nord-ouest	3
4	Remich se situe à/au ☞ du canton de Wiltz.	sud-est	4
5	La ville de Clervaux se situe à/au ☞ de Grevenmacher.	nord-ouest	5
6	Rumelange se situe à/au ☞ de la ville d'Echternach.	sud-ouest	6
7	La ville de Wiltz se situe à/au ☞ de la Sûre.	nord	7
8	Remich se situe à/au ☞ de Clervaux.	sud-est	8
9	Differdange se situe à/au ☞ du Grand-Duché de Luxembourg.	sud-ouest	9
10	Mersch se situe à/au ☞ de Remich.	nord-ouest	10
11	Esch-sur-Alzette se situe à/au ☞ de la Sûre.	sud	11
12	La Moselle se situe à/au ☞ du Grand-Duché de Luxembourg.	sud-est	12
13	Cappellen se situe à/au ☞ de la Sûre.	sud	13
14	Je suis à Ettelbruck. Dans quelle direction dois-je me diriger pour aller vers Remich.	sud-est	14
15	La ville de Clervaux se situe à/au ☞ du Grand-Duché de Luxembourg.	nord	15
16	Rumelange se situe à/au ☞ de Esch-sur-Alzette.	sud-est	16
17	Grevenmacher se situe à/au ☞ de Diekirch.	sud-est	17
18	La Sûre se situe à/au ☞ d'Esch-sur-Alzette.	nord	18
19	La ville de Luxembourg se situe à/au ☞ de la Sûre.	sud	19
20	La ville de Remich se situe à/au ☞ de Wiltz.	sud-est	20



niv.2 : Réponds à la question sur les 8 directions cardinales.



	Questions	Solutions	
21	La France est à/au ☞ du Grand-Duché de Luxembourg.	sud	21
22	Redange se situe à/au ☞ de Vianden.	sud-ouest	22
23	Differdange se situe à/au ☞ de la ville de Luxembourg.	sud-ouest	23
24	L'Our est à/au ☞ du Grand-Duché de Luxembourg.	nord-est	24
25	Je suis à Clervaux et je veux rejoindre rapidement l'Our, quelle direction dois-je prendre ?	est	25
26	Capellen se situe à/au ☞ de Redange.	sud-est	26
27	Dudelange est à/au ☞ d'Echternach.	sud-ouest	27
28	La ville de Luxembourg se situe à/au ☞ de Redange.	sud-est	28
29	Le canton dans lequel se trouve Remich se situe à/au ☞ du Grand-Duché de Luxembourg.	sud-est	29
30	Echternach se situe à/au ☞ de Capellen.	nord-est	30
31	Wiltz se situe à/au ☞ de la Moselle.	nord-ouest	31
32	Clervaux se situe à/au ☞ de Grevenmacher.	nord-ouest	32
33	Ettelbruck se situe à/au ☞ de Wiltz.	sud	33
34	La Sûre se situe à/au ☞ de Dudelange.	nord	34
35	Clervaux se situe à/au ☞ de Sûre.	nord	35
36	Differdange se situe à/au ☞ de la Moselle.	l'ouest	36
37	L'Azette se situe à/au ☞ de Remich.	l'ouest	37
38	Le canton dans lequel se trouve la ville de Clervaux se situe à/au ☞ de Remich.	nord(-ouest)	38
39	Remich à/au ☞ de l'Alzette.	l'est	39



niv.3 : Réponds à la question sur les 8 directions cardinales et les distances/échelles.



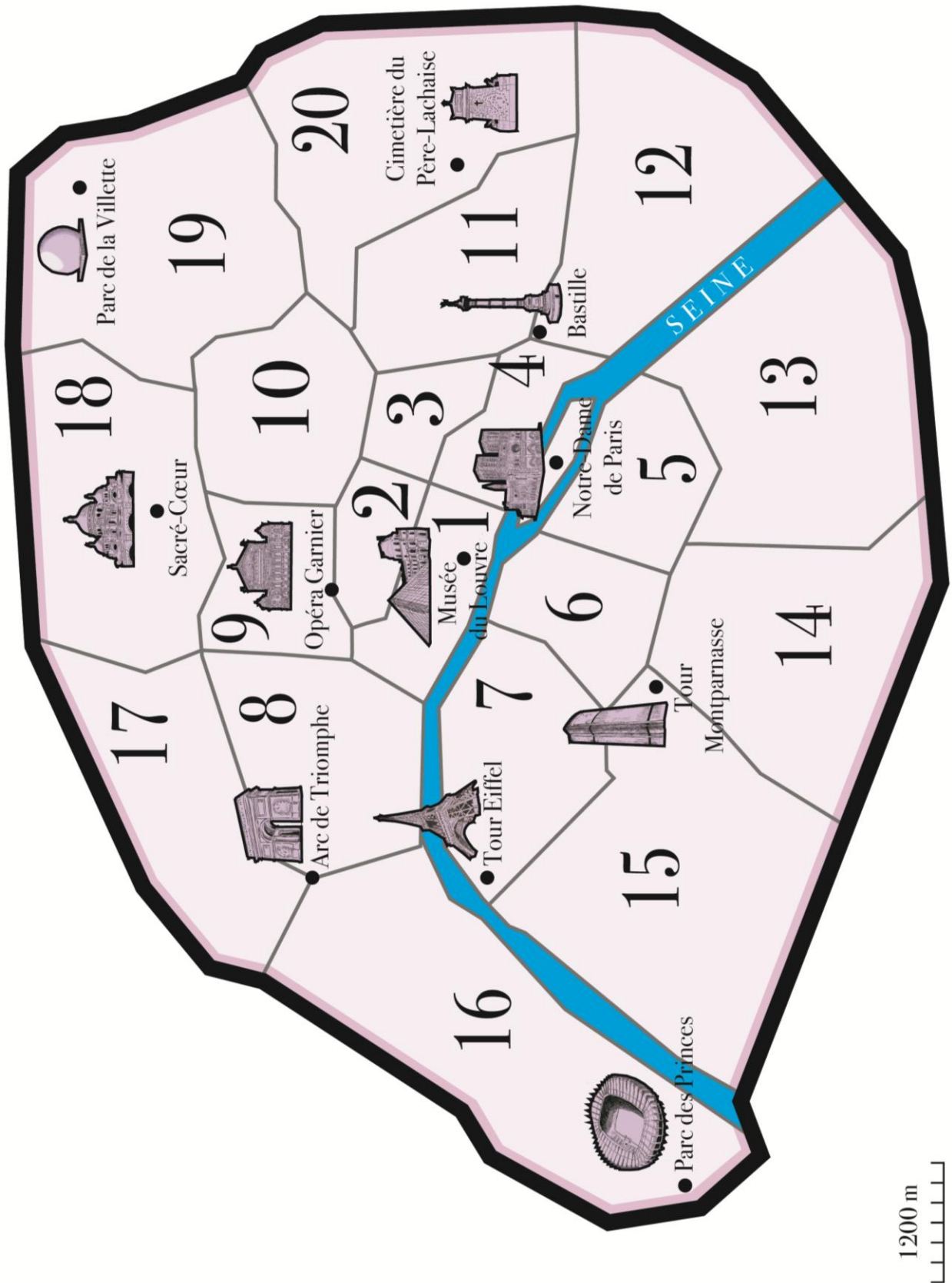
	Questions	Solutions	
1	Quelle distance sépare Redange de Mersch ?	32 km environ	1
2	Je pars de Remich, je parcours 20 km vers le nord-est. Dans le canton de quelle ville vais-je arriver ?	Grevenmacher	2
3	Cite la ville au sud-est de Luxembourg la capitale ?	Remich	3
4	Si je suis à Redange et que je parcours 45 km vers le nord-est, dans quelle ville vais-je arriver ?	Wiltz	4
5	Je suis à Wiltz, je parcours 25 km vers l'est, dans quel pays vais-je arriver ?	l'Allemagne	5
6	Combien de kilomètres dois-je parcourir pour aller de Mersch à Capellen ?	23 km environ	6
7	Je pars de la ville de Luxembourg, je parcours 15 km vers le sud-est. Dans le canton de quelle ville vais-je arriver ?	Remich	7
8	Combien de kilomètres dois-je parcourir pour aller de Redange à la ville de Luxembourg ?	50 km	8
9	Combien de kilomètres séparent le point le plus au nord du point le plus au sud du Grand-Duché de Luxembourg ?	150 km environ	9
10	Si je suis à Luxembourg-Ville et que je parcours 45 km vers le nord-est. Dans quelle ville vais-je arriver ?	Grevenmacher	10
11	Quelle distance sépare Clervaux de Wiltz ?	15 km environ	11
12	Combien de kilomètres dois-je parcourir pour aller de Capellen à Grevenmacher ?	55 km environ	12
13	Cite la ville au nord-est de Wiltz ?	Clervaux	13
14	Je suis à Clervaux, je parcours 80 km vers le sud-est, quelle est ma destination ?	l'Allemagne	14
15	Je pars de Vianden, je parcours 20 km vers le sud-est. Dans le canton de quelle ville vais-je arriver ?	Echternach	15
16	Si je suis à Differdange et que je parcours 66 km vers l'est, dans quelle ville vais-je arriver ?	Remich	16



niv.3 : Réponds à la question sur les 8 directions cardinales et les distances/échelles.



	Questions	Solutions	
17	Combien de kilomètres dois-je parcourir pour aller de Diekirch à Echternach ?	35 km environ	17
18	Cite la plus grande ville au sud-ouest de Capellen ?	Esch-sur-Alzette	18
19	Si je suis à Vianden et que je parcours 15 km vers le sud-ouest, dans quelle ville vais-je arriver ?	Diekirch	19
20	Je suis à Capellen, j'ai parcouru 20 km pour arriver dans un pays voisin. Quelle direction ai-je prise ?	l'ouest	20
21	Si je suis à Grevenmacher et que je parcours 27 km vers le nord, dans quelle ville vais-je arriver ?	Echternach	21
22	Je pars de Vianden, je parcours 35 km vers le nord-ouest. Dans le canton de quelle ville vais-je arriver ?	Clervaux	22
23	Cite la ville au nord-est de Diekirch ?	Vianden	23
24	Si je suis à Rumelange et que je parcours 5 km vers le nord-est, dans quelle ville vais-je arriver ?	Dudelange	24
25	Quelle distance sépare la ville de Luxembourg de Capellen ?	15 km environ	25
26	Cite les trois villes de la carte au nord de la Sûre ?	Clervaux, Wiltz et Vianden	26
27	Je démarre de Redange, je vais visiter la ville de Luxembourg puis je me rends à Grevenmacher vers le nord-est. Quelle distance ai-je parcourue ?	93 km environ	27
28	Je pars de Mersch, je parcours 40 km vers le nord-est. Dans le canton de quelle ville vais-je arriver ?	Echternach	28
29	Quelle distance sépare Differdange de Dudelange ?	25 km environ	29
30	Je démarre de Rumelange, je me dirige vers le nord pour atteindre Wiltz puis je me rends à Vianden vers le sud-est. Quelle distance ai-je parcourue ?	133 km environ	30



Carte des arrondissements et des lieux remarquables de Paris.



niv.1 : Réponds à la question sur les 4 directions cardinales.



	Questions	Solutions	
1	Le Parc de la Villette se situe à/au ☹ du cimetière Père-Lachaise.	nord	1
2	L'arrondissement dans lequel se trouve la Tour Eiffel est au/à ☹ de Notre-Dame de Paris.	l'ouest	2
3	Quel arrondissement se trouve au nord de l'Arc de Triomphe ?	le 17 ^e	3
4	Quel arrondissement se trouve le plus à l'ouest de Paris ?	le 16 ^e	4
5	Cite un lieu remarquable à l'est du Sacré-Cœur.	Le Parc de la Villette	5
6	Quel arrondissement se trouve au sud de la Tour Eiffel ?	le 15 ^e	6
7	Quel est l'arrondissement le plus au centre de Paris ?	le 1 ^{er}	7
8	Si je suis à Notre-Dame et que je veux aller voir la Bastille, je dois me diriger vers ☹.	l'est	8
9	Quel arrondissement se situe au sud du 19 ^e ?	le 20 ^e	9
10	Quel arrondissement au nord du 12 ^e ne comprend pas de monument sur la carte ?	le 11 ^e	10
11	Si je suis au musée du Louvre et que je veux aller écouter un opéra, dans quelle direction dois-je aller ?	nord	11
12	Quel est le lieu remarquable le plus à l'est de Paris ?	Le cimetière du Père-Lachaise	12
13	Cite un arrondissement au sud de la Seine.	5 ^e , 6 ^e , 7 ^e , 13 ^e 14 ^e ou 15 ^e	13
14	Au nord de quel arrondissement se trouve le Sacré-Cœur ?	le 9 ^e	14
15	La Bastille se trouve à/au ☹ du 11 ^e arrondissement.	sud	15
16	Quel arrondissement se situe à l'ouest de la Tour Eiffel ?	le 16 ^e	16
17	Le musée du Louvre se situe à/au ☹ du cimetière du Père-Lachaise.	l'ouest	17
18	La Bastille se situe à/au ☹ du Parc des Princes ?	l'est	18
19	Quel monument se trouve à l'ouest de la Tour Montparnasse ?	Le Parc des Princes	19
20	Si je suis à Tour Eiffel et que je veux aller à Notre-Dame, je me dirige vers ☹.	l'est	20



niv.1 : Réponds à la question sur les 4 directions cardinales.



	Questions	Solutions	
21	Je me trouve à la Tour Montparnasse et je me dirige vers le Nord, quel arrondissement vais-je atteindre en premier ?	le 6 ^e	21
22	Le 5 ^e arrondissement se situe à/au ☹ du 18 ^e arrondissement.	sud	22
23	Quels sont les trois arrondissements les plus au nord de Paris ?	17 ^e , 18 ^e , 19 ^e	23
24	Quel monument se situe à l'est du 16 ^e ?	la Tour Eiffel	24
25	Notre-Dame de Paris se situe à/au ☹ de la Bastille.	l'ouest	25
26	Cite un lieu remarquable au nord de l'opéra Garnier.	Le Sacré-Coeur ou le Parc de la Villette	26
27	Quels sont les arrondissements, sans lieu remarquable, à l'est du 15 ^e ?	le 6 ^e et le 14 ^e	27
28	Quels sont les quatre arrondissements les plus à l'est de Paris ?	11 ^e , 12 ^e , 19 ^e , 20 ^e	28
29	Quel monument se trouve au sud du 2 ^e arrondissement ?	le musée du Louvre	29
30	Si je suis au Parc des Princes et que je veux aller à la Tour Montparnasse, je me dirige vers ☹ .	l'est	30
31	Je me trouve au Parc de la Villette et je veux aller dans le 17 ^e , dans quelle direction dois-je marcher ?	ouest	31
32	Je suis dans le 13 ^e arrondissement et je souhaite visiter le Sacré-Cœur. Quelle direction dois-je prendre ?	nord	32
33	L'Arc de Triomphe se situe à/au ☹ du 10 ^e arrondissement.	l'ouest	33
34	Quels sont les quatre arrondissements les plus au sud de Paris ?	12 ^e , 13 ^e , 14 ^e , 15 ^e	34
35	Le Musée du Louvre se situe à/au ☹ de l'Opéra Garnier.	sud	35
36	Quel monument se situe au sud de l'Arc de Triomphe ?	la Tour Eiffel	36
37	Le 4 ^e arrondissement se situe à/au ☹ du 16 ^e arrondissement.	l'est	37
38	Si je suis dans le Parc de la Villette et que je souhaite visiter le Sacré-Cœur, je dois me diriger vers ☹ .	l'ouest	38
39	L'Arc de Triomphe se situe à/au ☹ du 15 ^e arrondissement.	nord	39



niv.2 : Réponds à la question sur les 8 directions cardinales.



	Questions	Solutions	
1	Le Sacré-Coeur se situe à/au ☹ du cimetière Père-Lachaise.	nord-ouest	1
2	La Tour Eiffel est au/à ☹ du Parc des Princes.	nord-est	2
3	Quel arrondissement se trouve au nord-est de l'Arc de Triomphe ?	le 18 ^e	3
4	Je suis au musée du Louvre et je veux assister à un match au Parc des Princes, dans quelle direction dois-je aller ?	le sud-ouest	4
5	Quel arrondissement se trouve le plus au sud-ouest de Paris ?	le 16 ^e	5
6	La Bastille se situe à/au ☹ du Sacré-Cœur.	sud-est	6
7	Quel arrondissement se trouve au sud-ouest de la Bastille ?	le 13 ^e	7
8	Quel est l'arrondissement le plus au nord-ouest de Paris ?	le 17 ^e	8
9	Je suis à Notre-Dame et je souhaite visiter la Tour Montparnasse, je dois me diriger vers le/l' ☹ .	sud-ouest	9
10	Quel arrondissement se situe au sud-ouest du 19 ^e ?	le 10 ^e	10
11	Par rapport au 13 ^e arrondissement, où se situe le 8 ^e ?	au nord-ouest	11
12	Où se situe le cimetière du Père-Lachaise par rapport au 10 ^e arrondissement ?	au sud-est	12
13	Quel est le lieu remarquable le plus au nord-est de Paris ?	Le Parc de la Villette	13
14	Quels sont les arrondissements impairs situés au sud de la Seine ?	le 5 ^e , le 7 ^e , le 13 ^e et le 15 ^e	14
15	Au nord-est de quel arrondissement se trouve le Sacré-Cœur ?	le 8 ^e	15
16	Par rapport au 10 ^e arrondissement, où se situe le 15 ^e ?	au sud-ouest	16
17	Quel arrondissement se situe au nord-est de la Tour Eiffel ?	le 1 ^{er}	17
18	Le musée du Louvre se situe à/au ☹ de l'Arc de Triomphe.	sud-est	18
19	Quel lieu remarquable se trouve au nord-est de l'Opéra Garnier ?	le Parc de la Villette	19
20	Je suis à Notre-Dame et je veux aller au musée du Louvre, je me dirige vers ☹ .	le nord-ouest	20



niv.2 : Réponds à la question sur les 8 directions cardinales.



	Questions	Solutions	
21	Je pars de la Tour Eiffel et je marche vers le sud-ouest, vers quel monument vais-je ?	le Parc des Princes	21
22	Je suis à Notre-Dame et je souhaite me promener dans le Parc de la Villette. Pour m'y rendre, je dois me diriger vers ☁ .	le nord-est	22
23	Quel est l'arrondissement le plus au nord-est de Paris ?	le 19 ^e	23
24	Quels sont les arrondissements au sud-est de Paris ?	le 12 ^e et le 13 ^e	24
25	Notre-Dame de Paris se situe à/au ☁ de la Tour Montparnasse.	nord-est	25
26	Cite un lieu remarquable au nord-est de l'opéra Garnier.	le Parc de la Villette	26
27	Quel arrondissement sans monument est au sud-est de Paris ?	le 13 ^e	27
28	Cite les deux arrondissements les plus au sud-ouest de Paris ?	les 15 ^e et 16 ^e	28
29	Quel lieu remarquable se trouve à l'est du 11 ^e arrondissement ?	le cimetière du Père-Lachaise	29
30	Quel monument se situe au nord-est du 16 ^e ?	l'Arc de Triomphe	30
31	Par rapport au 8 ^e arrondissement, où se situe le 12 ^e ?	au sud-est	31
32	Partant de la Tour Eiffel, j'embarque à bord d'un bateau sur la Seine et navigue vers l'est. Quel est le premier monument que je vais rencontrer ?	Le musée du Louvre	32
33	Quels sont les deux arrondissements à l'est de celui de la Tour Montparnasse ?	6 ^e et 14 ^e	33
34	Partant du 1 ^{er} arrondissement, quelles directions dois-je successivement prendre pour traverser le 2 ^e , puis le 3 ^e puis le 4 ^e ?	nord, puis est, puis sud	34
35	Partant du Sacré-Cœur, par quelle direction puis-je sortir au plus vite de Paris ?	nord	35
36	Par rapport au 15 ^e arrondissement, où se situe le 19 ^e ?	au nord-est	36
37	Je suis tout au sud du 15 ^e arrondissement. Je marche droit vers l'est. Quels arrondissements vais-je traverser pour atteindre le sud de la Seine ?	le 14 ^e puis le 13 ^e .	37



niv.3 : Réponds à la question sur les 8 directions cardinales et les distances/échelles.



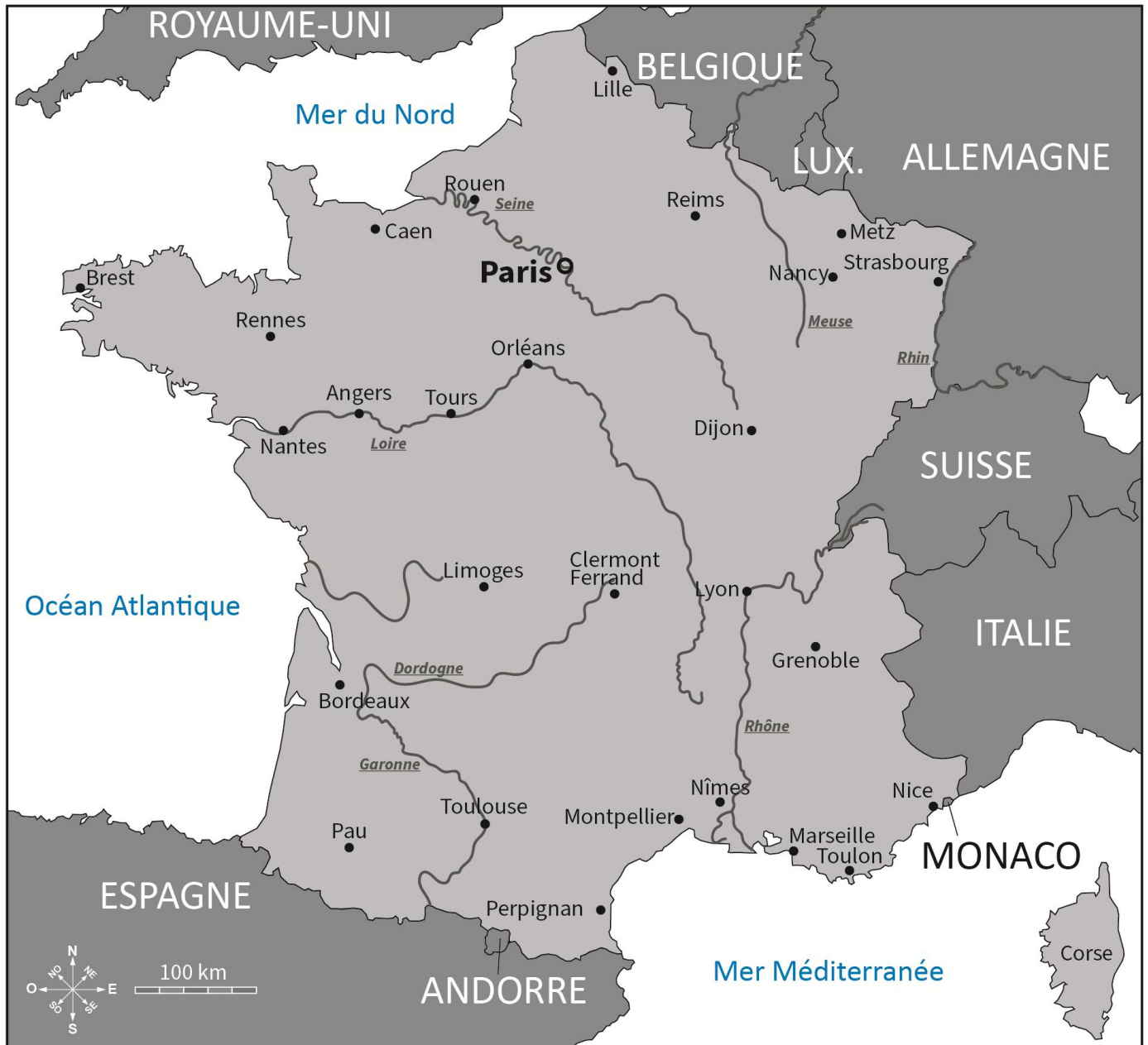
	Questions	Solutions	
1	Quelle est la distance entre le Sacré-Cœur et le Parc de la Villette ?	3,3 km	1
2	Je suis à l'Opéra Garnier et je marche 4,6 km vers l'est, à quel lieu remarquable vais-je arriver ?	Le cimetière du Père-Lachaise	2
3	Je suis au Sacré-Cœur, je marche 3,5 km vers le sud. Dans quel arrondissement vais-je arriver ?	Le 4 ^e	3
4	Je suis à la Tour Eiffel, je marche 3,2 km vers le nord-est, à quel monument vais-je arriver ?	l'Opéra Garnier	4
5	Je suis à l'Opéra Garnier, si je marche 2,4 km vers le sud-est. Que vais-je aller visiter ?	Notre-Dame	5
6	Je suis au cimetière du Père-Lachaise, je veux aller au Parc de la Villette, quelle direction dois-je prendre ?	nord-ouest	6
7	Je suis au cimetière du Père-Lachaise, je veux aller au Parc de la Villette, combien de kilomètres vais-je parcourir ?	3,6 km environ	7
8	Je suis au Sacré-Cœur, je parcours 6 km vers le sud, dans quel arrondissement vais-je arriver ?	le 13 ^e	8
9	Je suis au Parc des Princes, je parcours 3 km vers l'est, dans quel arrondissement vais-je arriver ?	le 15 ^e	9
10	Je suis au point le plus au sud de Paris, je veux aller au Sacré-Cœur, combien de kilomètres vais-je marcher ?	7,8 km environ	10
11	Combien de kilomètres séparent le point le plus à l'est de celui le plus à l'ouest de Paris ?	12,2 km environ	11
12	Quelle distance y a-t-il entre le point le plus au sud du 7 ^e arrondissement et la Tour Montparnasse ?	1,2 km	12
13	Je suis à la Tour Eiffel, je parcours 3,5 km vers le sud-ouest. Puis-je visiter un monument ?	Non	13
14	Je suis au musée du Louvres, je parcours 1,3 km environ vers le nord, où vais-je arriver ?	à l'Opéra Garnier	14
15	Quelle distance sépare l'Arc de Triomphe du cimetière du Père-Lachaise ?	7,2 km environ	15
16	Quelle distance y a-t-il entre le point le plus à l'est du point le plus à l'ouest du 15 ^e arrondissement de Paris ?	4,5 km	16



niv.3 : Réponds à la question sur les 8 directions cardinales et les distances/échelles.



	Questions	Solutions	
17	Je pars de la Bastille, je marche 4,8 km vers le nord. Dans quel arrondissement vais-je arriver ?	le 19 ^e	17
18	Je pars de la Tour Montparnasse, je marche 6 km vers le sud-est. Dans quel arrondissement vais-je arriver ?	le 13 ^e	18
19	Je suis au cimetière du Père-Lachaise, je parcours 3 km vers le sud. Quel monument se trouve dans l'arrondissement où j'arrive ?	la Bastille	19
20	Quelle direction vais-je prendre pour aller de l'Opéra Garnier à la Tour Montparnasse ?	le sud-ouest	20
21	Je suis au cimetière à l'Arc de Triomphe, je parcours 4,1 km vers le nord-est. Quel monument puis-je visiter ?	le Sacré-Cœur	21
22	Je suis au musée du Louvre, pour arriver vers l'Opéra Garnier, quelle direction ai-je emprunté ?	le nord	22
23	Je suis à l'Opéra Garnier, je parcours 3 km vers le nord. Quel monument se trouve dans l'arrondissement dans lequel j'arrive ?	le Sacré-Cœur	23
24	Cite un monument au sud-ouest de la Tour Eiffel ?	le Parc des Princes	24
25	Je suis à l'Arc de Triomphe, je parcours 5 km pour aller au Parc des Prince, quelle direction ai-je empruntée ?	le sud-ouest	25
26	Je pars de la Tour Eiffel, je marche 4,2 km vers le sud-est. À quel monument vais-je arriver ?	Notre-Dame de Paris	26
27	Quelle distance ai-je parcourue pour aller de l'Opéra Garnier à la Tour Montparnasse ?	3,4 km	27
28	Combien de kilomètres séparent le musée du Louvre et la Bastille ?	2,4 km	28
29	Je pars du Parc de la Villette, je marche 6 km vers l'ouest. Dans quel arrondissement vais-je arriver ?	le 17 ^e	29
30	Je démarre du Parc de la Villette, je me dirige vers l'ouest pour atteindre le Sacré-Cœur puis je me rends à Notre-Dame vers le sud. Quelle distance ai-je parcourue ?	7,3 km	30



Carte des villes et des fleuves principaux de France.



niv.1 : Réponds à la question sur les 4 directions cardinales.



	Questions	Solutions	
1	Marseille se trouve à/au ☹ de Grenoble.	sud	1
2	Lyon se situe à/au ☹ de Nîmes.	nord	2
3	Où se situe Toulouse par rapport à Limoges ?	au sud	3
4	Pau se situe à/au ☹ de Toulouse.	l'ouest	4
5	Clermont-Ferrand est à l'est de ☹.	Limoges	5
6	Dijon est à/au ☹ de la Suisse.	l'ouest	6
7	Reims se situe à/au ☹ de Dijon.	nord	7
8	Nancy est à/au ☹ de Strasbourg.	l'ouest	8
9	Je pars de Brest, je marche vers l'est. Quelle est la 1ere ville que je vais rencontrer ?	Rennes	9
10	Lyon est à/au ☹ de Clermont-Ferrand.	l'est	10
11	Perpignan est à/au ☹ de Clermont-Ferrand.	sud	11
12	Quelle mer est au sud de la France ?	la Méditerranée	12
13	Dijon est à/au ☹ de Montpellier.	nord	13
14	Grenoble est à/au ☹ de Bordeaux.	l'est	14
15	Nice est à/au ☹ de Nîmes.	l'est	15
16	Pau est à/au ☹ de Toulon.	l'ouest	16
17	Quel océan est à l'ouest de la France ?	l'océan Atlantique	17
18	Caen est à/au ☹ de Metz.	l'ouest	18
19	Nantes est à/au ☹ de Dijon.	l'ouest	19
20	Quelle mer se situe au nord de Caen ?	la mer du Nord	20
21	L'Italie est à/au ☹ de Grenoble.	l'est	21
22	Limoges est à/au ☹ de l'océan Atlantique.	l'est	22
23	Angers est à/au ☹ de Tours.	l'ouest	23



niv.1 : Réponds à la question sur les 4 directions cardinales.



Questions		Solutions	
24	Je suis à Limoges et je veux me rendre à Lyon. Dans quelle direction dois-je aller ?	est	24
25	Par rapport à Monaco, où se situe la Suisse ?	au nord	25
26	Caen est à/au ☹ de Bordeaux.	nord	26
27	Toulouse est à/au ☹ de Paris.	sud	27
28	Je pars de Paris vers le sud. Quelle sera la 1 ^{ère} ville que je vais rencontrer ?	Orléans	28
29	Reims est à/au ☹ de la Belgique.	sud	29
30	Sur la carte, quelle est la ville de France la plus à l'ouest ?	Brest	30
31	Par rapport à Pau, où se situe Bordeaux ?	au nord	31
32	Monaco est à/au ☹ de Toulouse.	l'est	32
33	Où se situe la Corse par rapport à l'Italie ?	au sud	33
34	Partant de Nîmes, dans quelle direction dois-je rouler pour me rendre à Reims ?	nord	34
35	Montpellier est à/au ☹ de Nice.	l'ouest	35
36	Le Grand-Duché de Luxembourg est à/au ☹ de Nancy.	nord	36
37	Partant de Clermont-Ferrand, je roule vers l'ouest. Quelle sera la 1 ^{ère} ville que je vais rencontrer ?	Limoges	37
38	Où se situe Nantes par rapport à Rennes ?	au sud	38
39	Rennes est à/au ☹ de Strasbourg.	l'ouest	39
40	Où se situe la principauté d'Andorre par rapport à Paris ?	au sud	40
41	Rouen se situe à/au ☹ de Reims.	l'ouest	41
42	Où se trouve l'Allemagne par rapport à Lille ?	à l'est	42
43	Tours se situe à/au ☹ de Rouen.	au sud	43
44	Où se trouve Perpignan par rapport à la Corse ?	à l'ouest	44



niv.2 : Réponds à la question sur les 8 directions cardinales.



	Questions	Solutions	
1	La Suisse est à/au ☞ de Paris.	sud-est	1
2	Caen se situe à/au ☞ de Grenoble.	nord-ouest	2
3	La mer Méditerranée est à/au ☞ de Rennes.	sud-est	3
4	Nantes est à/au ☞ de la Corse.	nord-ouest	4
5	La Seine prend son embouchure à/au ☞ de la France.	nord-ouest	5
6	Brest se situe à/au ☞ de Toulon.	nord-ouest	6
7	Monaco est à/au ☞ de Brest.	sud-est	7
8	Pau se situe à/au ☞ de la Suisse.	sud-ouest	8
9	Je suis à Strasbourg, dans quelle direction dois-je aller pour me rendre à Pau ?	au sud-ouest	9
10	Tours se situe à/au ☞ de Marseille.	nord-ouest	10
11	Metz est à/au ☞ de l'embouchure de la Garonne.	nord-est	11
12	Toulouse est à/au ☞ de la mer du Nord.	sud	12
13	Lyon est à/au ☞ de Limoges.	l'est	13
14	La Loire prend son embouchure à/au ☞ de la France.	nord-ouest	14
15	Grenoble se situe à/au ☞ de Pau.	nord-est	15
16	Angers est à/au ☞ de Nice.	nord-est	16
17	L'embouchure de la Garonne est à/au ☞ de Strasbourg.	sud-ouest	17
18	L'Espagne est à/au ☞ de l'Allemagne.	sud-ouest	18
19	Perpignan se situe à/au ☞ de Brest.	sud-est	19
20	Metz se situe à/au ☞ Nantes.	nord-est	20
21	Les embouchures du Rhône sont à/au ☞ de Strasbourg.	sud-ouest	21
22	La source de la Loire se situe à/au ☞ de Perpignan.	nord-est	22



niv.2 : Réponds à la question sur les 8 directions cardinales.



	Questions	Solutions	
23	Dijon se situe à/au ☞ de Rennes.	sud-est	23
22	La Corse se situe à/au ☞ de Paris.	sud-est	22
23	Orléans se situe à/au ☞ de la Belgique.	sud-ouest	23
24	Nice se situe à/au ☞ de la source de la Seine.	sud-est	24
25	La Belgique se situe à/au ☞ de Toulouse.	nord-est	25
26	Les embouchures du Rhône se situent à/au ☞ de Paris.	sud-est	26
27	L'Italie se situe à/au ☞ de Nantes.	sud-est	27
28	La Corse se situe à/au ☞ de l'Allemagne.	sud	28
29	Les embouchures du Rhône sont à/au ☞ de Reims.	sud	29
30	Montpellier est à/au ☞ de Rennes.	sud-est	30
31	La source de la Seine est à/au ☞ de Brest.	sud-est	31
32	Bordeaux se situe à/au ☞ de la Belgique.	sud-ouest	32
33	Nantes se situe à/au ☞ de Perpignan.	nord-ouest	33
34	L'embouchure de la Seine est à/au ☞ des embouchures du Rhône.	nord-ouest	34
35	Angers se situe à/au ☞ de Nice.	nord-ouest	35
36	Paris se situe à/au ☞ de la source de la Seine.	nord-ouest	36
37	Montpellier est à/au ☞ de Strasbourg.	sud-ouest	37
38	Nice est à/au ☞ de Caen.	sud-est	38
39	Limoges est à/au ☞ de Nîmes.	nord-est	39
40	Dijon est à/au ☞ de Nantes.	l'ouest	40
41	Pau est à/au ☞ de Grenoble.	sud-ouest	41



niv. 3 : Réponds à la question sur les 8 directions cardinales et les distances échelles.



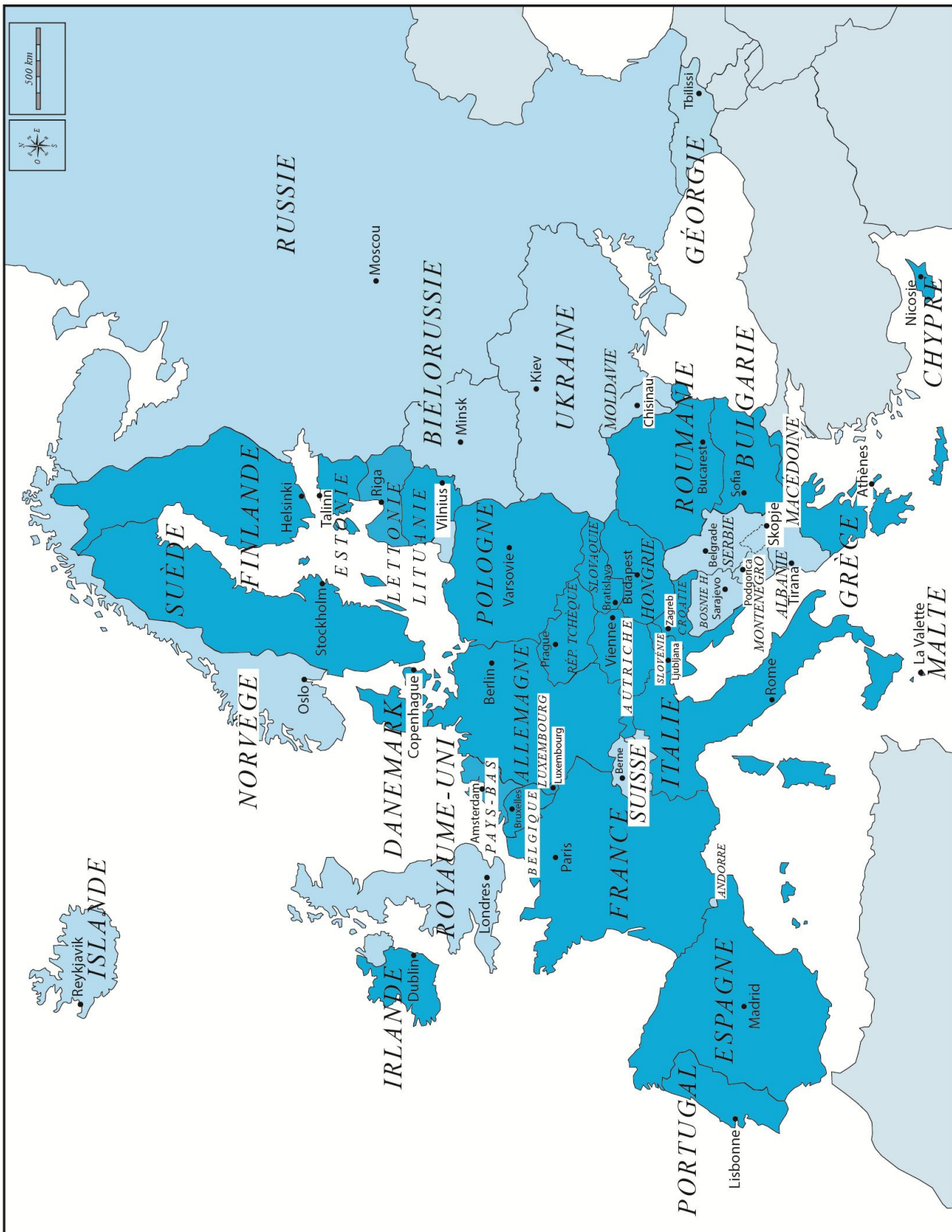
	Questions	Solutions	
1	Paris se trouve à ☹ km à vol d'oiseau de Metz.	240 km	1
2	Quelles sont les villes situées à moins de 100 km de Nantes sur la carte ?	Angers et Rennes	2
3	Dijon se trouve à ☹ km à vol d'oiseau de Clermont-Ferrand.	180 km	3
4	Rennes se trouve à ☹ km à vol d'oiseau de Bordeaux.	280 km	4
5	Dijon se trouve à ☹ km à vol d'oiseau de Lyon.	140 km	5
6	Limoges se trouve à ☹ km à vol d'oiseau de Pau.	240 km	6
7	Nice se trouve à ☹ km à vol d'oiseau de Lyon.	240 km	7
8	Metz se trouve à ☹ km à vol d'oiseau de Dijon.	180 km	8
9	Grenoble se trouve à ☹ km à vol d'oiseau de Clermont-Ferrand.	180 km	9
10	Angers se trouve à ☹ km à vol d'oiseau de Reims.	320 km	10
11	Tours se trouve à ☹ km à vol d'oiseau d'Orléans.	70 km	11
12	Rouen se trouve à ☹ km à vol d'oiseau de Caen.	80 km	12
13	Strasbourg se trouve à ☹ km à vol d'oiseau de Lille.	330 km	13
14	Lille se trouve à ☹ km à vol d'oiseau de Nice.	650 km	14
15	Pau se trouve à ☹ km à vol d'oiseau de Nantes.	340 km	15
16	Rennes se trouve à ☹ km à vol d'oiseau de Brest.	160 km	16
17	Metz se trouve à ☹ km à vol d'oiseau de Grenoble.	350 km	17
18	Perpignan se trouve à ☹ km à vol d'oiseau de Clermont-Ferrand.	265 km	18
19	Tours se trouve à ☹ km à vol d'oiseau de Dijon.	260 km	19
20	Orléans se trouve à ☹ km à vol d'oiseau de Caen.	170 km	20
21	Nancy se trouve à ☹ km à vol d'oiseau de Marseille.	490 km	21
22	Strasbourg se trouve à ☹ km à vol d'oiseau de Montpellier.	500 km	22



niv. 3 : Réponds à la question sur les 8 directions cardinales et les distances échelles.



	Questions	Solutions	
23	Limoges se trouve à <input type="text"/> km à vol d'oiseau de Clermont-Ferrand.	110 km	23
24	Dijon se trouve à <input type="text"/> km à vol d'oiseau de Rouen.	300 km	24
25	Brest se trouve à <input type="text"/> km à vol d'oiseau de Nice.	840 km	25
26	Angers se trouve à <input type="text"/> km à vol d'oiseau de Marseille.	500 km	26
27	Toulouse se trouve à <input type="text"/> km à vol d'oiseau de Bordeaux.	170 km	27
28	Strasbourg se trouve à <input type="text"/> km à vol d'oiseau de Perpignan.	580 km	28
29	Nantes se trouve à <input type="text"/> km à vol d'oiseau de Lille.	410 km	29
30	Caen se trouve à <input type="text"/> km à vol d'oiseau de Lyon.	420 km	30
31	Bordeaux se trouve à <input type="text"/> km à vol d'oiseau de Paris.	400 km	31
32	Nice se trouve à <input type="text"/> km à vol d'oiseau de Toulouse.	380 km	32
33	Marseille se trouve à <input type="text"/> km à vol d'oiseau de Brest.	730 km	33
34	Grenoble se trouve à <input type="text"/> km à vol d'oiseau de Paris.	380 km	34
35	Rennes se trouve à <input type="text"/> km à vol d'oiseau de Marseille.	590 km	35
36	Strasbourg se trouve à <input type="text"/> km à vol d'oiseau de Nantes.	540 km	36
37	Toulon se trouve à <input type="text"/> km à vol d'oiseau de Montpellier.	150 km	37
38	Paris se trouve à <input type="text"/> km à vol d'oiseau de Toulouse.	460 km	38
39	Paris se trouve à <input type="text"/> km à vol d'oiseau de Brest.	400 km	39
40	Orléans se trouve à <input type="text"/> km à vol d'oiseau de Caen.	170 km	40



Carte des pays de l'Europe géographique et de leurs capitales



niv.1 : Réponds à la question sur les 4 directions cardinales.



	Questions	Solutions	
1	La Belgique se situe à/au ☹ de la France.	nord	1
2	L'Allemagne se situe à/au ☹ de la Belgique.	l'est	2
3	Quel pays limitrophe est situé à l'est du Portugal ?	l'Espagne	3
4	Quel est le pays limitrophe situé au nord de la Belgique ?	Pays-Bas	4
5	Quel pays est situé à l'ouest de la Pologne ?	l'Allemagne	5
6	La Suisse se situe à/au ☹ de l'Italie.	nord	6
7	La Pologne se situe à/au ☹ de la Finlande.	sud	7
8	Quel est le nom du pays qui a la forme d'une botte ?	l'Italie	8
9	Quel est le pays limitrophe situé à l'est de la Norvège ?	la Suède	9
10	Quel est le pays limitrophe situé au nord de l'Allemagne ?	le Danemark	10
11	Quel pays se situe au nord de l'Espagne et au sud de la France ?	Andorre	11
12	L'Irlande se trouve à/au ☹ des Royaume-Unis.	l'ouest	12
13	La Suède est à/au ☹ de l'Autriche.	nord	13
14	Je suis en Bulgarie, dans quelle direction dois-je aller pour aller en Grèce ?	au sud	14
15	La Suisse est à/au ☹ du Luxembourg.	sud	15
16	Je suis en Grèce et je vais en Pologne, quelle direction vais-je prendre ?	le nord	16
17	Quel pays est le plus à l'ouest en Europe ?	le Portugal	17
18	La Lettonie se situe à/au ☹ de la Finlande.	sud	18
19	Quel pays se situe au nord de la Slovénie ?	l'Autriche	19
20	La Hongrie est à/au ☹ de la Slovaquie.	sud	20
21	L'Allemagne est à/au ☹ de l'Italie.	nord	21



niv.1 : Réponds à la question sur les 4 directions cardinales.



	Questions	Solutions	
23	Je suis en France et je vais vers le nord à pied, dans quel pays vais-je arriver ?	en Belgique	23
22	Mon avion décolle depuis la Bulgarie et va en Lituanie, dans quelle direction va mon avion ?	nord	22
23	Le pays limitrophe de l'Allemagne qui est le plus au nord est ☹.	le Danemark	23
24	La Norvège se situe à/au ☹ de la Finlande.	l'ouest	24
25	L'Espagne est à/au ☹ du Portugal.	l'est	25
26	Les Pays-Bas sont à/au ☹ de la Pologne.	l'ouest	26
27	Quel pays se situe au nord de l'Estonie ?	la Finlande	27
28	L'Autriche est à/au ☹ de l'Allemagne.	sud	28
29	Quelle île est à l'ouest du Royaume-Uni ?	l'Irlande	29
30	Partant de Vienne, je marche vers l'est. Dans quel pays j'arrive en premier ?	la Slovaquie	30
31	Partant de Moscou, je roule vers l'ouest. Quelle ville se trouve sur mon chemin ?	Riga	31
32	Quel pays est au sud de Berne ?	l'Italie	32
33	Partant de Sarajevo, je roule vers Sofia. Dans quelle direction dois-je aller ?	est	33
34	Partant du port de Tirana, je navigue vers l'ouest. Dans quel pays j'accoste ?	l'Italie	34
35	Dans quelle direction dois-je rouler en partant de Prague pour atteindre la frontière entre la Pologne et l'Allemagne ?	nord	35
36	Quelle est la capitale au sud de la frontière belgo-allemande ?	Luxembourg	36
37	Partant de Vienne, pour m'éloigner de Bratislava, je dois marcher dans quelle direction ?	ouest	37
38	L'Irlande est à/au ☹ de l'Islande.	sud	38
39	La Hongrie est à/au ☹ de l'Autriche.	l'est	39



niv.2 : Réponds à la question sur les 8 directions cardinales.



	Questions	Solutions	
1	Cite un pays au nord-ouest du Royaume-Uni.	l'Islande	1
2	Cite un pays au sud-ouest de la France.	l'Espagne ou le Portugal	2
3	Où se situe l'Ukraine par rapport à la Suède ?	au sud-est	3
4	Quel pays se situe directement au sud-est de la Hongrie.	la Roumanie	4
5	Par rapport à l'Allemagne, où se trouve l'Estonie.	au nord-est	5
6	L'Allemagne se situe à/au ☹ de la Bulgarie.	nord-ouest	6
7	La Lituanie se situe à/au ☹ de la Suède.	sud-est	7
8	L'Islande se situe à/au ☹ de la Géorgie.	nord-ouest	8
9	La Belgique se situe à/au ☹ du Danemark.	sud-ouest	9
10	Dublin, la capitale de l'Irlande, se situe du côté ☹ de l'île.	est	10
11	Je prends mon petit bateau à Stockholm et je vais vers le nord-est, dans quel pays vais-je arriver ?	Finlande	11
12	Cite le pays qui se trouve à l'ouest de l'Espagne.	Portugal	12
13	Andorre est au/à ☹ de la France.	sud-ouest (ou sud)	13
14	Mon avion part d'Oslo et va à Bucarest. Dans quelle direction va-t-il ?	sud-est	14
15	Les Pays-Bas font partie de l'Europe de l'☹.	ouest	15
16	La Hongrie se trouve à/au ☹ de la Bulgarie.	nord-ouest	16
17	Je vis à Paris et je passe mes vacances à Amsterdam, je vais vers le ☹.	nord-est	17
18	Depuis Athènes, je dois aller vers le ☹ pour rejoindre Madrid.	nord-ouest	18
19	Vienne se trouve à/au ☹ de la Belgique.	sud-est	19
20	L'Ukraine se situe à/au ☹ de la Croatie.	nord-est	20



niv.2 : Réponds à la question sur les 8 directions cardinales.



Questions		Solutions	
21	Quelle capitale est au sud-est de Berne, la capitale de la Suisse ?	Rome	21
22	La Biélorussie se trouve à/au ☹ de la Lettonie.	sud-est	22
23	La Norvège fait partie de l'Europe du ☹ ?	nord	23
22	Cite un pays frontalier au sud-ouest de la France.	Andorre ou Espagne	22
23	Londres se trouve à/au ☹ de Dublin.	sud-est	23
24	La Slovénie est à/au ☹ de la Serbie.	nord-ouest	24
25	Cite le pays frontalier au nord-est de l'Italie.	l'Autriche	25
26	Berlin se trouve à/au ☹ de l'Allemagne.	nord-est	26
27	Cite le pays frontalier au nord-ouest de la Grèce.	l'Albanie	27
28	Par rapport à l'Autriche, où se situe le Danemark ?	au nord-ouest	28
29	L'île de Chypre se situe à/au ☹ de l'Italie.	sud-est	29
30	Mon avion part de Londres et va à Andorre. Dans quelle direction va-t-il ?	sud	30
31	Quel pays se trouve au sud-ouest de la Grèce ?	Malte	31
32	L'Estonie se situe à/au ☹ de la Suisse.	nord-est	32
33	Cite un pays au nord-ouest de la Norvège.	l'Islande	33
34	Je vis à Copenhague et je passe mes vacances à Lisbonne, je vais vers le ☹.	sud-ouest	34
35	Par rapport à l'Espagne, où se situe la Pologne ?	nord-est	35
36	Le Portugal se situe à/au ☹ de la France.	sud-ouest	36
37	L'île de Malte se trouve à/au ☹ de l'île de Chypre.	l'ouest	37
38	Où se situe la Bulgarie par rapport à la Hongrie ?	au sud-est	38
39	Par rapport à la Russie, où se trouve la Pologne ?	au sud-ouest	39
40	Quelle direction mon avion prend-il pour aller de Paris à Helsinki ?	nord-est	40



niv.3 : Réponds à la question sur les 8 directions cardinales et les distances/échelles.



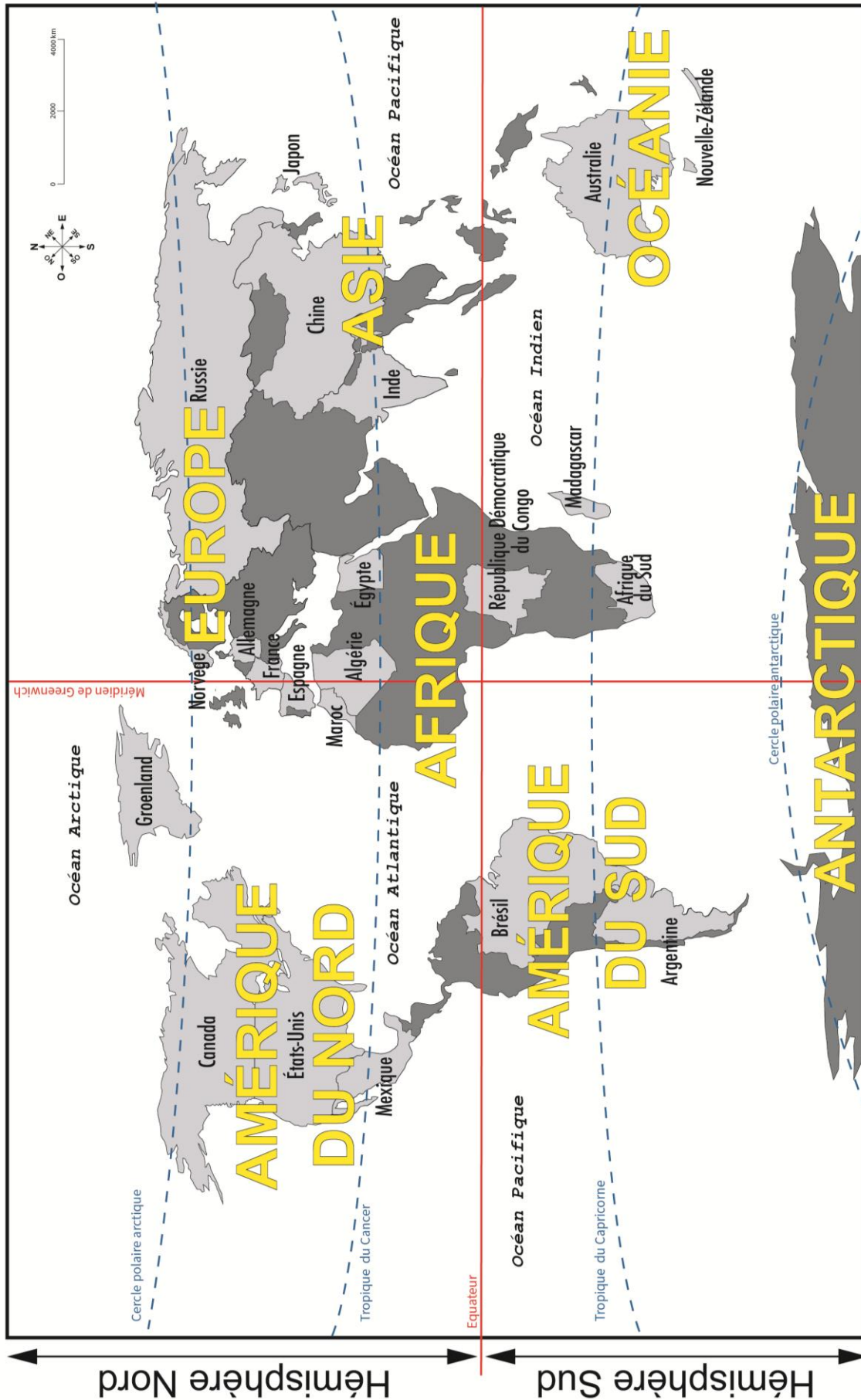
	Questions	Solutions	
1	La distance la plus courte entre la Belgique et la Suisse est ☹.	400 km	1
2	En partant de l'est du Portugal, je vole 1000 km vers l'est. Dans quel pays vais-je arriver ?	la France	2
3	Andorre se trouve à ☹ km à l'ouest de la Croatie.	1400 km	3
4	Quelle est la distance approximative à vol d'oiseau entre le Danemark et l'Autriche ?	1100 km	4
5	L'Islande se trouve à/au ☹ de l'Europe.	nord-ouest	5
6	Quel pays a sa frontière est à plus ou moins 300 km à l'ouest de l'Ukraine ?	République Tchèque	6
7	Cite le pays qui se situe à l'ouest de la Pologne.	l'Allemagne	7
8	L'Allemagne se situe à/au ☹ de l'Espagne.	nord-est	8
9	Bruxelles se trouve à 700 km au nord de ☹.	Berne	9
10	Combien de km séparent l'Estonie de la Lituanie ?	entre 200 et 250 km	10
11	150 km au sud de la Finlande on trouve ☹.	l'Estonie	11
12	La Moldavie se trouve à/au de ☹ l'Ukraine.	sud	12
13	L'Albanie se situe à/au ☹ de la ville de Chisinau.	sud-ouest	13
14	Je suis au Luxembourg et je fais 300 km vers le nord. Où vais-je arriver ?	Aux Pays-Bas	14
15	La Bulgarie se trouve à/au ☹ de l'Europe.	sud-est	15
16	Pour rejoindre le Portugal depuis Malte, je dois partir dans quelle direction en bateau ?	nord-ouest	16
17	La France est à/au ☹ de la Belgique.	sud-ouest	17
18	Entre l'Estonie et la Lituanie, il y a le/la ☹.	Lettonie	18
19	Andorre se trouve à 1400 km au sud de/du ☹.	Royaume-Uni	19
20	Quel pays se trouve à 900 km, au plus court, au sud de l'Estonie ?	Ukraine	20
21	La Géorgie se trouve à 1300 km à/au ☹ de la Roumanie.	l'est	21



niv.3 : Réponds à la question sur les 8 directions cardinales et les distances/échelles.



	Questions	Solutions	
22	Pour les vacances, j'aimerais aller à Madrid, dans le sud, depuis Belgique. Quelle est la distance à parcourir à vol d'oiseau ?	1800 km	22
23	Quelle est la distance à vol d'oiseau entre Dublin et Copenhague ?	1700 km	23
22	Le Luxembourg se trouve à ☹ km à l'ouest de la République Tchèque.	600 km	22
23	La Croatie se trouve à 350 km au sud de ☹.	La République Tchèque	23
24	Quel pays se trouve à la fois au nord et à l'ouest de la Bosnie-Herzégovine ?	Croatie	24
25	☹ se trouve à 2000 km à l'est de l'Allemagne.	Kiev	25
26	La Roumanie se situe à/au ☹ de la Moldavie.	l'ouest	26
27	Vienne se trouve à ☹ km au nord-ouest de Sofia.	1100 km	27
28	Nous allons faire de la contrebande à Andorre, nous sommes partis de l'ouest de la Suisse, combien de km va-t-on faire ?	800 km	28
29	Quelle est la distance à vol d'oiseau entre Reykjavik et Londres ?	2500 km	29
30	Chypre se trouve à/au ☹ de l'Europe.	sud-est	30
31	Bucarest se trouve à ☹ km de Belgrade.	600 km	31
32	Berlin se situe à/au ☹ de la Paris.	nord-est	32
33	Quelle ville la plus proche se trouve au nord-ouest de Londres ?	Dublin	33
34	☹ se trouve à 1800 km à l'est de Madrid.	Rome	34
35	Quel est le pays limitrophe au nord de la Géorgie ?	la Russie	35
36	Oslo se trouve à ☹ km de Helsinki.	1100 km	36
37	La Grèce se trouve à 2400 km au sud-est de la ville de ☹.	Paris	37
38	Quel pays est au sud de Rome ?	Malte	38
39	Le Monténégro se trouve à/au ☹ de la Belgique.	sud-est	39
40	☹ est à l'ouest de l'Espagne.	le Portugal	40



Carte des océans, continents et quelques pays du Monde.



niv.1 : Réponds à la question sur les 4 directions cardinales.



Questions		Solutions	
1	Le ☞ est la direction du pôle Nord et de l'étoile polaire.	nord	1
2	Le ☞ est la direction opposée du nord.	sud	2
3	Dans quelle direction se couche toujours le soleil ?	ouest	3
4	L'☞ est la direction dans laquelle le soleil se lève.	est	4
5	Le Tropique du Cancer se situe au ☞ du Tropique du Capricorne.	nord	5
6	Dans quel hémisphère se trouve le Tropique du Capricorne ?	l'hémisphère sud	6
7	Le continent africain se situe à/au ☞ du continent européen.	sud	7
8	Le continent européen se situe à/au ☞ du continent américain.	l'est	8
9	Quel océan retrouve-t-on à l'est de la Chine ?	l'océan Pacifique	9
10	Quel est l'océan qui se trouve au sud de l'Inde ?	l'océan Indien	10
11	Le cercle polaire Arctique se situe-t-il au nord ou au sud ?	au nord	11
12	Les États-Unis sont à/au ☞ de l'Europe.	l'ouest	12
13	Par rapport à l'équateur, la Russie est à/au ☞.	nord	13
14	L'Antarctique est le continent le plus à/au ☞.	sud	14
15	Quel pays sur la carte se situe au nord de l'Inde ?	Chine	15
16	Le Brésil est à/au ☞ du méridien de Greenwich.	l'ouest	16
17	Quel pays est le plus au sud du continent africain ?	Afrique du Sud	17
18	L'Océan Arctique se situe à/au ☞.	nord	18
19	Quel pays est au nord des États-Unis ?	Canada	19
20	La Chine est à/au ☞ de la Russie.	sud	20
21	Le Brésil est à/au ☞ de l'Argentine.	nord	21
22	Quel océan est au sud du Japon ?	l'océan Pacifique	22



niv.1 : Réponds à la question sur les 4 directions cardinales.



	Questions	Solutions	
23	L'Océan Atlantique est à/au ☹ de l'Europe.	l'ouest	23
22	Où se situe Madagascar par rapport à la République Démocratique du Congo ?	à l'est	22
23	L'Australie est à/au ☹ de la Chine.	sud	23
24	Par rapport au méridien de Greenwich, où se situe l'Egypte ?	à l'est	24
25	Dans quelle direction mon avion vole-t-il pour aller d'Argentine au Mexique ?	nord	25
26	Quel pays se situe le plus au nord et sur le continent européen ?	Norvège	26
27	Le Maroc est à/au ☹ de l'Espagne.	sud	27
28	L'Amérique du Sud est à/au ☹ de l'Afrique.	l'ouest	28
29	Quel continent est au sud de l'Asie ?	l'Océanie	29
30	Le Japon est à/au ☹ de la Chine.	l'est	30
31	Madagascar est à/au ☹ de l'Australie.	l'ouest	31
32	Par rapport à l'équateur, la Russie est à/au ☹.	nord	32
33	Je décolle du Brésil et je vais vers l'ouest, quel océan suis-je en train de survoler ?	l'océan Pacifique	33
34	Par rapport au Groenland, où se situe le Maroc ?	au sud	34
35	Partant de Madagascar, dans quelle direction dois-je naviguer pour atteindre l'Afrique ?	ouest	35
36	Où se situe l'océan Arctique par rapport à la Russie ?	au nord	36
37	Quel pays se situe le plus au sud sur le continent Sud-Américain sur la carte ?	Argentine	37
38	Quel continent est à l'ouest de l'océan Atlantique ?	l'Amérique	38
39	Dans quel hémisphère se trouve l'Allemagne ?	le nord	39
40	La République Démocratique du Congo se situe au ☹ du Tropique du Cancer.	nord	40



niv.2 : Réponds à la question sur les 8 directions cardinales.



	Questions	Solutions	
1	L'Australie se situe à/au ☹ du Maroc.	sud-est	1
2	L'Allemagne est à/au ☹ de Madagascar.	nord-ouest	2
3	Cite l'océan le plus proche au sud-est de l'Egypte.	l'océan Indien	3
4	Le Brésil est à/au ☹ de l'Argentine.	nord-est	4
5	La République Démocratique du Congo est à/au ☹ de la Chine.	sud-ouest	5
6	La Russie est à/au ☹ de la Chine.	nord	6
7	Le Groenland est à/au ☹ du Canada.	nord-est	7
8	L'océan Atlantique est à/au ☹ de l'Espagne.	l'ouest	8
9	L'Argentine est un pays frontalier avec un grand pays qui se trouve au nord-est. De quel pays s'agit-il ?	le Brésil	9
10	L'Inde est à/au ☹ de l'Australie.	nord-ouest	10
11	Depuis le Groenland, si je prends l'avion vers le sud-ouest, quel continent vais-je rencontrer en premier ?	l'Amérique du nord	11
12	Le Mexique est à/au ☹ de la Norvège.	sud-ouest	12
13	Le Canada se trouve à/au ☹ de Madagascar.	nord-est	13
14	La Chine est à/au ☹ de l'Egypte.	nord-est	14
15	Si je vais au nord-ouest de l'Océanie, je me trouve sur quel continent ?	l'Europe	15
16	Quel océan vais-je retrouver à l'ouest de l'Australie?	l'océan Indien	16
17	La Nouvelle-Zélande est à/au ☹ de l'Australie.	sud-est	17
18	Quel pays se trouve au nord de l'Afrique du Sud ?	la République Dém. du Congo	18
19	Le Japon se situe à/au ☹ de l'Asie.	l'est	19
20	Partant du Canada, dans quelle direction dois-je voler pour atteindre la Russie au plus vite ?	l'ouest (la terre est ronde)	20



niv.2 : Réponds à la question sur les 8 directions cardinales.



	Questions	Solutions	
21	Cite un pays au sud du Brésil.	l'Argentine	21
22	Le Brésil se trouve à/au ☹ du Maroc.	sud-ouest	22
23	Quels pays d'Afrique se trouvent au nord de la République Démocratique du Congo ?	le Maroc et l'Algérie	23
22	Par rapport à la ligne de l'équateur, la France se trouve à/au ☹.	nord	22
23	Par rapport à la ligne de l'équateur, le Japon se trouve à/au ☹.	nord	23
24	L'Inde est à/au ☹ de la Chine.	sud-ouest	24
25	L'Allemagne est à/au ☹ de l'Espagne.	nord-ouest	25
26	Si je pars du Mexique et que je passe par les États-Unis et le Canada, dans quelle direction sera orienté mon trajet ?	nord	26
27	Par rapport à la ligne de l'équateur, l'Argentine se trouve à/au ☹.	sud	27
28	Le Groenland est à/au ☹ de l'Australie.	nord-ouest	28
29	Partant du Japon, je navigue plein nord. Quel pays vais-je atteindre ?	la Russie	29
30	Partant de la Nouvelle-Zélande, je navigue plein sud. Quel continent vais-je atteindre ?	l'Antarctique (la carte est rectangulaire mais la terre est ronde)	30
31	Si je vais au sud-est du Mexique, je me trouve sur quel continent ?	Amérique du Sud	31
32	L'Océanie se situe à/au ☹ de l'Asie.	sud-est	32
33	L'océan Pacifique se situe à/au ☹ de l'Amérique.	l'ouest	33
34	Je suis au sud du Brésil et je désire me rapprocher du Tropique du Capricorne. Dans quelle direction dois-je aller ?	nord	34
35	Quelle direction prend mon avion pour voler du Brésil en Norvège ?	nord-est	35
36	Quelle île se trouve à l'ouest de l'océan Indien ?	Madagascar	36
37	Quel pays est le plus à l'est de l'Asie ?	le Japon	37
38	Quel pays se trouve le plus au sud-est de la carte ?	la Nouvelle-Zélande	38



niv.3 : Réponds à la question sur les 8 directions cardinales et les distances/échelles.



	Questions	Solutions	
1	Quel continent se trouve au sud-est de la Chine ?	Océanie	1
2	Quel pays se trouve à 6 000 km à l'ouest de l'Espagne ?	Etats-Unis	2
3	Le Madagascar se situe à/au ☹ de la République démocratique du Congo.	sud-est	3
4	L'Équateur se trouve à ☹ km de la frontière nord de l'Argentine.	3 000 km	4
5	Tu habites en France et tu vas visiter les pyramides d'Égypte, dans quelle direction t'envoies-tu ?	sud-est	5
6	Un avion doit voler combien de km pour aller du Groenland à la France ?	3 500 km	6
7	Quel pays se trouve au nord de l'océan Indien ?	Inde	7
8	Quelle est la longueur du continent d'Afrique du nord au sud ?	9 500 km	8
9	Quelle est la distance que parcourt un samouraï volant japonais pour se rendre en Inde ?	4 000 km	9
10	L'Algérie se trouve à 1500 km au ☹ de l'Allemagne.	sud	10
11	Le Mexique est à ☹ km au nord-ouest du Brésil.	3 000 km	11
12	A vol d'oiseau, je pars du nord du Brésil pour aller vers le Maroc. Dans quelle direction je pars et quelle distance je parcours ?	nord-est, 5 000 km	12
13	Partant de l'Afrique du Sud, un navigateur courageux se dirige plein sud. Dans combien de kilomètres atteindra-t-il l'Antarctique.	4 000 km	13
14	Un avion part de la côte est du Mexique. Combien de kilomètres doit-il parcourir en longeant le Tropique du Cancer pour atteindre l'Afrique ?	8 500 km	14
15	Un voilier part de la République Démocratique du Congo et file droit vers l'ouest. Après combien de kilomètres parvient-il à la côte Brésilienne ?	5 000 km	15
16	L'Inde se trouve à/au ☹ de la Norvège.	sud-est	16
17	Par la mer, l'Afrique du Sud se situe combien de kilomètres de la République Démocratique du Congo.	3 500 km	17



niv.3 : Réponds à la question sur les 8 directions cardinales et les distances/échelles.



Questions		Solutions	
18	Quel pays d'Amérique se situe entre le Tropique du Capricorne et l'Equateur.	le Brésil	18
19	La Russie est à/au ☹ du Maroc.	nord-est	19
20	Un capitaine de bateau part du sud de la France pour l'Egypte. Quelle distance parcourt-il ?	3 000 km	20
21	La Chine est à/au ☹ de l'Inde.	nord-est / est	21
22	L'Inde est à/au ☹ de l'Afrique du Sud.	nord-est	22
23	Le Groenland à/au ☹ de la France.	nord-ouest	23
22	En suivant le Tropique du Capricorne, quelle est la distance entre Madagascar et l'Australie ?	7 000 km	22
23	Un avion part d'Egypte vers l'Allemagne. Dans quelle direction doit-il s'orienter ?	nord-ouest	23
24	Un aviateur américain veut parcourir la plus longue distance en ligne droite pour traverser les Etats-Unis. Quelle est cette distance ?	5 000 km	24
25	De la pointe sud de l'Inde, à l'est de l'Algérie, il y a ☹ km.	8 000 km	25
26	Un cheval russe désire galoper vers l'Océan Indien. Dans quelle direction doit-il s'orienter ?	sud	26
27	Si un oiseau doit voler du nord de l'Argentine, au sud du Mexique, quelle distance parcourt-il ?	6 000 km	27
28	La Nouvelle-Zélande est à ☹ kilomètres au sud-est de l'Australie.	1 500 km	28
29	Le Maroc est à/au ☹ du Méridien de Greenwich.	ouest	29
30	Le Japon est à ☹ kilomètres au nord de l'Australie.	6 000 km	30
31	L'Afrique est à/au ☹ de l'Amérique du Sud.	nord-est	31
32	La frontière entre la Chine et la Russie est à ☹ kilomètres au nord du Tropique du Cancer.	3 500 km	32
33	L'Egypte est à ☹ kilomètres à l'est du Méridien de Greenwich.	3 000 km	33